

الكيمياء

الصف الثاني عشر - المسار الأكاديمي

الفصل الدراسي الأول

كتاب الطالب

12

فريق التأليف

د. موسى عطا الله الطراونة (رئيسًا)

بلال فارس محمود تيسير أحمد الصيحات

جميلة محمود عطية

الناشر: المركز الوطني لتطوير المناهج والتقويم

يسر المركز الوطني لتطوير المناهج والتقويم استقبال آرائكم وملحوظاتكم على هذا الكتاب عن طريق العناوين الآتية:

☎ 06-5376262 / 237 📠 06-5376266 ✉ P.O.Box: 2088 Amman 11941

📌 @nccdjor 📧 feedback@nccd.gov.jo 🌐 www.nccd.gov.jo

قررت وزارة التربية والتعليم تدرّس هذا الكتاب في مدارس المملكة الأردنية الهاشمية جميعها، بناءً على قرار المجلس الأعلى للمركز الوطني لتطوير المناهج والتقويم في جلسته رقم (2025/2)، تاريخ 2025/2/25 م، وقرار مجلس التربية والتعليم رقم (2025/42)، تاريخ 2025/4/30 م، بدءاً من العام الدراسي 2025 / 2026 م.

© HarperCollins Publishers Limited 2025.

- Prepared Originally in English for the National Center for Curriculum Development and Evaluation.

Amman - Jordan

- Translated to Arabic, adapted, customised and published by the National Center for Curriculum Development and Evaluation. Amman - Jordan

ISBN: 978 - 9923 - 863 - 94 - 7

المملكة الأردنية الهاشمية
رقم الإيداع لدى دائرة المكتبة الوطنية
(2025/12/7313)

بيانات الفهرسة الأولية للكتاب:

عنوان الكتاب	الكيمياء، كتاب الطالب: الصف الثاني عشر، المسار لأكاديمي، الفصل الدراسي الأول
إعداد / هيئة	الأردن. المركز الوطني لتطوير المناهج
بيانات النشر	عمان: المركز الوطني لتطوير المناهج، 2025
رقم التصنيف	375,001
الوصفات	/ تطوير المناهج // المقررات الدراسية // مستويات التعليم /
الطبعة	الطبعة الثانية، مزيدة ومنقحة

يتحمل المؤلف كامل المسؤولية القانونية عن محتوى مصنفه، ولا يعبر هذا المصنف عن رأي دائرة المكتبة الوطنية.

المراجعة والتعديل

بلال فارس محمود / جميلة محمود عطية / د. فداء فايز العضايلة

التحكيم الأكاديمي

د. عماد محمد خير حمادة

التصميم والإخراج

نايف محمد أمين مراشدة

التحرير اللغوي

سامر مازن الخطيب

All rights reserved. No part of this publication may be reproduced, sorted in retrieval system, or transmitted in any form by any means, electronic, mechanical, photocopying, recording or otherwise, without the prior written permission of the publisher or a license permitting restricted copying in the United Kingdom issued by the Copyright Licensing Agency Ltd, Barnard's Inn, 86 Fetter Lane, London, EC4A 1EN.

British Library Cataloguing -in- Publication Data

A catalogue record for this publication is available from the Library.

1446 هـ / 2025 م

1447 هـ / 2026 م

الطبعة الأولى (التجريبية)

الطبعة الثانية

قائمة المحتويات

الموضوع	الصفحة
المقدمة	5
الوحدة الأولى: حالات المادة	7
التجربة الاستهلاكية: العلاقة بين حجم الغاز ودرجة حرارته عند ثبات الضغط	9
الدرس الأول: الحالة الغازية	10
الدرس الثاني: الحالة السائلة	26
الدرس الثالث: الحالة الصلبة	36
الإثراء والتوسع: الحالة الرابعة للمادة	43
مراجعة الوحدة	44
الوحدة الثانية: المحاليل	47
التجربة الاستهلاكية: خصائص المحاليل	49
الدرس الأول: تصنيف المحاليل	50
الدرس الثاني: خصائص المحاليل	60
الإثراء والتوسع: أنابيب الكربون النانوية	71
مراجعة الوحدة	72

75..... الوَحْدَةُ الثالثة: الاتزان الكيميائي

77 التجربة الاستهلاكية: تسامي اليود

78 الدرس الأول: الاتزان الكيميائي والعوامل المؤثرة فيه

94 الدرس الثاني: تعبيرات ثابت الاتزان والحسابات المتعلقة به

108 الإثراء والتوسع: حماية الأسنان من التآكل

109 مراجعة الوحدة

115..... الوَحْدَةُ الرابعة: الحموض والقواعد وتطبيقاتها

117 التجربة الاستهلاكية: خصائص الحمض والقاعدة

118 الدرس الأول: الحموض والقواعد

131 الدرس الثاني: الرقّم الهيدروجيني ومحاليل الحموض والقواعد القويّة

147 الدرس الثالث: محاليل الحموض والقواعد الضعيفة

159 الدرس الرابع: الأملاح والأيون المشترك

170 الإثراء والتوسع: المحلول المنظم في الدم

171 مراجعة الوحدة

175 مسرّد المصطلحات

المقدمة

الحمد لله ربّ العالمين، والصلاة والسلام على أشرف الأنبياء والمرسلين، انطلاقاً من إيمان المملكة الأردنية الهاشمية الراسخ بأهمية تنمية قدرات الإنسان الأردني وتسلّحه بالعلم والمعرفة، سعى المركز الوطني لتطوير المناهج والتقويم، بالتعاون مع وزارة التربية والتعليم، إلى تحديث المناهج الدراسية وتطويرها؛ لتكون معيّنًا للطلبة على الارتقاء بمستواهم المعرفي، ومجارة أقرانهم في الدول المتقدمة.

ويُعَدُّ هذا الكتاب واحداً من سلسلة كتب المباحث العلمية التي تُعنى بتنمية المفاهيم العلمية، ومهارات التفكير وحلّ المشكلات، ودمج المفاهيم الحياتية والمفاهيم العابرة للمواد الدراسية، والإفادة من الخبرات الوطنية في عمليات الإعداد والتأليف وفق أفضل الطرائق المتّبعة عالمياً؛ لضمان انسجامها مع القيم الوطنية الراسخة، وتلبيتها حاجات الطلبة والمعلّمين والمعلّمات.

وقد جاء هذا الكتاب مُحققاً لمضامين الإطار العام والإطار الخاص للعلوم، ومعاييرها، ومؤشّرات أدائها المُتمثّلة في إعداد جيل محيط بمهارات القرن الواحد والعشرين، وقادر على مواجهة التحديات، ومُعزّز - في الوقت نفسه - بانتمائه الوطني. وتأسيساً على ذلك، فقد اعتُمدت دورة التعلّم الخماسية المنبثقة من النظرية البنائية التي تمنح الطلبة الدور الأكبر في العملية التعلّمية التعليمية، وتوفّر لهم فرصاً عديدة للاستقصاء، وحلّ المشكلات، والبحث، واستخدام التكنولوجيا وعمليات العلم؛ واشتمل الكتاب على صور ورسومات وجداول توضيحية تساعد الطلبة على فهم وربط المعلومات معاً، علماً بأن الطلبة ليسوا مطالبين بحفظ القيم في الجداول كافة. كما اعتُمدت منهجى STEAM في التعليم الذي يُستعمل لدمج العلوم والتكنولوجيا والهندسة والفن والعلوم الإنسانية والرياضيات في أنشطة الكتاب المتنوعة، وفي قضايا البحث.

يتألّف الكتاب من أربع وحدات دراسية، هي: حالات المادة، المحاليل، الاتزان، والحموض والقواعد.

ألحق بكتاب الكيمياء كتاباً للأنشطة والتجارب العملية، يحتوي على جميع التجارب والأنشطة الواردة في كتاب الطالب؛ للمساعدة على تنفيذها بسهولة، وذلك اعتماداً على منهجى STEAM في بعضها، بدءاً بعرض الأساس النظري لكل تجربة، وبيان خطوات العمل وإرشادات السلامة، وانتهاءً بأسئلة التحليل والاستنتاج. وتضمّن الكتاب أيضاً أسئلة تفكير متنوعة؛ بُغية تعزيز فهم الطلبة لموضوعات المادة، وتنمية التفكير الناقد لديهم.

ونحن إذ نُقدِّمُ هذه الطبعةَ من الكتاب، فإننا نأملُ أن يُسهِمَ في تحقيق الأهداف والغايات النهائية المنشودة لبناء شخصيَّة المتعلِّم، وتنمية اتجاهات حُبِّ التعلُّم ومهارات التعلُّم المستمرِّ، فضلاً عن تحسين الكتاب بإضافة الجديد إلى محتواه، وإثراء أنشطته المتنوّعة، والأخذ بملاحظات المعلِّمين والمعلمات.

والله ولي التوفيق

المركز الوطني لتطوير المناهج والتقويم

حالات المادة

States of Matter

الوحدة

1

أَتأمَلُ الصَّوْرَةَ

يرافق البراكينَ مقذوفاتٌ بركانيَّةٌ في حالاتِ المادَّةِ الثلاثِ؛ صُلْبَةٌ تترسَّبُ قريبًا من فوهة البركانِ، وسائِلَةٌ تجري لمسافاتٍ بعيدةٍ ثمَّ تبردُ وتتصلَّبُ، وغازيَّةٌ تنتشرُ وتختلطُ معَ الهواءِ الجويِّ. ما الخصائصُ الفيزيائيَّةُ المميِّزة للمادَّةِ في كلِّ حالةٍ؟ وكيف تُفسَّرُ؟

الفكرة العامة:

توجد المادة في حالات فيزيائية ثلاث؛ صلبة وسائلة وغازية، لكل حالة منها خصائص فيزيائية مميزة لها.

الدرس الأول: الحالة الغازية

الفكرة الرئيسية: تفسر نظرية الحركة الجزيئية خصائص الغازات، وتستخدم قوانين الغازات في وصف العلاقة بين العوامل التي تؤثر في سلوك الغاز.

الدرس الثاني: الحالة السائلة

الفكرة الرئيسية: تمتاز السوائل بخصائص محددة تعتمد على قوى التجاذب بين جزيئاتها.

الدرس الثالث: الحالة الصلبة


الفكرة الرئيسية: تُقسّم المواد الصلبة إلى نوعين رئيسيين؛ مواد صلبة بلورية ومواد صلبة غير بلورية، وتُصنّف المواد الصلبة البلورية إلى أربعة أنواع بحسب خصائصها الفيزيائية.

جعة



تجربة استهلاكية

العلاقة بين حجم الغاز ودرجة حرارته عند ثبات الضغط



التحليل والاستنتاج:

- 1- أصف التغيير في حجم البالون الذي وُضع في الحَمَام الثلجيّ.
- 2- أصف التغيير في حجم البالون الذي وُضع في الحَمَام المائيّ الساخن.
- 3- **أستنتج** العلاقة بين درجة حرارة الهواء داخل البالون وحجمه عند ثبوت الضغط.

الموادّ والأدوات: بالون عدد (2)، قلم تخطيط، متر مصنوع من القماش أو الورق، حَمَام ثلجيّ، حَمَام مائيّ ساخن.

إرشادات السلامة:

- أتبع إرشادات السلامة العامّة في المختبر.

- أردي معطف المختبر والنظارات الواقية والقفازات.

خطوات العمل:

- 1 أحضر بالونين وأنفخهما وأربط فوهة كل منهما جيداً، ثمّ أرسّم باستخدام القلم دائرة على كلّ منهما، كما في الشكل.
- 2 **أقيس** محيط الدائرة المرسومة على كلّ منهما باستخدام المتر، وأسجّله.
- 3 أضع أحد البالونين في حَمَام ثلجيّ والآخر في حَمَام مائيّ ساخن مدّة 10 min.
- 4 أخرج البالونين وأقيس محيط الدائرة المرسومة على كلّ منهما مباشرةً، وأسجّل ملاحظاتي.

الخصائص الفيزيائية للغازات

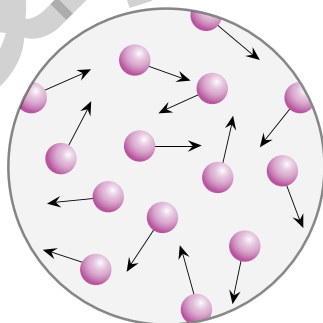
Physical Properties of Gases

تمتلك المادة في الحالة الغازية خصائص فيزيائية معينة؛ فمثلاً؛ يتمدد الغاز تلقائياً وينتشر ليملاً الوعاء الذي يوضع فيه؛ لذلك فإن حجمه يساوي حجم الوعاء. كما أن الغازات قابلة للانضغاط Compressible، فعند زيادة الضغط المؤثر فيها يقل حجمها. استطاع العلماء تفسير خصائص الغازات وسلوكها الفيزيائي عن طريق نظرية الحركة الجزيئية.

نظرية الحركة الجزيئية The Kinetic Molecular Theory

طَوَّر العلماء نظرية سُمِّيت **نظرية الحركة الجزيئية** **The Kinetic Molecular Theory**، افترضت هذه النظرية وجود غاز سُمِّيَ **الغاز المثالي** **Ideal Gas**، وهو غاز افتراضي حجم جسيماته يساوي صفراً وقوى التجاذب بينها معدومة، وتنطبق عليه بنود نظرية الحركة الجزيئية وقوانين الغاز. بنود نظرية الحركة الجزيئية:

- تتكوّن الغازات من جسيمات (جزيئات أو ذرات) متناهية في الصغر (مهملة الحجم) ومتباعدة جداً؛ أي أن بينها فراغات كبيرة؛ ممّا يعني أن معظم الحجم الذي يشغله الغاز فراغ. وهو ما يفسّر قابلية الغازات للانضغاط بسهولة.
- تتحرّك جسيمات الغاز حركةً مستمرةً وعشوائيةً وسريعةً في جميع الاتجاهات وبخطوط مستقيمة. وهذا ما يكسبها طاقةً حركيةً تغلب على قوى التجاذب بينها. كما في الشكل (1).



الشكل (1): الحركة العشوائية لجسيمات الغاز.

الفكرة الرئيسة:

تفسّر نظرية الحركة الجزيئية خصائص الغازات، وتستخدم قوانين الغازات في وصف العلاقة بين العوامل التي تؤثر في سلوك الغاز.

نتائج التعلم:

- أفسّر الخصائص الفيزيائية للغازات اعتماداً على نظرية الحركة الجزيئية.
- أتوصل إلى قوانين الغازات وقانون الغاز المثالي؛ لفهم سلوك الغازات وتطبيقاتها العملية.
- أجري حسابات مستخدماً قوانين الغازات المختلفة وقانون الغاز المثالي.

المفاهيم والمصطلحات:

نظرية الحركة الجزيئية

Kinetic Molecular Theory

Ideal Gas الغاز المثالي

Elastic Collisions تصادمات مرنة

Boyle's Law قانون بويل

Charles's Law قانون شارل

Gay-Lussac's Law قانون جاي-لوساك

Combined Gas Law القانون الجامع للغازات

Avogadro's Law قانون أفوجادرو

Molar Volume الحجم المولي

Ideal Gas Law قانون الغاز المثالي

قانون دالتون للضغوط الجزئية

Dalton's Law Of Partial Pressures

■ تتصادم جسيمات الغاز في ما بينها، كما تتصادم مع جدار الإناء الموجودة فيه
تصادمًا مرناً **Elastic Collision**؛ ويكون التصادم مرناً عندما يبقى مجموع
الطاقة الحركية للجسيمات ثابت، فالطاقة التي يفقدها أحد الجسيمات
يكسبها جسيم آخر عند درجة الحرارة نفسها.

■ قوى التجاذب بين جسيمات الغاز المثالي معدومة؛ لذلك لا يمكن إسألته
مهما زاد الضغط المؤثر فيه أو انخفضت درجة حرارته.

■ يعتمد متوسط الطاقة الحركية Kinetic Energy لجسيمات الغاز على سرعتها
التي تزداد بزيادة درجة الحرارة.

الغازات الحقيقية Real Gases

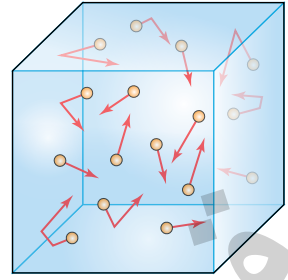
في الظروف العادية، تكون المسافات بين جسيمات الغاز الحقيقي كبيرة
وقوى التجاذب بينها ضعيفة؛ لذا، يُشبه سلوكه الغاز المثالي. ولكن، عند زيادة
الضغط أو خفض درجة الحرارة تقل المسافات بين الجسيمات وتزداد قوى
التجاذب، فتقل الحركة العشوائية وينحرف الغاز عن السلوك المثالي. ويزداد هذا
الانحراف كلما زادت قوى التجاذب بين الجسيمات. مثال ذلك الهيليوم؛ لأن
تجاذبه ضعيف يُشبه الغاز المثالي، لكنه عند ضغط عالٍ وحرارة منخفضة جدًا
تتقارب ذراته ويتحول إلى سائل.

أفكر: أيّ الغازين Ne أم NH_3
تتوقع أن يكون أقرب في
سلوكه إلى الغاز المثالي عند
الظروف نفسها؟

✓ **أتحقق:** ما الظروف التي يكون سلوك الغاز الحقيقي عندها أقرب إلى
سلوك الغاز المثالي؟

قوانين الغاز The Gas Laws

عرفت أنّ جسيمات الغاز في حركة دائمة ومستمرّة وعشوائية، ومن ثمّ فإنّها تتصادم مع بعضها بعضاً من ناحية وتصطدم بجدار الإناء المحصورة فيه من ناحية أخرى، كما في الشكل (2). يولّد التصادم المستمرّ بجدار الإناء الداخليّ قوّة تؤثّر فيه تسمّى ضغط الغاز، وهي القوّة المؤثّرة في وحدة المساحة. ويعتمد ضغط كمية محدّدة من الغاز على عاملين، هما: حجم الغاز، ودرجة حرارته.



الشكل (2): ينشأ ضغط الغاز عن التصادمات المستمرة لجسيمات الغاز مع جدار الإناء.

وحدات قياس الضغط ورموزها والعلاقات بينها:

ضغط جوي (atm)

مليمتر زئبق (mmHg) ، $1 \text{ atm} = 760 \text{ mmHg}$

كيلوباسكال (kPa) ، $1 \text{ atm} = 101.3 \text{ kPa}$

توضّح قوانين الغاز العلاقات الرياضيّة بين كلّ من؛ كمية الغاز وحجمه و ضغطه ودرجة حرارته.

المثال 1

قيس ضغط الغاز في أسطوانة غاز؛ فوجد يساوي 798 mmHg ، أحسب ضغط الغاز بوحدة atm وبوحدة kPa .

المعطيات: ضغط الغاز بوحدة mmHg : $P = 798 \text{ mmHg}$

المطلوب: حساب الضغط بوحدة ضغط جوي atm ، وبوحدة كيلو باسكال kPa .

الحل:

للتحويل من وحدة mmHg إلى وحدة atm ؛ أستخدم العلاقة:

$$1 \text{ atm} = 760 \text{ mmHg}$$

$$P(\text{atm}) = 798 \text{ mmHg} \times \frac{1 \text{ atm}}{760 \text{ mmHg}} = 1.05 \text{ atm}$$

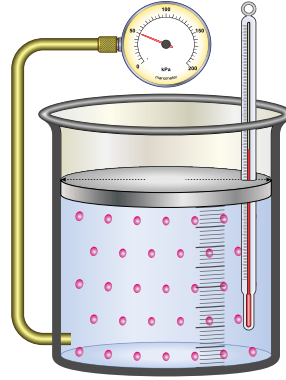
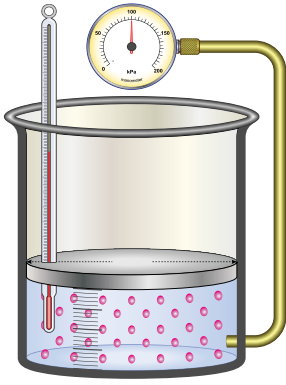
للتحويل من وحدة mmHg إلى وحدة kPa ؛ أستخدم العلاقة:

$$760 \text{ mmHg} = 101.3 \text{ kPa}$$

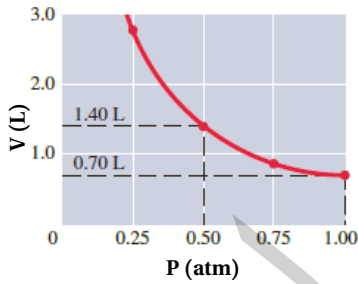
$$P(\text{kPa}) = 798 \text{ mmHg} \times \frac{101.3 \text{ kPa}}{760 \text{ mmHg}} = 106.4 \text{ kPa}$$

قانون بويل Boyle's Law

درس العالم بويل العلاقة بين ضغط الغاز المحصور وحجمه عند ثبات درجة حرارته، وتوصل إلى أن مضاعفة ضغط كمية محددة من الغاز المحصور يؤدي إلى نقصان حجمه إلى النصف، وأن إنقاص ضغطه إلى النصف يؤدي إلى زيادة حجمه إلى الضعف، كما يبين الشكل (3)، وينص قانون بويل Boyle's Law على أن: «حجم كمية محددة من الغاز المحصور يتناسب عكسياً مع الضغط الواقع عليه عند ثبات درجة حرارته».



الشكل (3): أثر ضغط الغاز في حجمه عند ثبات درجة حرارته.



الشكل (4): العلاقة بين ضغط عينة من غاز محصور وحجمه عند ثبات درجة حرارته.

✓ **أتحقق:** عينة من غاز محصور حجمها 4 L عند ضغط 2 atm، سُمح لها بالتمدد حتى أصبح حجمها 12 L. أحسب ضغطها عند درجة حرارته.

يُعبّر عن قانون بويل رياضياً على النحو الآتي:

عند ثبات درجة الحرارة، فإن:

$$P \times V = \text{Constant}$$

$$P_1 \times V_1 = P_2 \times V_2$$

وبهذا نجد أن: حيث V : حجم الغاز، ويمكن قياسه بوحدة اللتر (L) أو المليلتر (mL)، P : ضغط الغاز.

ويمكن تفسير قانون بويل باستخدام نظرية الحركة الجزيئية؛ إذ إن زيادة الضغط المؤثر في الغاز المحصور يؤدي إلى تقارب جسيماته وتقل الفراغات في ما بينها فيقل حجم الغاز، عند ثبات درجة حرارته كما في الشكل (4).

المثال 2

عينة من غاز محصور حجمها 150 mL وضغطها 0.950 atm، أحسب حجمها بوحدة (mL) حين يصبح ضغطها مساوياً 0.990 atm؛ عند درجة حرارته نفسها.

المعطيات: $V_1 = 150 \text{ mL}$, $P_1 = 0.950 \text{ atm}$, $P_2 = 0.990 \text{ atm}$

المطلوب: حساب V_2 عند درجة حرارته نفسها

الحل:

$$P_1 \times V_1 = P_2 \times V_2$$

أكتب القانون

أعيد ترتيب القانون لحساب V_2 :

$$V_2 = P_1 \times \frac{V_1}{P_2} = \frac{0.950 \text{ atm} \times 150 \text{ mL}}{0.990 \text{ atm}} = 143.94 \text{ mL}$$

قانون شارل Charles's Law

درس العالم شارل أثر تغيير درجة حرارة الغاز المحصور في حجمه عند ثبات ضغطه، وتوصل إلى أن زيادة درجة حرارة الغاز المطلقة تزيد من حجمه عند ثبات ضغطه، كما يبين الشكل (5). سُميت هذه العلاقة **قانون شارل Charles's Law**، وينصُّ أن: «حجم كمية محددة من الغاز المحصور يتناسبُ تناسباً طردياً مع درجة حرارته المطلقة عند ثبات ضغطه».

يُعبر عن قانون شارل رياضياً على النحو الآتي:

عند ثبات الضغط (P) فإنَّ

$$\frac{V}{T} = \text{constant}$$

$$\frac{V_1}{T_1} = \frac{V_2}{T_2}$$

ومنها نجد أنَّ:

حيثُ V: حجم الغاز، T: درجة الحرارة بالكلفن.

ويمكن تفسير قانون شارل باستخدام نظرية الحركة الجزيئية؛ حيث إنَّ زيادة درجة حرارة الغاز تزيد من متوسط الطاقة الحركية لجسيماته، فتزداد سرعتها ويزداد عدد تصادماتها، مع جدار الإناء، ولكي يبقى ضغط الغاز المحصور ثابتاً؛ فلا بُدَّ من زيادة حجمه.

المثال 3

عينة من غاز محصور (الأكسجين) حجمها 6.82 L عند 327 °C أحسب حجمها بوحدة (L) عند 27 °C بفرض ثبات الضغط.

المعطيات $V_1 = 6.82 \text{ L}, T_1 = 327 \text{ }^\circ\text{C}, T_2 = 27 \text{ }^\circ\text{C}$

المطلوب: حساب V_2 بفرض ثبات الضغط (P).

الحل:

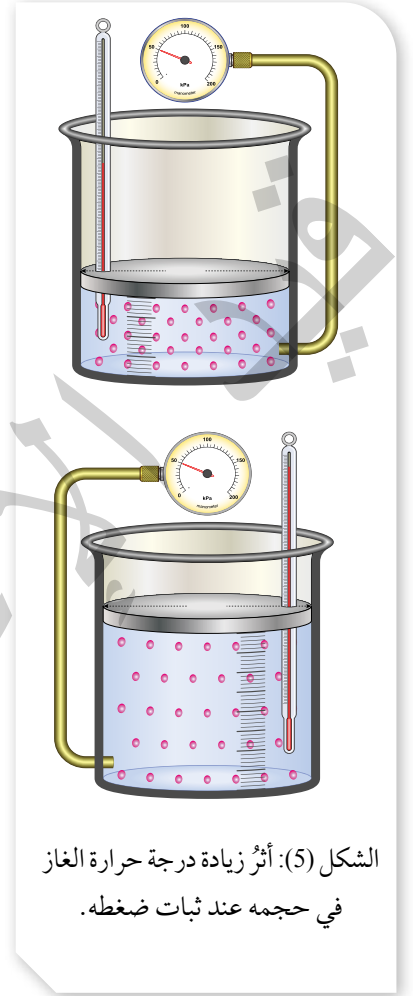
تحويل درجات الحرارة من °C إلى K

$$T_1 = 327 \text{ }^\circ\text{C} + 273 = 600 \text{ K}$$

$$T_2 = 27 \text{ }^\circ\text{C} + 273 = 300 \text{ K}$$

كتابة القانون

$$\frac{V_1}{T_1} = \frac{V_2}{T_2}$$



الشكل (5): أثر زيادة درجة حرارة الغاز في حجمه عند ثبات ضغطه.

درجة الحرارة المطلقة بالكلفن تحسب بالمعادلة الآتية:

$$T(\text{K}) = T(^{\circ}\text{C}) + 273$$

إعادة ترتيب القانون لحساب V_2 ، ثم التعويض:

$$V_2 = V_1 \times \frac{T_2}{T_1}$$

$$V_2 = \frac{6.82 \text{ L} \times 300 \text{ K}}{600 \text{ K}}$$

$$V_2 = 3.41 \text{ L}$$

ألاحظ أن خفض درجة الحرارة المطلقة إلى النصف (600 K → 300 K) يلزم تقليل حجم الغاز إلى النصف (6.82 L → 3.41 L) للحفاظ على ثبات الضغط.

✓ **أتحقق:** عينة من غاز محصور

حجمها 430 mL عند 24 °C،

عند أي درجة حرارة يصبح

حجمها 0.75 L بفرض ثبات

الضغط؟

التجربة 1

قانون بويل

المواد والأدوات اللازمة:

محقن طبي 50 mL، ساعة لقياس الضغط، أنبوب مطاطي.

إرشادات السلامة:

- أتبع إرشادات السلامة العامة في المختبر.
- ارتدي معطف المختبر والنظارات الواقية والقفازات.

خطوات العمل:

1. أركب الجهاز، كما هو موضح في الشكل.
2. أحكم إغلاق الأنبوب المطاطي في المحقن وساعة قياس الضغط.
3. **أقيس:** أسحب مكبس المحقن الطبي إلى أعلى وأسجل قيمة الضغط. أكرر ذلك عند بقية الحجم في الجدول، ثم أسجل ملاحظاتي.

الحجم (mL)	40	35	30	25	20	15	10
الضغط (atm)							
$\frac{1}{P}$							

التحليل والاستنتاج:

1. **أرسم بيانياً** العلاقة بين حجم الغاز وضغطه.
2. **أرسم بيانياً** العلاقة بين حجم الغاز V و $\frac{1}{P}$.
3. أصف العلاقة بين ضغط الغاز وحجمه. وأفسرها.

قانون جاي - لوساك Gay-Lussac's Law

درَس العالمُ جاي- لوساك العلاقةَ بين ضغط الغاز ودرجة حرارته عند ثبات حجمه. يُطلقُ على هذه العلاقة **قانون جاي- لوساك Gay-Lussac's Law**، وينصُّ أن «ضغط كمية محدّدة من الغاز المحصور يتناسبُ طرديًا مع درجة حرارته المطلقة عند ثبات حجمه». تفسّر نظريّة الحركة الجزيئيّة قانونَ جاي- لوساك؛ إذ تؤدي زيادة درجة حرارة الغاز إلى زيادة متوسط الطاقة الحركية لجسيماته، ومن ثمّ تزداد سرعتها ويزداد عدد تصادماتها فيزداد ضغطه عند ثبات حجمه، كما يبيّن الشكل (6).

يُعبر عن قانون جاي- لوساك رياضياً على النحو الآتي:

$$\frac{P_1}{T_1} = \frac{P_2}{T_2}$$

حيثُ P: ضغط الغاز. T: درجة الحرارة بالكلفن.

المثال 4

تحمّل عبوات الرذاذ، مثل ملطّفات الجوّ ومثبّات الشّعْر، إشاراتٍ تحذّر من تسخين العلبة أو تخزينها على درجات حرارة عالية. إذا علمت أنّ ضغط الغاز داخل إحدى هذه العبوات **775 mmHg** عند درجة حرارة **25 °C**، وارتفعت درجة حرارة الجو إلى **40 °C**، فأحسبُ ضغطَ الغاز داخلها بوحدة **mmHg** وبوحدة **kPa**.

المعطيات: $P_1 = 775 \text{ mm Hg}$, $T_1 = 25 \text{ °C}$, $T_2 = 40 \text{ °C}$

ألاحظ أنّ حجم العلبة الفلزية يبقى ثابتاً.

المطلوب: حساب P_2 .

الحلّ:

أحوّل درجات الحرارة من °C إلى K

$$T_1 = 25 \text{ °C} + 273 = 298 \text{ K}, T_2 = 40 \text{ °C} + 273 = 313 \text{ K}$$

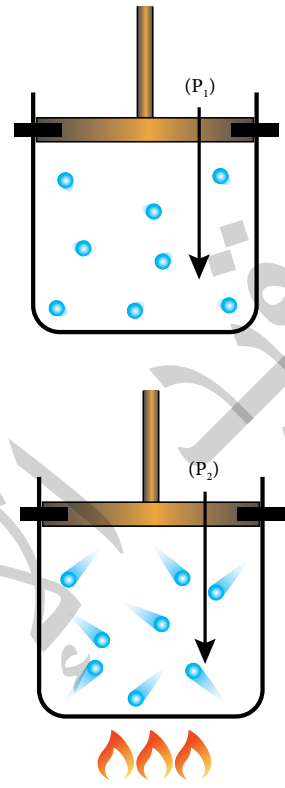
$$\frac{P_1}{T_1} = \frac{P_2}{T_2} \quad \text{أكتبُ القانون}$$

أعيدُ ترتيب القانون لحساب P_2 بوحدة mmHg ثم أعوّض:

$$P_2 = P_1 \times \frac{T_2}{T_1} = \frac{775 \text{ mmHg} \times 313 \text{ K}}{298 \text{ K}} = 814.0 \text{ mmHg}$$

$$760 \text{ mmHg} = 101.3 \text{ kPa} \quad \text{أحسبُ } P_2 \text{ بوحدة kPa}$$

$$P_2 (\text{kPa}) = 814.0 \text{ mmHg} \times \frac{101.3 \text{ kPa}}{760 \text{ mmHg}} = 108.497 \text{ kPa}$$



الشكل (6): أثر درجة الحرارة في الطاقة الحركية لجسيمات الغاز، حيث P_2 أكبر من P_1 .

✓ **أتحقّق:** إذا كان ضغطُ الهواء

داخلَ إطار سيارَة 1.85 atm عند

27 °C، وبعد قيادتها لمسافة

معينة أصبحَ 2.2 atm، فأحسبُ

درجة حرارته، بفرض ثبات

حجمه.



الربط بالأرصاد الجوية



بالونات الطقس

تحمّل بالونات الطقس أجهزة خاصة لقياس عناصر الطقس (درجات الحرارة، الرطوبة، الضغط الجوي) في طبقات الجو العليا، وما إن تُسجّل هذه البيانات حتى تُرسل إلى المحطات الأرضية؛ ما يسهم في دقة التنبؤات الجوية. وعندما يصل بالون الطقس إلى ارتفاع يزيد على 27 km ينفجر بسبب زيادة حجم الغاز فيه الناجم عن انخفاض الضغط الخارجي المؤثر في البالون. وتعدّ دائرة الأرصاد الجوية الأردنية مسؤولة عن إطلاق هذه البالونات؛ حيث أنشئت محطة خاصة لهذه الغاية في محافظة المفرق.

✓ **أتحقّق:** إذا علمت أن بالوناً

يحتوي على 50 L من غاز الهيليوم عند درجة حرارة 25 °C و ضغط 1.08 atm؛ فأحسب حجمه عند ضغط 0.80 atm ودرجة حرارة 10 °C.

The Combined Gas Law القانون الجامع للغازات

يصاحبُ تغيّر درجة حرارة الغاز تغيّر في حجمه و ضغطه معاً؛ لذلك جمع العلماء قوانين الغاز الثلاثة بويل وشارل وجاي - لوساك، في قانون واحد سُمّي القانون الجامع للغازات The Combined Gas Law؛ إذ يصف العلاقة بين ضغط كمية محدّدة من الغاز المحصور وحجمها ودرجة حرارتها.

يُعبر عن القانون الجامع رياضياً على النحو الآتي:

$$\frac{P_1 \times V_1}{T_1} = \frac{P_2 \times V_2}{T_2}$$

حيثُ P: ضغط الغاز، T: درجة الحرارة بالكلفن، V: حجم الغاز.

المثال 5

عينة من الهواء حجمها 5 L، و ضغطها 803 mmHg عند درجة حرارة 20 °C -

أحسب ضغطها إذا سُخّنت حتى أصبح حجمها 7 L ودرجة حرارتها 97 °C

المعطيات:

$$P_1 = 803 \text{ mmHg}, T_1 = -20 \text{ }^\circ\text{C}, V_1 = 5 \text{ L}, V_2 = 7 \text{ L}, T_2 = 97 \text{ }^\circ\text{C}$$

المطلوب: حساب P₂.

الحل:

أحوّل درجات الحرارة من °C إلى K

$$T_1 = -20 \text{ }^\circ\text{C} + 273 = 253 \text{ K}, T_2 = 97 \text{ }^\circ\text{C} + 273 = 370 \text{ K}$$

$$\frac{P_1 \times V_1}{T_1} = \frac{P_2 \times V_2}{T_2}$$

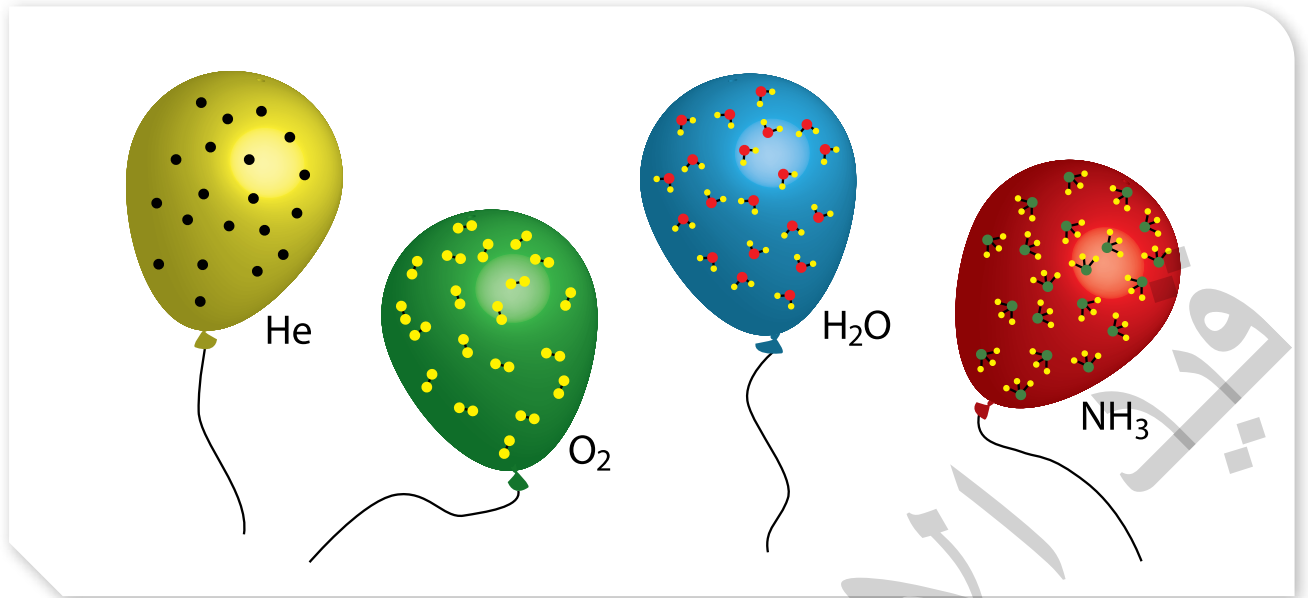
أكتب القانون:

أعيد ترتيب القانون لحساب P₂، ثم أعوِّض:

$$P_2 = \frac{P_1 \times V_1 \times T_2}{T_1 \times V_2}$$

$$= \frac{803 \text{ mmHg} \times 5 \text{ L} \times 370 \text{ K}}{253 \text{ K} \times 7 \text{ L}}$$

$$= 838.82 \text{ mmHg}$$



قانون أفوجادرو Avogadro's Law

تتأثر الخصائص الفيزيائية لكمية محددة من الغاز المحصور بثلاثة عوامل: الحجم، والضغط، ودرجة الحرارة. ولكن، ماذا لو تغيرت كمية الغاز؟ درس العالم أفوجادرو العلاقة بين حجم الغاز وكميته، وتوصل إلى أن: «الحجوم المتساوية من الغازات المختلفة تحتوي العدد نفسه من الجسيمات عند الظروف نفسها من الضغط ودرجة الحرارة»، وهو ما يُعرف **بقانون أفوجادرو Avogadro's Law** كما في الشكل (7).

وقد توصل العالم أفوجادرو أيضًا إلى أن حجم المول الواحد من أي الغاز يساوي (22.4 L) في الظروف المعيارية، وسمي **الحجم المولي Molar Volume** للغاز. بناءً على ما سبق، فإن حجم الغاز المحصور يتناسب طرديًا مع عدد مولاته عند ثبات ضغطه ودرجة حرارته.

يُعبّر رياضياً عن العلاقة بين حجم الغاز وعدد مولاته عند ثبات الضغط ودرجة الحرارة على النحو الآتي:

$$\frac{V_1}{n_1} = \frac{V_2}{n_2}$$

حيث V : حجم الغاز، n : عدد المولات.

الشكل (7): مجموعة من الغازات لها الحجم نفسه عند الظروف نفسها.

الظروف المعيارية للغازات
Standard Temperature and
Pressure (STP):

درجة حرارة (0 °C).

وضغط يساوي (1 atm).

أفكر: كيف يتغير ضغط الغاز عند زيادة عدد مولاته مع بقاء حجمه ودرجة حرارته ثابتين؟

تفسّر نظريّة الحركة الجزيئيّة العلاقة بين حجم الغاز وعدد مولاته؛ إذ إنّ زيادة عدد مولات الغاز تزيد من عدد جسيماته، ومن ثمّ يزداد عدده تصادماتها مع جدار الإناء، ولكي يبقى ضغط الغاز ودرجة حرارته ثابتين؛ فلا بُدّ من زيادة حجمه.

المثال 6

إذا علمت أنّ بالوناً حجمه 2.2 L يحتوي على 0.1 mol من غاز الهيليوم، ضُخّت داخله كمية إضافية من الغاز فأصبح حجمه 2.8 L، فأحسب عدد مولات الغاز بعد الإضافة، بفرض ثبات ضغطه ودرجة حرارته.

المعطيات:

الضغط ودرجة الحرارة ثابتان.

$$V_1 = 2.2 \text{ L}, \quad n_1 = 0.1 \text{ mol}, \quad V_2 = 2.8 \text{ L}$$

المطلوب: حساب n_2 .

الحلّ:

أكتب القانون:

$$\frac{V_1}{n_1} = \frac{V_2}{n_2}$$

أعيد ترتيب القانون لحساب n_2 ، ثمّ أعوض:

$$n_2 = \frac{n_1 \times V_2}{V_1} = \frac{0.1 \text{ mol} \times 2.8 \text{ L}}{2.2 \text{ L}}$$

$$n_2 = 0.127 \text{ mol}$$

✓ **أنتحقّق:** ما الحجم الذي يشغله 3.5 mol من غاز الكلور Cl_2 في الظروف

المعياريّة؟

قانون الغاز المثالي Ideal Gas Law

ربط العلماء بين ضغط الغاز وحجمه ودرجة حرارته وعدد مولاته بعلاقة رياضية؛ تُعرف بقانون الغاز المثالي Ideal Gas Law، حيث ينطبق القانون على الغاز المثالي وهو غاز افتراضي، ويمكن تطبيقه على الغازات الحقيقية بافتراض أنها تسلك سلوك الغاز المثالي على النحو الآتي:

$$PV = nRT$$

حيث P: ضغط الغاز، V: حجم الغاز، n: عدد المولات، R: ثابت الغاز العام، T: درجة الحرارة بالكلفن.
R: ثابت الغاز العام، ويساوي (0.082 L.atm/mol.K).

المثال 7

أحسب الضغط الناتج عن 0.45 mol من غاز ما في وعاء حجمه 1.5 L ودرجة حرارته 20 °C.

المعطيات:

$$V = 1.5 \text{ L}, n = 0.45 \text{ mol}, T = 20 \text{ }^\circ\text{C}, R = 0.082 \text{ L.atm/mol.K}$$

المطلوب: حساب P.

الحل:

أحسب درجة الحرارة المطلقة:

$$T = 20 \text{ }^\circ\text{C} + 273 = 293 \text{ K}$$

أكتب القانون:

$$PV = nRT$$

أعيد ترتيب القانون لحساب P، ثم أعوض:

$$P = \frac{n \times R \times T}{V} = \frac{0.45 \text{ mol} \times 0.082 \frac{\text{L.atm}}{\text{mol.K}} \times 293 \text{ K}}{1.5 \text{ L}} = 7.2 \text{ atm}$$

✓ **أتحقّق:** تُعبأ كرات التنس بغاز النيتروجين. أحسب عدد مولات الغاز في كرة حجمها 0.15 L وضغط الغاز داخلها 2 atm عند درجة حرارة 25°C.

قانون دالتون للضغوط الجزئية

Dalton's Law of Partial Pressures

درس العالم دالتون الضغط الناتج عن خليط مكون من غازات عدة لا تتفاعل مع بعضها بعضاً داخل إناء واحد، ويوضح الشكل (8) أن الغازين A و B في وعائين منفصلين لهما الحجم نفسه عند درجة الحرارة نفسها، ولكل غاز ضغطاً خاصاً به، وعدد جسيمات الغاز A أكبر منها للغاز B، ومن ثم فإن ضغطه أكبر، وعند جمع الغازين في وعاء واحد له الحجم نفسه وعند درجة الحرارة نفسها فإن الضغط الجديد داخل الإناء يساوي مجموع ضغطيهما.

يسمى الضغط الذي يؤثر به الغاز في خليط من الغازات غير المتفاعلة الضغط الجزئي للغاز.

ينص قانون دالتون للضغوط الجزئية Dalton's Law Of Partial Pressures

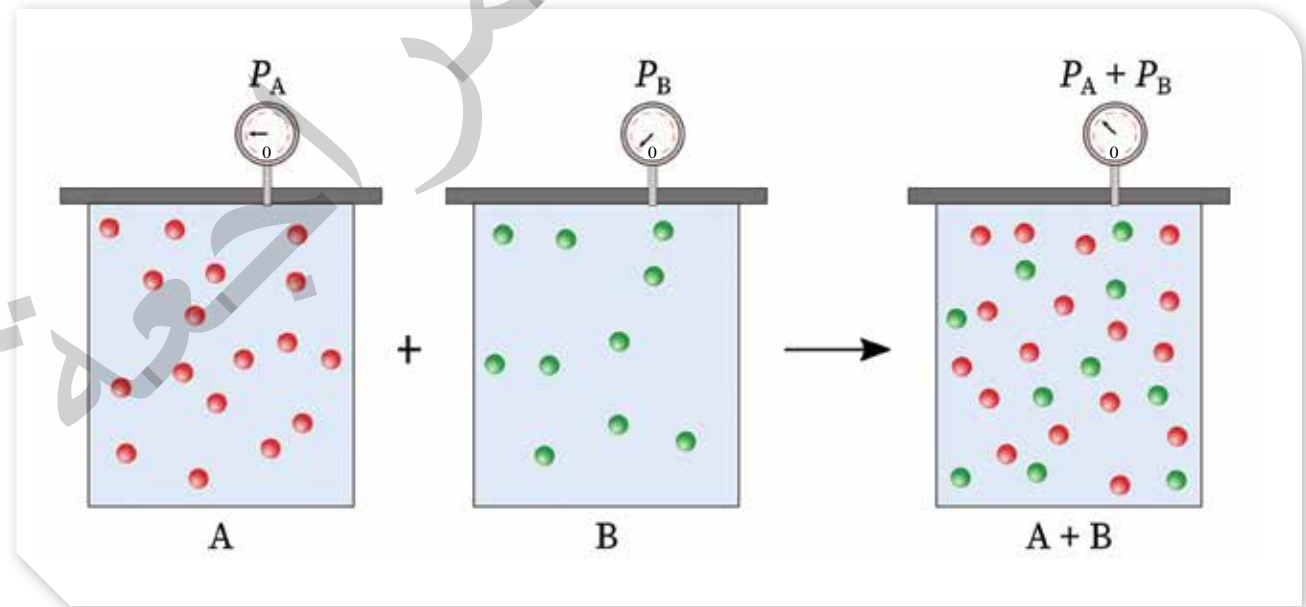
أن: «الضغط الكلي لخليط من الغازات التي لا تتفاعل مع بعضها يساوي مجموع الضغوط الجزئية لجميع مكونات الخليط».

يُعبر عن قانون دالتون رياضياً على النحو الآتي:

$$P_T = P_A + P_B + P_C + \dots\dots\dots$$

حيث P_T : الضغط الكلي لخليط الغازات، P_A : الضغط الجزئي للغاز A، P_B : الضغط الجزئي للغاز B، P_C : الضغط الجزئي للغاز C.

الشكل (8): الضغط الكلي للغازين A و B يساوي مجموع ضغط كل منهما.



المثال 8

أحسبُ الضغطَ الكليَّ لخليطٍ منَ الغازاتِ مكوّنٍ من غاز النيتروجين الذي ضغطُهُ الجُزئيّ 0.247 atm ، وغاز الأكسجين الذي ضغطُهُ الجُزئيّ 0.346 atm ، وغاز ثاني أكسيد الكربون الذي ضغطُهُ الجُزئيّ 0.444 atm

المُعطيات: $P_{N_2} = 0.247 \text{ atm}$, $P_{O_2} = 0.346 \text{ atm}$

$P_{CO_2} = 0.444 \text{ atm}$

المطلوب: حسابُ الضغط الكليّ للخليط P_T .

الحل:

$$P_T = P_{N_2} + P_{O_2} + P_{CO_2}$$

$$P_T = 0.247 \text{ atm} + 0.346 \text{ atm} + 0.444 \text{ atm}$$

$$P_T = 1.037 \text{ atm}$$

أكتبُ قانونَ دالتون:

أعوّض:

المثال 9

أحسبُ الضغطَ الكليَّ لخليطٍ منَ الغازاتِ مكوّنٍ من 0.02 mol من غاز الهيليوم He ، و 0.01 mol من غاز الهيدروجين H_2 ، في وعاءٍ حجمُهُ 5 L ودرجة حرارته 10°C .

المُعطيات: $n_{\text{He}} = 0.02 \text{ mol}$, $n_{\text{H}_2} = 0.01 \text{ mol}$, $V = 5 \text{ L}$, $T = 10^\circ \text{C}$

المطلوب: حسابُ الضغط الكليّ للخليط P_T .

الحل:

أحوّل درجات الحرارة من $^\circ \text{C}$ إلى K

$$T = 10^\circ \text{C} + 273 = 283 \text{ K}$$

ألاحظُ أنّ الضغوط الجُزئية للغازين غير معطاة؛ لذلك سأحسبها اعتمادًا على المُعطيات.

أحسبُ ضغطَ الغاز باستخدام قانون الغاز المثاليّ

$$PV = nRT \rightarrow P = \frac{nRT}{V}$$

$$P_{\text{He}} = \frac{0.02 \text{ mol} \times 0.082 \text{ atm.L/mol.K} \times 283 \text{ K}}{5 \text{ L}}$$

$$P_{\text{He}} = 0.093 \text{ atm}$$

$$P_{\text{H}_2} = \frac{0.01 \text{ mol} \times 0.082 \text{ atm.L/mol.K} \times 283 \text{ K}}{5 \text{ L}}$$

$$P_{\text{H}_2} = 0.046 \text{ atm}$$

$$P_T = P_{\text{H}_2} + P_{\text{He}} = 0.046 \text{ atm} + 0.093 \text{ atm} = 0.139 \text{ atm}$$

خليط من الغازات يحتوي 0.75 mol N_2 ، و 0.3 mol O_2 ، و CO_2 ، في وعاء حجمه 3.5 L ودرجة حرارته المطلقة 110 K ، إذا كان الضغط الكلي للخليط يساوي 3.56 atm أحسب الضغط الجزئي لغاز CO_2 .

المعطيات: $n_{\text{N}_2} = 0.75 \text{ mol}$, $n_{\text{O}_2} = 0.3 \text{ mol}$, $V = 3.5 \text{ L}$, $T = 110 \text{ K}$, $P_T = 3.56 \text{ atm}$

المطلوب: حساب الضغط الجزئي لغاز CO_2 .

الحل:

أحسب الضغط الجزئي باستخدام قانون الغاز المثالي

$$PV = n RT$$

$$P = \frac{n RT}{V}$$

$$P_{\text{N}_2} = \frac{0.75 \text{ mol} \times 0.082 \text{ atm.L/mol.K} \times 110 \text{ K}}{3.5 \text{ L}} = 1.932 \text{ atm}$$

$$P_{\text{O}_2} = \frac{0.3 \text{ mol} \times 0.082 \text{ atm.L/mol.K} \times 110 \text{ K}}{3.5 \text{ L}} = 0.773 \text{ atm}$$

$$P_T = P_{\text{N}_2} + P_{\text{O}_2} + P_{\text{CO}_2}$$

$$3.56 = 1.932 + 0.773 + P_{\text{CO}_2}$$

$$3.56 = 2.705 + P_{\text{CO}_2}$$

$$P_{\text{CO}_2} = 0.855 \text{ atm}$$

✓ أتحمق:

1. خلط 2 L من غاز النيتروجين N_2 ضغطه 0.395 atm مع 3 L من غاز الهيدروجين H_2 ضغطه 0.11 atm في وعاء واحد حجمه 1 L ، أحسب الضغط الكلي للخليط عند درجة الحرارة نفسها.

2. خليط من الغازات يتكون من 5.04 g N_2 ، و 0.28 g H_2 ، وغاز NH_3 في دورق حجمه 5 L ، ودرجة حرارته المطلقة 300 K ، إذا كان الضغط الكلي للخليط يساوي 2.35 atm ؛ أحسب الضغط الجزئي لكل غاز.

علمًا أن:

$$Mr_{\text{H}_2} = 2 \text{ g/mol}, Mr_{\text{N}_2} = 28 \text{ g/mol}.$$

مراجعةُ الدرس

1. الفكرةُ الرئيسة: أفسّر: تشابهُ الغازاتُ في خصائصها الفيزيائية.
2. أوضّح المقصود بكل من:
 - الغاز المثاليّ.
 - الضغط الجزيئي للغاز.
3. عينةٌ من غاز الهيدروجين H_2 في الظروف المعيارية، نُقلت إلى وعاء أصغر حجماً عند درجة الحرارة نفسها، أصف التغيّر الذي يحدث لكل من:
 - متوسط الطاقة الحركية لجزيئات H_2 .
 - عدد التصادمات الكلية لجزيئات غاز H_2 خلال وحدة الزمن.
 - ضغط غاز H_2 .
4. **أستخدم الأرقام.** إذا علمتُ أنّ بالوناً مملوئاً بغاز الهيليوم حجمه 300 mL عند ضغط 1 atm، ارتفع إلى أعلى بحيثُ أصبح الضغط 0.63 atm؛ أحسب حجمه الجديد بفرض بقاء درجة الحرارة ثابتة.
5. **أستخدم الأرقام.** عينةٌ من غاز محصور حجمها 3.5 L عند درجة حرارة $20^\circ C$ و ضغط 0.86 atm. أحسب درجة حرارتها المطلقة إذا سُمح لها بالتمدد حتى أصبح حجمها 8 L عند ضغط 0.56 atm.
6. **أستخدم الأرقام.** أنتج تفاعلٌ ما 5.67 g من غاز CO_2 . أحسب حجم الغاز عند درجة حرارة $23^\circ C$ و ضغط يساوي 0.985 atm ($Mr_{CO_2} = 44 \text{ g/mol}$).
7. **أستخدم الأرقام.** أحسب الضغط الكلي لخليط مكوّن من 6 g من غاز الأوكسجين O_2 و 9 g من غاز الميثان CH_4 في وعاء حجمه 15 L وعند درجة حرارة $0^\circ C$ ($Mr_{O_2} = 32 \text{ g/mol}$, $Mr_{CH_4} = 16 \text{ g/mol}$).
8. أختارُ الإجابة الصحيحة لكل فقرة من الفقرات الآتية:
 1. ينطبق قانون الغاز المثالي على الغازات الحقيقية عند:
 - أ. الضغط المنخفض ودرجة الحرارة المرتفعة.
 - ب. الضغط المرتفع ودرجة الحرارة المنخفضة.
 - ج. درجة الحرارة و الضغط المرتفعان.
 - د. درجة الحرارة و الضغط المنخفضان.

الخصائص الفيزيائية للسوائل

Physical Properties of Liquids

ترتبط جزيئات المواد المختلفة في الحالة السائلة والصلبة، وكذلك ذرات الغازات النبيلة بقوى تجاذب معينة، وتؤثر قوى التجاذب بين الجزيئات في الخصائص الفيزيائية لها. وقد درست ثلاثة أنواع من هذه القوى؛ وهي الرابطة الهيدروجينية التي تنشأ بين الجزيئات القطبية التي تحتوي على ذرة هيدروجين مرتبطة برابطة تساهمية مع إحدى الذرات ذات السالبية الكهربائية العالية وهي (F, O, N)، حيث ترتبط ذرة الهيدروجين هذه بذرة (F, O, N) من جزيء آخر. وتعد أقوى أنواع قوى التجاذب بين الجزيئات، أنظر الشكل (9).

أما الجزيئات القطبية الأخرى فتتربط بقوى ثنائية القطب تنشأ عندما ترتبط ذرة تحمل شحنة جزئية موجبة في جزيء بذرة تحمل شحنة جزئية سالبة من جزيء آخر، وهي أقل قوة من الرابطة الهيدروجينية.

و درست أيضاً أن الجزيئات غير القطبية ترتبط بقوى لندن الناشئة عن الاستقطاب اللحظي للذرات أو الجزيئات، وهي أضعف أنواع قوى الترابط بين الجزيئات وتزداد قوتها بزيادة الكتلة المولية.

الفكرة الرئيسة:

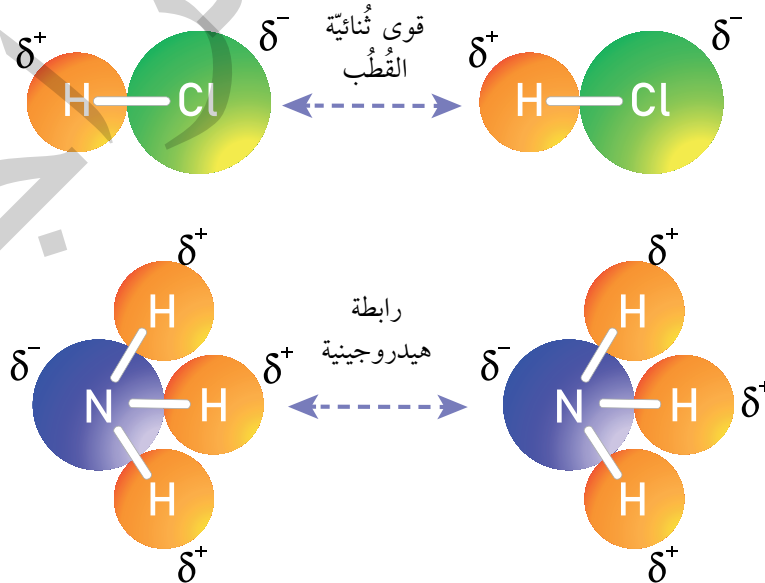
تمتاز السوائل بخصائص محددة تعتمد على قوى التجاذب بين جزيئاتها.

نتائج التعلم:

- أوضح المقصود بالمفاهيم: تبخر، تكاثف، ضغط بخاري، درجة الغليان.
- أستنتج العوامل التي تؤثر في خصائص المادة في الحالة السائلة.

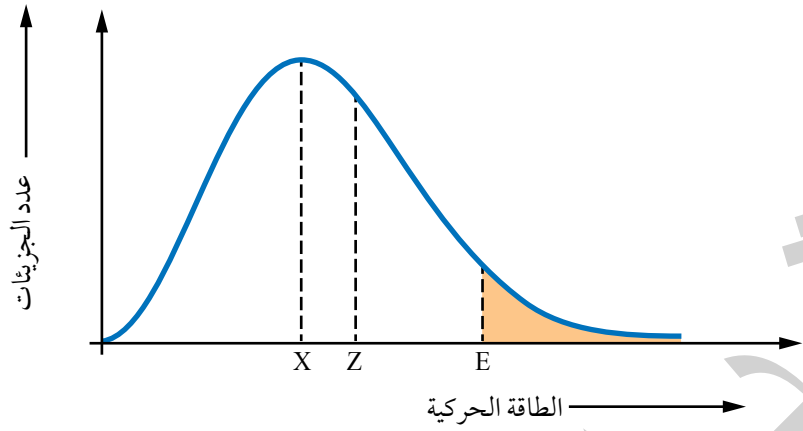
المفاهيم والمصطلحات:

التبخر	Evaporation
التكاثف	Condensation
الضغط البخاري	Vapor Pressure
درجة الغليان المعيارية	Normal Boiling Point



الشكل (9): قوى التجاذب بين الجزيئات

الشكل (10): توزيع الطاقة
الحركية لجزيئات السائل عند
درجة حرارة معينة.



يوصفُ السائلُ بأنه مادةٌ ذاتُ حجم ثابت وتأخذُ شكلَ الإناء الذي توضعُ فيه، ويمكنُ فهمُ خصائصِ السوائل اعتمادًا على حركة جزيئاتها وقوى التجاذب بينها، فـجزيئاتها في حركة مستمرة وعشوائية كالغازات، وتترابطُ جزيئاتُ السائل بقوى تجاذب ضعيفة نسبيًا، تجعلها أكثر تقاربًا، وطاقتها الحركية أقل من جسيمات الغاز، وهذا التقارب يجعلها غير قابلة للانضغاط، كما تكون كثافتها أكبر من كثافة الغازات. وفي ما يأتي أهم خصائص السوائل.

التبخرُ Evaporation

تُعرفُ عمليةُ التبخرُ **Evaporation** بأنها؛ تحوُّلُ المادة من الحالة السائلة إلى الحالة الغازية، وحتى تحدث هذه العملية يجب أن تكون الطاقة الحركية لبعض الجزيئات كافيةً للتغلب على قوى التجاذب بينها وبين الجزيئات المحيطة بها، فتفلت من سطح السائل وتحوُّل إلى الحالة الغازية.

يوضِّحُ الشكل (10) توزيعَ الطاقة الحركية لجزيئات السائل عند درجة حرارة معينة؛ حيث تمثل الرموزُ (X، Z، E) ما يأتي:

X : الطاقة الحركية التي يمتلكها أكبر عدد من جزيئات السائل.

Z : متوسط الطاقة الحركية للجزيئات.

E : الحد الأدنى من الطاقة الحركية اللازمة للتغلب على قوى التجاذب بين جزيئات السائل.

أما المنطقة المظللة فتمثل عدد الجزيئات التي تمتلك طاقة كافية للتبخر.

ألاحظُ من المنحنى وجود جزيئات تمتلك طاقة كافية للتبخُّر ناتجة عن الحركة الدائمة والتصادمات المستمرة بين جزيئات السائل فتفقد بعض الجزيئات المتصادمة طاقة تكتسبها الجزيئات الأخرى وتزيد الطاقة الحركية لبعض الجزيئات، فتصبح كافية للتغلب على قوى التجاذب التي تربطها مع الجزيئات المحيطة بها، فتفلت من سطح السائل؛ أي تتبخَّر.

وهو ما يفسِّر حدوث عملية التبخُّر من سطح السائل عند أيِّ درجة حرارة؛ نظراً لوجود جزيئات تمتلك حدًّا أدنى من الطاقة اللازمة للتبخُّر في أيِّ لحظة.

العوامل المؤثرة في سرعة التبخُّر Factors Affecting Evaporation Rate

تختلفُ السوائل في سرعة تبخُّرها اعتماداً على قوى التجاذب بين جزيئاتها عند ثبات درجة الحرارة، ويبيِّن الجدول (1) نوعَ قوى التجاذب بين جزيئات سائلين؛ كحول الإيثانول والأسيتون، ومقارنةً بين سرعة تبخُّرهما.

ألاحظُ أنَّ جزيئات كحول الإيثانول ترتبطُ بروابط هيدروجينية، وهي قويةٌ نسبياً مقارنةً بقوى التجاذب ثنائية القطب بين جزيئات الأسيتون، ومن ثمَّ فإنَّ الحدَّ الأدنى من الطاقة اللازمة لتبخُّر الأسيتون أقلُّ؛ لذلك يتبخَّر أسرع، أمَّا الإيثانول فإنَّ الحدَّ الأدنى من الطاقة اللازمة لتبخُّره أكبر؛ لذلك تكون سرعة تبخُّره أقلَّ. هذا يعني أنه كلما كانت قوى التجاذب بين جزيئات السائل أقوى كان الحدُّ الأدنى من الطاقة اللازمة لتبخُّره أكبرَ وسرعة تبخُّره أقلَّ.

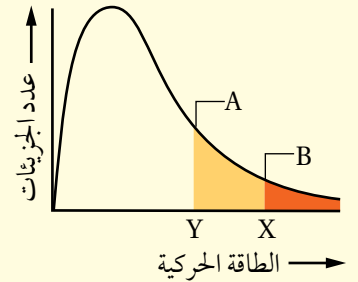
✓ **أتحقِّق:** أرَتِّبُ السوائل الآتية تصاعدياً تبعاً لتزايد سرعة تبخُّرها:



أفكر: يمثل الشكل الآتي توزيع الطاقة الحركية لجزيئات السائلين A و B عند درجة حرارة معيَّنة.

- ماذا تمثِّل كلُّ من النقطتين X و Y؟

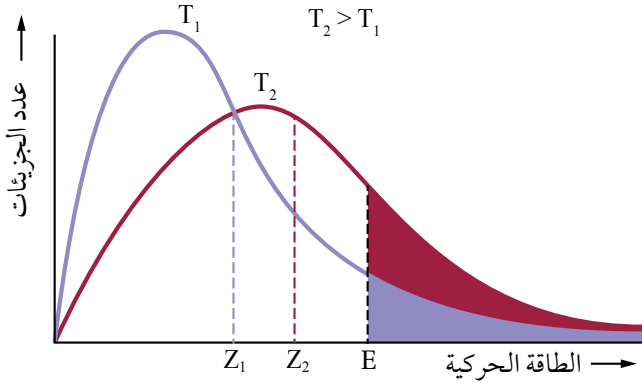
- أيُّ السائلين أسرعُ تبخُّراً عند درجة الحرارة نفسها؟



الجدول (1): أثرُ قوى التجاذب بين جزيئات السائل في سرعة تبخُّره.

المادَّة	نوعُ قوى الترابط بين جزيئاتها في الحالة السائلة	الحدُّ الأدنى من الطاقة اللازمة للتبخُّر	سرعةُ التبخُّر
كحول الإيثانول $\text{CH}_3\text{CH}_2\text{OH}$	الروابط الهيدروجينية	أكبر	أقلُّ سرعة
الأسيتون CH_3COCH_3	ثنائية القطب	أقلُّ	أسرع

هناك عامل آخر يؤثر في سرعة التبخر، هو درجة الحرارة. ولتفسير ذلك، يُستخدم منحنى توزيع الطاقة الحركية للجزيئات السائل عند درجتي حرارة T_1 و T_2 حيث $T_2 > T_1$ ، ويمثل الرمز (E) الحد الأدنى من الطاقة اللازمة للتبخر ولا يعتمد على درجة الحرارة، وعند مقارنة المساحة المظللة تحت المنحنيين، نجد أن عدد الجزيئات التي تمتلك الطاقة اللازمة للتبخر عند درجة حرارة T_2 أكبر منها عند T_1 . كما في الشكل (11).

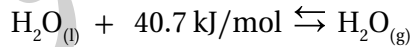


الشكل (11): منحنى توزيع الطاقة الحركية للجزيئات عند درجتي حرارة T_1 و T_2 .

تفسير ذلك؛ إن زيادة درجة الحرارة تزيد من متوسط الطاقة الحركية للجزيئات (Z) وتزيد من عدد التصادمات بينها، فيزداد عدد الجزيئات التي تمتلك الحد الأدنى من الطاقة اللازمة للتبخر وتزداد سرعة التبخر.

تسمى كمية الطاقة اللازمة لتحويل مول واحد من المادة من الحالة السائلة إلى الحالة الغازية عند درجة حرارة معينة طاقة التبخر المولية.

ويمكن تمثيل عملية تبخر مول من الماء بالمعادلة:



تمثل الطاقة في المعادلة طاقة التبخر المولية للماء، ويوضح الجدول (2) طاقة التبخر المولية لعدد من السوائل.

ألاحظ تزايد طاقة التبخر المولية للسائل بزيادة قوى التجاذب بين جزيئاته.

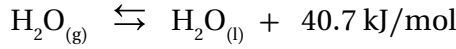
الجدول (2): طاقة التبخر المولية لعدد من السوائل عند درجة الغليان.

اسم السائل وصيغته	قوى التجاذب بين الجزيئات	طاقة التبخر المولية عند درجة الغليان ΔH_{vap} (kJ/mol)	درجة الغليان °C
بنتان $\text{CH}_3(\text{CH}_2)_3\text{CH}_3$	لندن	25.79	36
1-بيوتانول $\text{CH}_3(\text{CH}_2)_2\text{CH}_2\text{OH}$	روابط هيدروجينية	43.29	117.7
بيوتانون $\text{CH}_3\text{COCH}_2\text{CH}_3$	ثنائية القطب	31.3	79.59

التكاثف Condensation

تُسمى عملية تحوُّل المادة من الحالة الغازية إلى الحالة السائلة التكاثف **Condensation**، وتحدث عندما تنخفض درجة حرارة البخار فتقلُّ الطاقة الحركية لجزيئاته وتقلُّ سرعتها، وعندما تتقارب للحدِّ الكافي تتجاذب متحوِّلة إلى الحالة السائلة. وينتج عن عملية التكاثف تحرُّر كميةٍ من الطاقة مساوية لكمية الطاقة المُمتصة عند التبخر، وتُسمى كمية الطاقة الناتجة من تكاثف مول واحد من بخار المادة من الحالة الغازية إلى الحالة السائلة عند درجة حرارة معيَّنة طاقة التكاثف المولوية.

ويمكن التعبير عن عملية تكاثف مول من بخار الماء بالمعادلة:

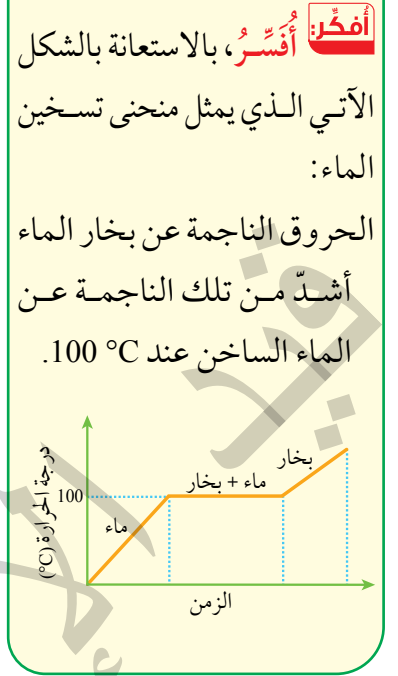


ألاحظُ أنّ طاقة التبخر المولوية للماء تساوي طاقة تكاثفه المولوية، وأنَّ عملية التبخر ماصّة للطاقة وعملية التكاثف طاردة لها.

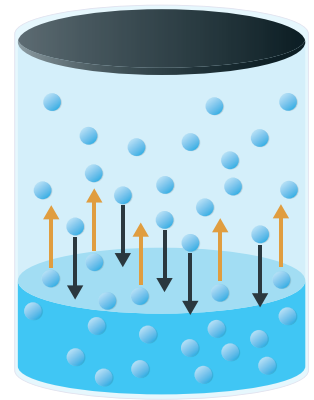
الضغط البخاري Vapor Pressure

عند وضع سائل في وعاء مكشوف فإنه يستمرُّ بالتبخر، ولكن ماذا لو كان الوعاء مغلقاً؟

عند وضع السائل في وعاء مغلق؛ فإنه يبدأ بالتبخر بحيث تفلت من سطحه الجزيئات ذات الطاقة الحركية العالية. وبمرور الوقت يزداد عدد جزيئات بخار السائل داخل الوعاء، ويزداد تصادمها مع بعضها ومع جدار الوعاء وسطح السائل، وتفقد نتيجة ذلك بعض الجزيئات جزءاً من طاقتها الحركية خلال تلك التصادمات فتتكاثف، وبمرور الوقت يزداد عدد الجزيئات المتكاثفة حتى يصبح مساوياً لعدد الجزيئات المتبخرة خلال وحدة الزمن؛ أي أنّ سرعة التبخر تساوي سرعة التكاثف، كما يوضِّح الشكل (12)، ويوصف هذا الوضع بأنه حالة اتزان ديناميكي (سوف تتم دراسته لاحقاً) يثبت عندها ضغط بخار السائل مع استمرار عمليتي التبخر والتكاثف بنفس السرعة، ويُسمى الضغط الناتج عن جزيئات بخار السائل والمؤثّر في سطحه عند الاتزان عند درجة حرارة معيَّنة **الضغط البخاري Vapor Pressure** للسائل.



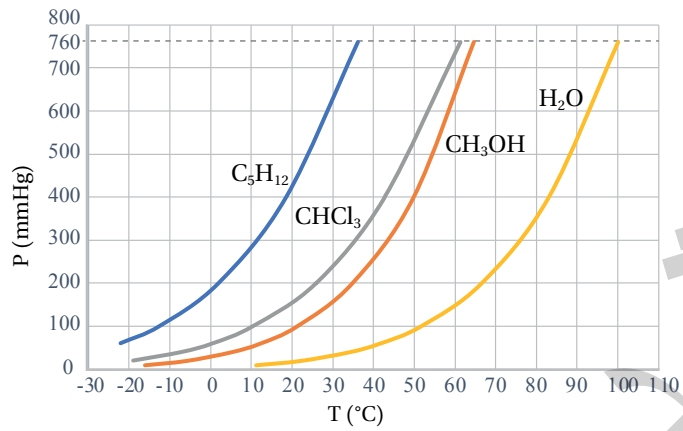
✓ **أتحقّق:** أفسر حدوث عملية التكاثف؟



الشكل (12): الاتزان الديناميكي بين السائل وبخاره.

الشكل (13): التغير في الضغط البخاري مع درجة الحرارة لعدد من السوائل.

أحدُّ الضغط البخاريّ لكلّ من ثلاثي كلوروميثان والميثانول والماء عند درجة حرارة 50 °C، وأقارنُها بقيمة ضغطه البخاريّ الواردة في الجدول (3). ماذا أستنتج؟



يتأثر الضغط البخاريّ للسائل بدرجة الحرارة وقوى التجاذب بين جزيئاته، ويبيّن الشكل (13) تغيّر الضغط البخاريّ لأربعة سوائل: البنتان C₅H₁₂ وثلاثي كلوروميثان CHCl₃، والميثانول CH₃OH والماء H₂O، مع زيادة درجة الحرارة. ألاحظ أنه كلما ازدادت درجة الحرارة ازداد الضغط البخاريّ للسائل.

ولمعرفة أثر قوى التجاذب بين جزيئات السائل في ضغطه البخاريّ؛ ألاحظ قيمَ الضغط البخاريّ للسوائل الأربعة عند درجة الحرارة نفسها ونوعَ قوى التجاذب بين جزيئات كلّ سائل. أنظرُ الجدول (3).

ألاحظ أنه كلما كانت قوى التجاذب بين جزيئات السائل أقوى قلَّ ضغطه البخاريّ، فالماء الذي تترايط جزيئاته بروابط هيدروجينية قوية له أقلُّ ضغط بخاريّ؛ لأن الحد الأدنى من الطاقة اللازمة للتغلب على قوى الترابط بين جزيئاته أكبر عند درجة حرارة معينة، وعند مقارنته بالميثانول؛ فبالرغم من أن الكتلة المولية للميثانول أعلى منها للماء؛ إلا أن عدد الروابط الهيدروجينية التي يصنعها الميثانول أقلُّ منها للماء، لذلك؛ فضغطه البخاري أعلى، يليه ثلاثي كلوروميثان التي تترايط جزيئاته بقوى ثنائية القطب وضغطه البخاري أعلى من الميثانول، ثم البنتان الذي تترايط جزيئاته بقوى لندن الضعيفة وله أعلى ضغط بخاري.

الجدول (3): أثر قوى التجاذب بين جزيئات السائل في ضغطه البخاريّ.

نوع قوى التجاذب بين جزيئات السائل	الضغط البخاريّ (mmHg) عند 20 °C	المادّة
روابط هيدروجينية	17.5	H ₂ O الماء
روابط هيدروجينية	98	CH ₃ OH الميثانول
ثنائية القطب	150	CHCl ₃ ثلاثي كلوروميثان
قوى لندن	410	C ₅ H ₁₂ بنتان

أفكر: أرّتب السوائل الآتية حسب تزايد ضغطها البخاريّ عند درجة الحرارة نفسها:
CH₃CH₃ , CH₃OH , CH₃F

✓ **أتحقّق:** أفسّر تزايد الضغط البخاريّ للسائل بزيادة درجة حرارته.

درجة الغليان Boiling Point

ترداد الطاقة الحركية لجزيئات السائل عند تسخينه، ويزداد عدد الجزيئات التي تمتلك طاقة كافية للتغلب على قوى التجاذب بين الجزيئات، وعندما تصبح الطاقة التي تمتلكها الجزيئات في أجزاء السائل جميعها كافية لتبخره يبدأ السائل بالغليان، وتتكون فقاعات كثيرة في جميع أجزائه وترتفع إلى سطحه وتغادره؛ أي تنتقل إلى الحالة الغازية، عند ذلك؛ يكون ضغطه البخاري مساوياً للضغط الخارجي المؤثر على سطحه، وتسمى درجة الحرارة عند ذلك درجة غليان السائل **Boiling Point**. ويمكن جعل السائل يغلي عند أي درجة حرارة، وذلك من خلال التحكم في الضغط المؤثر في سطحه.

يوضح الجدول (4) الضغط البخاري للماء عند درجات حرارة مختلفة. فمثلاً؛ عندما يكون الضغط الخارجي المؤثر على سطح السائل 17.5 mmHg؛ فإن الماء يغلي على درجة حرارة 20°C. أما درجة الحرارة التي يصبح عندها الضغط البخاري للسائل مساوياً للضغط الجوي (1atm, 760 mmHg)، فتسمى **درجة الغليان المعيارية Normal Boiling Point**، وتعتمد درجة الغليان على قوى التجاذب بين جزيئات السائل وتزداد بزيادتها.

الجدول (4): الضغط البخاري للماء عند درجات حرارة مختلفة.

درجة الحرارة (°C)	الضغط البخاري (mmHg)
20	17.5
40	55.3
60	149.4
80	355
100	760.0

✓ أنصحق:

- اعتماداً على الجدول (4)؛ أستنتج درجة غليان الماء عندما يبلغ الضغط المؤثر على سطحه 355 mmHg
- اعتماداً على الشكل (14)، أتوقع درجة الغليان المعيارية لكل من: ثلاثي كلورو ميثان والبتان والميثانول.

الربط بالحياة أواني الضغط

تستخدم أواني الضغط للعمل على إنضاج الطعام بسرعة؛ وذلك لأن ارتفاع ضغط البخار داخلها يؤدي إلى رفع درجة غليان الماء عن 100°C؛ فينضج الطعام خلال زمن أقل. وحتى لا يحدث انفجاراً بسبب زيادة الضغط، يوجد صمام يسمح بخروج بعض البخار؛ مما يقلل الضغط داخلها.



التجربة 2

العوامل المؤثرة في سرعة التبخر

المواد والأدوات:

كحول الإيثانول، ثنائي إيثيل إيثر، مخبر مدرج (10 mL) عدد (2)، أنبوب اختبار عدد (4) وأرْقَمُهَا، كأس زجاجية تحوي (100 mL) ماء درجة حرارته 40°C ، كأس زجاجية تحوي (100 mL) ماء درجة حرارته 15°C ، حامل أنابيب اختبار، وماسك أنابيب اختبار.

إرشادات السلامة:

- أتبع إرشادات السلامة العامة في المختبر.
- ارتدي معطف المختبر والنظارات الواقية والقفازات والكمامة.
- احذر من استنشاق المواد العضوية على نحو مباشر.

خطوات العمل:

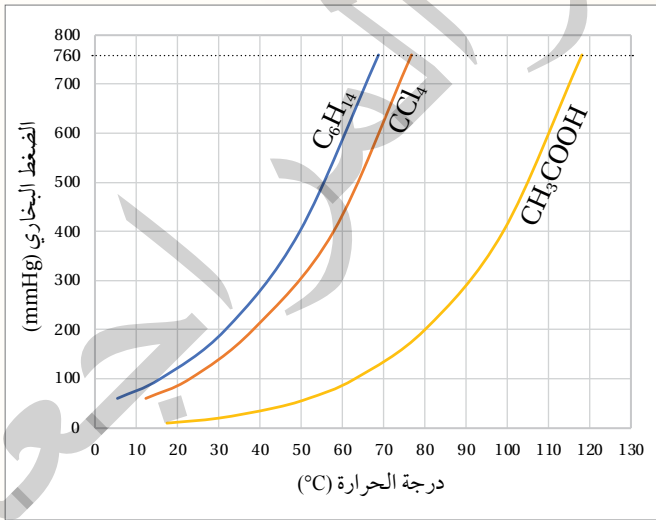
1. **أقيس** (10 mL) من الإيثانول باستخدام المخبر المدرج وأضعها في أنبوب الاختبار رقم (1)، وكذلك الحال في أنبوب الاختبار رقم (2)، وأكرّر ذلك بالنسبة إلى ثنائي إيثيل إيثر (أنبوبي الاختبار 3، 4).
2. أضع أنابيب الاختبار 1، 3 في الكأس الزجاجية المحتوية على الماء بدرجة 15°C ، وأتركها لمدة (5 min).
3. **أقيس** كمية السائل المتبقية في كل أنبوب اختبار باستخدام المخبر المدرج، ثم أسجلها.
4. أكرر الخطوات 2، 3 باستخدام الأنبوبين 2، 4 في الكأس الزجاجية المحتوي على الماء بدرجة حرارة 40°C .
5. **أنظّم البيانات:** أسجل الكميات المتبقية من كل سائل.

التحليل والاستنتاج:

1. **أقارن** الكمية المتبقية من السائل نفسه في الحالتين.
2. **أقارن:** أي السائلين أسرع تبخرًا؟
3. أحدد نوع قوى التجاذب بين جزيئات كل سائل.
4. **أفسر** اختلاف السائلين في سرعة تبخرها اعتمادًا على قوى التجاذب بين جزيئاتها عند نفس درجة الحرارة.
5. **أستنتج** العلاقة بين درجة الحرارة وسرعة تبخر السائل.

مراجعةُ الدرس

- الفكرةُ الرئيسةُ: أُفسِّرُ: يأخذُ السائلُ شكلَ الإناء الذي يوضعُ فيه، ولكنَّ حجمه يظلُّ ثابتًا.
- أوضِّحُ المقصودَ بكلِّ ممَّا يأتي:
 - الضغط البخاريّ.
 - درجة الغليان المعيارية.
- أصِفُ: سائلٌ في وعاءٍ مغلقٍ ضغطه البخاريّ ثابت، ما العلاقةُ بين سرعة تبخُّره وسرعة تكاثف بخاره؟
- أستنتجُ: يتبخَّر المركَّبُ A بسرعة أكبرَ من سرعة تبخُّر المركَّب B عند 25°C :
 - أيُّ المركَّبين قوَى التجاذب بين جُزيئاته أكبرُ؟
 - أيُّ المركَّبين له ضغطٌ بخاريٌّ أعلى عند 25°C ؟
 - أيُّ المركَّبين درجةُ غليانه المعيارية أكبرُ؟
- يمثِّل المنحنى المجاورُ تغيُّرَ الضغط البخاريّ (mmHg) لثلاثة سوائل هي الهكسان C_6H_{14} ، رابع كلوريد الكربون CCl_4 ، وحمض الإيثانويك CH_3COOH مع درجة الحرارة $^\circ\text{C}$. أجبُ عمَّا يأتي:
 - أحدِّدُ الضغطَ البخاريّ لرابع كلوريد الكربون عند 60°C .
 - أحدِّدُ درجةَ الغليان المعيارية للهكسان.
 - أرتِّبُ السوائلَ الثلاثة حسب سرعة تبخُّرها.
 - بفرض أن الضغطَ الجويَّ على قمة أحد الجبال يساوي 500 mmHg ، أحدِّدُ درجةَ غليان CCl_4 عند هذا الارتفاع.



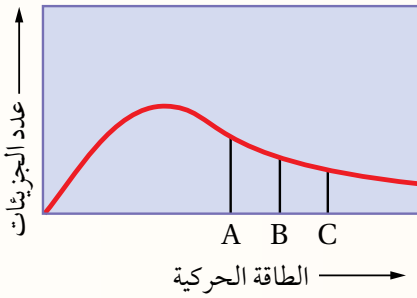
6. أختارُ الإجابة الصحيحة لكلِّ فقرة من الفقرات الآتية:

1. المادة الأسرع تبخراً من المواد الآتية في الحالة السائلة عند الظروف نفسها:

- أ. NH_3 ب. H_2O
ج. C_2H_6 د. CH_4

2. المركبات الآتية متقاربة في الكتلة المولية، أي منها له أعلى درجة غليان معيارية:

- أ. $\text{CH}_3\text{CH}_2\text{OH}$ ب. CH_3CHO
ج. $\text{CH}_3\text{CH}_2\text{F}$ د. $\text{CH}_3\text{CH}_2\text{CH}_3$



3. يمثل المنحنى توزيع الطاقة الحركية على الجزيئات لثلاث سوائل مختلفة أعطيت الرموز الافتراضية A, B, C عند درجة حرارة معينة T، وتمثل الخطوط في الشكل الحد الأدنى من الطاقة اللازمة للتغلب على قوى التجاذب بين جزيئات كل سائل. فإن العبارة الصحيحة من العبارات الآتية هي:

- أ. درجة غليان السائل A أكبر من درجة غليان السائل B.
ب. قوى التجاذب بين جزيئات A هي الأضعف.
ج. السائل C له أقل طاقة تبخر مولية.
د. الضغط البخاري للسائل C أعلى منه للسائل B.

السائل	طاقة التبخر المولية kJ/mol
L	29.06
M	43.29
T	50.5
V	34.14

4. يتضمن الجدول الآتي قيم طاقة التبخر المولية لأربعة سوائل مختلفة أعطيت الرموز الافتراضية L, M, T, V؛ أيُّ منها يتوقع أن تكون قوى الترابط بين جزيئاته الأقوى؟

- أ. L ب. M
ج. T د. V

خصائص عامة للمواد الصلبة

General Properties of Solids

تتسم جسيمات المادة في الحالة الصلبة (ذرات، جزيئات، أيونات) بأنها متقاربة جداً وأن قوى التجاذب بينها كبيرة؛ لذلك تترتب في أماكن محددة لا تغادرها وتتحرك في أماكنها حركة اهتزازية. والمادة الصلبة كثافتها عالية، وغير قابلة للانضغاط أو الجريان؛ مما يعني أنها ذات شكل وحجم ثابتين. وعند تسخين المادة الصلبة تهتز جسيماتها على نحو أسرع، ومع زيادة طاقتها الحركية يضعف التجاذب بينها فتتحول المادة إلى الحالة السائلة، وتسمى درجة الحرارة التي تتحول عندها المادة من الحالة الصلبة إلى الحالة السائلة درجة الانصهار Melting Point.

تترتب جسيمات المواد الصلبة بطريقتين؛ فتكون في الأولى أشكالاً هندسية منتظمة، وتسمى في هذه الحالة مادة صلبة بلورية **Crystalline Solid**، أنظر الشكل (14)، ومثال عليها الذهب، والماس، وكلوريد الصوديوم. وتترتب في الثانية عشوائياً (ليس لها شكل هندسي منتظم)، وتسمى مادة صلبة غير بلورية **Amorphous Solid**، كما في الشكل (15)، ومثال عليها البلاستيك، والزجاج. سأتعرف في هذا الدرس نوع الجسيمات المكونة للمواد الصلبة البلورية ونوع الروابط أو قوى الترابط بينها وخصائصها الفيزيائية.

✓ **أتحقق:** ما الفرق بين المواد الصلبة البلورية وغير البلورية؟

الفكرة الرئيسة:

تقسم المواد الصلبة إلى نوعين رئيسيين؛ مواد صلبة بلورية ومواد صلبة غير بلورية، وتُصنّف المواد الصلبة البلورية إلى أربعة أنواع رئيسة بحسب خصائصها الفيزيائية.

نتائج التعلم:

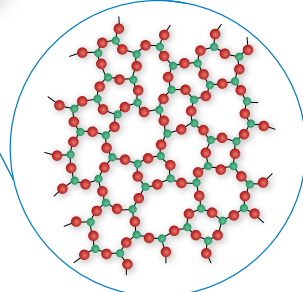
- أتعرف خصائص المادة في الحالة الصلبة.
- أصنف المواد الصلبة البلورية إلى أنواعها الرئيسة، وأميز بين صفاتها.

المفاهيم والمصطلحات:

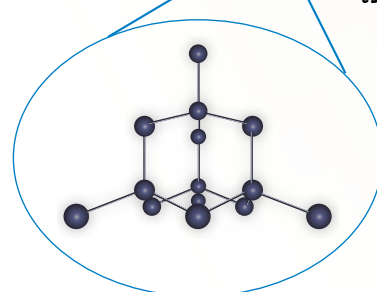
صلبة بلورية	Crystalline Solid
صلبة غير بلورية	Amorphous Solid
صلبة جزيئية	Molecular Solid
صلبة شبكية تساهمية	Covalent Network Solid



الشكل (15): مادة صلبة غير بلورية.



الشكل (14): مادة صلبة بلورية.



المواد الصلبة البلورية Crystalline Solids

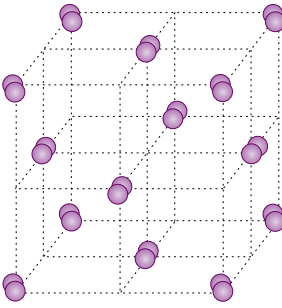

تتكوّن المواد الصلبة البلورية من جسيمات، إمّا أن تكون ذرات أو جزيئات أو أيونات، وقد صنّفت المواد الصلبة البلورية بناءً على نوع الروابط أو قوى الترابط بين جسيماتها إلى أربعة أنواع.

المواد الصلبة الجزيئية Molecular Solids

الجسيمات المكوّنة للمواد الصلبة الجزيئية **Molecular Solids** هي ذرات أو جزيئات تترابط مع بعضها بقوى تجاذب ضعيفة نسبياً؛ لذلك فإنها تشترك في صفات عدّة، منها أنها مواد ذات درجات انصهار منخفضة، كما أنها غير موصلة للتيار الكهربائي؛ ويرجع ذلك إلى أنّ الجسيمات المكوّنة لها متعادلة الشحنة ترتبط مع بعضها بقوى تجاذب ضعيفة؛ فمثلاً؛ بلّورة اليود تتكوّن من جزيئات اليود I_2 المتعادلة التي تترابط بقوى لندن الضعيفة؛ لذلك؛ فإن درجة انصهاره منخفضة، كما أنّ بلوراته غير موصلة للتيار الكهربائي. أنظر الشكل (16).

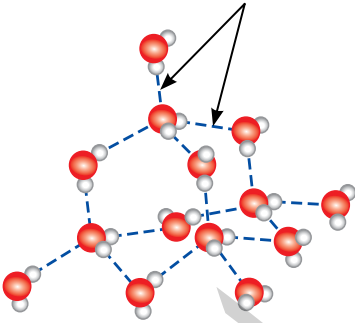
وينطبق ذلك على الجليد أيضاً، الذي تترابط جزيئاته بروابط هيدروجينية؛ حيث يرتبط كل جزيء من H_2O بأربعة جزيئات أخرى، ويكون كل جزيء في البلّورة مركزاً لرباعي الأوجه منتظم، كما في الشكل (17).

ويكوّن الكربون مادة صلبة جزيئية تُسمّى بكمنستر فولرين Buckminsterfullerene أو كرات باكي، اكتشفت عام 1985، تتكوّن من جزيئات كروية الشكل مجوّفة صيغتها الجزيئية C_{60} ؛ إذ تترابط ذرات الكربون داخل الجزيء الواحد (الكرة الواحدة) بروابط تساهميّة، بحيث ترتبط كل ذرة كربون بثلاث ذرات أخرى مكوّنة حلقات خماسيّة وسداسيّة مرتبطة مع بعضها بعضاً لتشبه كرة القدم. أنظر الشكل (18).

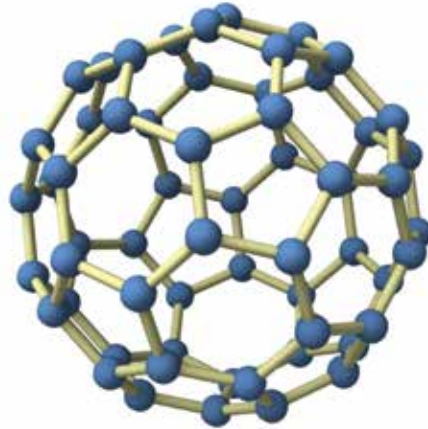


الشكل (16): بلّورة اليود.

روابط هيدروجينية.



الشكل (17): ترتيب جزيئات H_2O في الجليد.



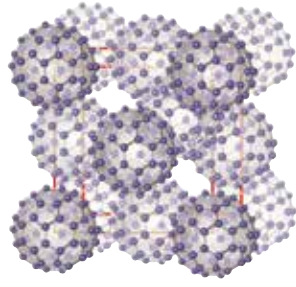
الشكل (18): جزيء واحد من كرات باكي C_{60} .

✓ **أتحقّق:** ما نوع الروابط بين

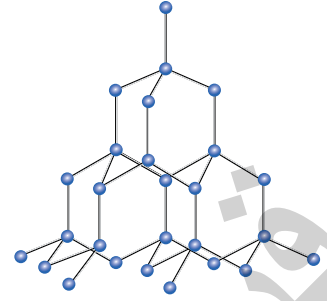
ذرات الكربون داخل الجزيء

الواحد من بكمنستر فولرين؟ وما

نوع قوى التجاذب بين جزيئاته؟



الشكل (19): بلورة
بكمستر فولرين.



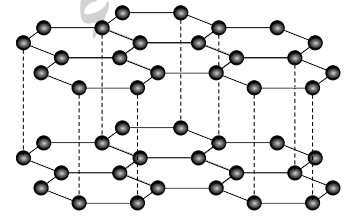
الشكل (20): رسم تخطيطي
للماس.

وتترابط الجزيئات (الكُرات) مع بعضها بقوى لندن الضعيفة -أنظر الشكل (19)-
مكوّنة بلورات إبرية الشكل سوداء اللون تُسمّى بكمستر فولرين.
وتتميّز بلورات بكمستر فولرين بأنها غير موصلة للتيار الكهربائي؛ لأنها
تتكوّن من جزيئات متعادلة.

المواد الصلبة الشبكية التساهمية Covalent Network Solids

جسيمات المواد الصلبة الشبكية التساهمية Covalent Network Solids

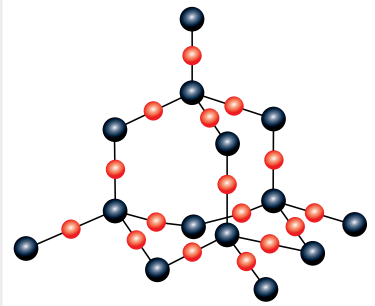
ذرات تترايط في ما بينها بروابط تساهمية في بناء شبكي صلب، مثل الماس، الذي
يتكوّن من ذرات الكربون؛ حيث ترتبط كل ذرة كربون بأربع روابط تساهمية مع
أربع ذرات كربون أخرى، وتكوّن كل ذرة مركزاً لرباعي الأوجه منتظم، كما يظهر
في الشكل (20). والماس عالي القساوة ودرجة انصهاره مرتفعة، كما أنه غير
موصّل للتيار الكهربائي؛ نظراً إلى أن إلكتروناته مقيّدة غير حرة الحركة، وهو يعدّ
أكثر المواد الطبيعية قساوة؛ لذا يُستخدم في صناعة أدوات القطع والقص.



الشكل (21): رسم تخطيطي
للغرافيت.

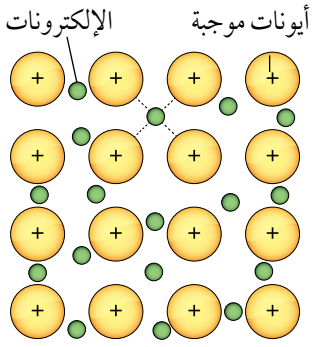
وهناك شكل آخر من البلورات يكوّنه الكربون، هو الغرافيت؛ حيث ترتبط كل ذرة
كربون بثلاث ذرات كربون أخرى بحيث تشكّل حلقات سداسية الشكل، وتشكّل هذه
الحلقات مع بعضها طبقات رقيقة، كما يظهر في الشكل (21).

ويعدّ الكوارتز SiO_2 -أيضاً- مثلاً آخر على المواد الصلبة الشبكية التساهمية،
وتشبه بلورته بلورة الماس، كما يظهر في الشكل (22)؛ حيث ترتبط كل ذرة سليكون
بأربع ذرات أكسجين. والكوارتز أيضاً شديد القساوة، ولكنه أقل قساوة من الماس.
وتتميّز المواد الصلبة الشبكية التساهمية بالقساوة ودرجات انصهار مرتفعة؛
نظراً إلى قوة الروابط التساهمية التي تربط بين ذراتها، وهي غير موصلة للتيار
الكهربائي في حالتها الصلبة والسيولة على نحو عام.



● ذرات الأكسجين
● ذرات السليكون

الشكل (22): رسم تخطيطي للكوارتز.



الشكل (24): الرابطة الفلزية، وتظهر صفوف الأيونات الموجبة في بحر الإلكترونات السالبة.

✓ **أتحقق:** أفسر قابلية المواد الصلبة الفلزية للطرق والسحب.



الشكل (23): بلورة الذهب.

المواد الصلبة الفلزية Metallic Solids

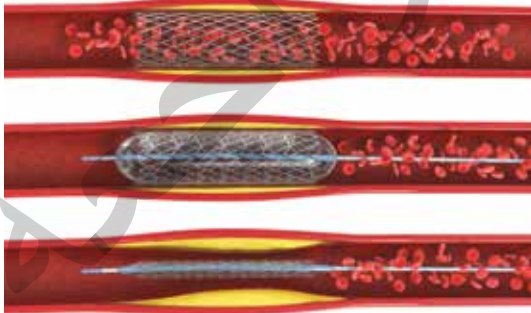
ذرات الفلزات تكوّن المواد الصلبة الفلزية Metallic Solids، أنظر الشكل (23)، وتشارك بمجموعة من الصفات، منها: أنها متفاوتة في درجات انصهارها ومرتفعة بوجه عام، وموصلة للتيار الكهربائي، وقابلة للطرق والسحب، ويرجع السبب في هذه الصفات إلى الرابطة الفلزية بين ذراتها. ويمكن تخيل بلورة الفلز كأنها صفوف من الأيونات الموجبة مغمورة في بحر من الإلكترونات السالبة حرة الحركة، كما يوضح الشكل (24)، وهي قابلة للطرق والسحب؛ لأن الطرق على صفوف الأيونات الموجبة يجعلها تنزلق مبتعدة عن بعضها، ولكنها تبقى مترابطة بفعل تجاذبها مع الإلكترونات الحرة، ومن ثمّ يمكن تشكيلها صفائح أو أسلاكاً أو قضباناً، أمّا قدرتها على إيصال التيار الكهربائي؛ فترجع لبحر الإلكترونات السالبة حرة الحركة في البلورة، وسبب صلابتها ودرجات انصهارها المرتفعة عائد إلى قوة الرابطة الفلزية.

الربط بالطب



الدعامات القلبية

تمكّن فريق من الباحثين من تطوير جيل جديد من السبائك الفلزية للأغراض الطبية مخصصة لعمل الدعامات القلبية. والسبيكة المبتكرة مصنوعة من التيتانيوم Ti، مضاف إليه فلز التنتاليوم Ta بنسبة 6% والنيوبيوم Nb بنسبة 17%، وتمتاز بمرونة فائقة وقوة كبيرة، كما أنّها خالية من العناصر السامة أو تلك التي تسبب التهابات عصبية أو حساسية.



الدعامات القلبية المستخدمة لفتح الشرايين.

المواد الصلبة الأيونية Ionic Solids

تتكوّن جسيمات المواد الأيونية من أيونات موجبة وسالبة تتجاذب وتترابط برابطة أيونية، من الأمثلة عليها كلوريد البوتاسيوم KCl وأكسيد الكالسيوم CaO، ويوضّح الشكل (25) بلورة أكسيد الكالسيوم.

تعدّ الرابطة الأيونية رابطةً قويّة؛ لذلك فإنّ المواد الصلبة الأيونية Ionic Solids شديدة الصلابة ودرجات انصهارها مرتفعة؛ فمثلاً؛ درجة انصهار كلوريد البوتاسيوم 770°C ، ودرجة انصهار أكسيد الكالسيوم 2572°C .

ورغم شدة صلابة المواد الأيونية فإنّها هشّة، وإذا تعرّضت البلورات للطرق؛ فإنّ أيوناتها تتحرّك (تنزلق) بالنسبة إلى بعضها بعضاً، بحيث تتقارب الأيونات المتشابهة في الشحنة فتتنافر، وهو ما يؤدي إلى تحطّم البلورة، كما يبيّن الشكل (26).

لا توصل المواد الصلبة الأيونية التيار الكهربائي؛ لأنّ أيوناتها غير حرة الحركة، أمّا عند صهرها أو إذابتها في الماء فإنّ أيوناتها تصبح حرة الحركة؛ لذلك توصل محاليلها ومصاهيرها التيار الكهربائي.

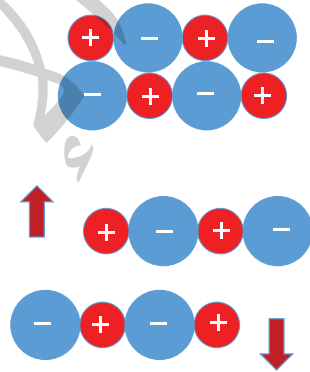
✓ **أتحقّق:** أفسّر: رغم صلابة المركبات الأيونية إلا أنها هشّة.

تحديد أنواع المواد الصلبة Identifying Types of Solids

تستخدم الخصائص الفيزيائية للبلورة الصلبة في توقّع نوع المادة ما إذا كانت جزيئية أو شبكية تساهمية أو فلزية أو أيونية، كما أنه يمكن معرفة نوع المادة من خلال معرفة نوع الجسيمات المكونة لها والروابط بينها، ويوضح الجدول (5) أنواع المواد الصلبة والخصائص العامة لكل نوع.



الشكل (25): بلورة أكسيد الكالسيوم.



الشكل (26): تحطّم بلورة المادة الأيونية نتيجة تعرّضها للطرق.

الجدول (5): أنواع المواد الصلبة.

أمثلة	خصائص عامة للمادة الصلبة	الروابط أو قوى الترابط	نوع الجسيمات	نوع المادة الصلبة
Ne _(s) , CH _{4(s)} , S ₈ , C ₁₂ H ₂₂ O ₁₁	درجة انصهار منخفضة، غير موصلة للكهرباء.	روابط هيدروجينية، ثنائية القطب، لندن	جزيئات وذرات الغازات النبيلة	جزيئية
SiO ₂ , Si, SiC, C ماس	صلبة جداً، درجة انصهارها مرتفعة، غير موصلة للكهرباء بوجه عام.	تساهمية	ذرات	شبكية تساهمية
K, Al, Cu, Ag, Ni, Ba	صلبة، متفاوتة في درجة الانصهار وبوجه عام مرتفعة، قابلة للطرق والسحب، موصلة للكهرباء ومصاهيرها أيضاً موصلة للكهرباء.	فلزية	ذرات	فلزية
LiF, CaF ₂ , ZnS, NaCl	صلبة، هشّة، درجة انصهار مرتفعة، غير موصلة للكهرباء. بينما محاليلها ومصاهيرها موصلة للكهرباء.	أيونية	أيونات	أيونية

المثال 1

أحدد نوع المادة الصلبة البلورية لكل مما يأتي:

- أ. مادة (A) بيضاء اللون تنصهر على درجة حرارة 730°C غير موصلة للكهرباء، بينما محلولها موصل للكهرباء.
ب. مادة (B) شديدة الصلابة وشفافة وتنصهر عند درجة حرارة 3000°C .

المعطيات:

- أ. درجة انصهار المادة A: 730°C ، التوصيل للكهرباء: غير موصلة في الحالة الصلبة ومحلولها موصل.
ب. المادة B شديدة الصلابة، درجة انصهار المادة B: 3000°C

الحل:

- أ. درجة انصهار المادة A مرتفعة نسبياً، وتشارك المواد الفلزية والأيونية في هذه الصفة، وكذلك فإن المادة A غير موصلة للكهرباء في حالة الصلابة، بينما محلولها موصل للكهرباء وهذه الصفة مميزة للمركبات الأيونية، فالمادة A أيونية.
ب. بما أن المادة B شديدة الصلابة ودرجة انصهارها مرتفعة وهي صفات المواد الشبكية التساهمية؛ فالمادة B شبكية تساهمية.

المثال 2

أحدد نوع كل من المواد الصلبة البلورية الآتية: $\text{HF}_{(s)}$, Fe , Na_2O , Si .

الحل:

- HF : جزيئية؛ لأنها تتكون من جزيئات تترابط بروابط هيدروجينية.
 Fe : فلزية؛ الحديد فلز تترابط ذراته بروابط فلزية.
 Na_2O : أيونية؛ لأن الرابطة بين أيونات Na^+ وأيونات O^{2-} رابطة أيونية.
 Si : شبكية تساهمية؛ لأن ذرات Si تترابط بروابط تساهمية في بناء شبكي صلب.

مراجعةُ الدرس

1. الفكرةُ الرئيسة: أوَّضِحْ الأنواع الرئيسة للمواد الصلبة البلورية.
2. أوَّضِحْ المقصود بكلِّ ممَّا يأتي:
 - المادةُ الصُّلبة البلوريَّة.
 - المادةُ الصُّلبة غيرُ البلوريَّة.
3. أحدد الروابط أو قوى الترابط الموجودة في كلِّ نوع من المواد الصُّلبة البلوريَّة الآتية:
 - المادةُ الصُّلبة الأيونية
 - المادةُ الصُّلبة الفلزيَّة
 - المادةُ الصُّلبة الشبكية التساهميَّة
4. أحدِّد نوع كل من المواد الصُّلبة البلوريَّة الآتية: KI ، Ni ، SiC ، NH_3
5. **أصنِّف** المواد الصُّلبة الآتية حسب نوعها: مادةٌ صلبة جزيئيَّة، مادةٌ صلبة أيونيَّة، مادةٌ صلبة فلزيَّة، مادةٌ صلبة شبكيَّة تساهميَّة.
 - أ. مادةٌ صلبةٌ غيرُ موصلة للكهرباء، تنصهرُ عند درجة حرارة $650^\circ C$ ، ويوصل مصهورها الكهرباء.
 - ب. مادةٌ صلبةٌ لامعةٌ موصلةٌ للكهرباء.
 - ج. مادةٌ شديدة الصلابة، درجة انصهارها $2730^\circ C$ ، ولا يوصل مصهورها الكهرباء.
 - د. مادةٌ صلبةٌ، تنصهرُ على درجة حرارة $119^\circ C$ ، وغير موصلة للكهرباء.
6. اختارُ الإجابة الصحيحة لكلِّ فقرة من الفقرات الآتية:
 1. إحدى المواد الآتية صلبة وهشة ودرجة انصهارها مرتفعة:

أ. SiF_4	ب. C ماس	ج. KCl	د. Cu
------------	----------	----------	-------
 2. إحدى العبارات التالية ليست من صفات مادة بكمنستر فولرين:
 - أ. تكون بلورات إبرية الشكل
 - ب. تترايط ذراتها مكونة حلقات سداسية مرتبطة ببعضها.
 - ج. غير موصلة للتيار الكهربائي
 - د. يتكون من ذرات الكربون.
 3. المادة الصلبة التي لها أعلى درجة انصهار:

أ. MgO	ب. NO_2	ج. Cl_2O	د. SO_3
----------	-----------	------------	-----------
 4. إحدى المواد الآتية صلبة جزيئيَّة:

أ. Al	ب. $BaCl_2$	ج. Si	د. P_4
-------	-------------	-------	----------

البلازما Plasma أو الغازات المتأينة خليطٌ غازيٌّ مكوّنٌ من الإلكترونات حُرّة الحركة والأيونات الموجبة الناتجة بعد انفصال الإلكترونات عن الذرّة. وتتكوّن البلازما نتيجة درجات الحرارة التي تزيد عن آلاف عدّة من درجات سلسيوس، وتوجد طبيعياً في الشمس والنجوم والمجرات والسُدُم، كما تتكوّن بفعل الضّوء عند حدوث البرق؛ حيث تتأينُ جُزيئات الهواء، وكذلك يمكنُ تحضيرها صناعياً.

تشبه البلازما في خصائصها الغازات؛ إذ ليس لها حجمٌ أو شكلٌ ثابتان، ولكن قوى التجاذب الكبيرة بين مكوناتها تكسبها خصائص غير متوقّعة مثل توصيل التيار الكهربائي، وهذا المزيج من الخصائص هو ما جعلها تُصنّف حالةً رابعةً للمادة.

وللبلازما مجموعة من الاستخدامات التكنولوجية الحديثة، منها محوّل النفايات البلازمي Plasma Waste Converter الذي يتعامل مع معظم مخلفات المواد بما فيها المواد الخطرة، حيث تعمل الطاقة المخترنة في البلازما على كسر الروابط بين جزيئات مواد النفايات فتتفكك إلى العناصر المكوّنة لها، وتقسّم النواتج النهائية في هذا المحوّل إلى نوعين؛ ناتج غازي غنيّ بغاز الهيدروجين، وناتج صلب يطلق عليه الخبث، فالنفايات العضوية تخرج على شكل ناتج غازي، أما النفايات غير العضوية فتخرج على شكل ناتج صلب، ويستفاد من غاز الهيدروجين الناتج كوقود. أما الناتج الصلب فيستخدم في صناعة الكونكريت (الإسمنت) والأسفلت.



مراجعة الوحدة

• أرتّب السوائل الثلاثة حسب تزايد قوى التجاذب بين جزيئاتها.

6. إذا كانت طاقة التبخر المولية للسوائل الآتية، كما يأتي:

O_2 (6.8 KJ/mol) , Ne (1.8KJ/mol) , CH_3OH (34.5KJ/mol)

أ. أحدد نوع قوى التجاذب بين جسيمات كل سائل.

ب. أي هذه السوائل له أعلى درجة غليان؟

7. أحدد المادة التي لها أعلى درجة انصهار بين الأزواج الآتية:

SO_2 , Li_2O •

SiO_2 , CO_2 •

Ar , Al •

8. أفسر إذا علمت أن كثافة الماس 3.5 g/mL، وأن كثافة

الغرافيت 2.3 g/mL. اعتماداً على التركيب البلوري

لكمسترفولرين؛ هل من المتوقع أن تكون كثافة

لكمسترفولرين أكبر أم أقل منهما؟ أفسر ذلك.

9. أختار الإجابة الصحيحة لكل فقرة من الفقرات الآتية:

1. إحدى العبارات الآتية لا تتفق مع نظرية الحركة

الجزيئية:

أ. حركة جزيئات الغاز مستمرة وعشوائية.

ب. متوسط الطاقة الحركية للغازات ثابت عند

درجة الحرارة نفسها.

ج. تتصادم جزيئات الغاز تصادمات مرنة.

د. تتحرك جزيئات الغاز جميعها بالسرعة نفسها

عند درجة الحرارة نفسها.

1. أوضح المقصود بكل من:

• قانون أفوجادرو. • المادة الصلبة الجزيئية.

2. أفسر ما يأتي:

• يتناسب ضغط الغاز طردياً مع درجة حرارته المطلقة عند ثبات حجمه.

• درجة غليان CH_3COOH أكبر من درجة غليان

C_2H_5Cl .

3. أستخدم الأرقام. أحسب كتلة غاز O_2 الموجودة

في وعاء حجمه 5 L عند درجة حرارة $20^\circ C$

وضغط 1.5 atm ($Mr = 32$ g/mol).

4. أستخدم الأرقام. يحتوي وعاء حجمه 1.64 L على

$(1.1$ g CO_2) و $(1.6$ g O_2) وكتلة مجهولة من N_2 .

إذا علمت أن الضغط الكلي للغازات الثلاثة يساوي

1.5 atm عند درجة حرارة $27^\circ C$ ، فأحسب:

• الضغط الجزئي لكل من الغازات CO_2 ، O_2 ، N_2 .

• كتلة غاز N_2 في الوعاء.

(Mr (g/mol): $CO_2 = 44$, $O_2 = 32$, $N_2 = 28$)

5. أستنتج أدرس الجدول الآتي، الذي يبين الضغط

البخاري لثلاثة سوائل ذات رموز افتراضية A , B , C

عند درجة حرارة معينة، ثم أجب عن الأسئلة الآتية:

المادة	A	B	C
الضغط البخاري mmHg	225	580	50

• ما المادة الأسرع تبخراً؟

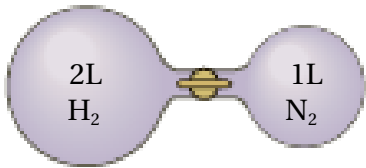
• ما المادة التي لها أعلى درجة غليان؟

مراجعة الوحدة

6. كمية من غاز حجمها 1L، إذا أصبحت قيمة كل من درجة حرارتها المطلقة و ضغطها 3 أمثال قيمها الأصلية؛ فإن حجمها بوحدة (L) يصبح:

- أ . 1 ب. $\frac{1}{3}$
ج. 3 د . 9

7. اعتماداً على الشكل المجاور؛ الضغط الكلي لمزيج الغازين بعد فتح السدادة بين القارورتين بوحدة atm عند درجة الحرارة نفسها يساوي (أهمل حجم السدادة):



$$P_{H_2} = 456 \text{ mmHg} \quad P_{N_2} = 0.21 \text{ atm}$$

- أ . 0.07 ب. 0.71
ج. 0.47 د . 0.4

* أربع أوعية محكمة الإغلاق حجم كل منها 3 L، ويحتوي كل منها على أحد الغازات الآتية: (H_2 , $Mr = 2 \text{ g/mol}$), (He , $Mr = 4 \text{ g/mol}$), (Ar , $Mr = 40 \text{ g/mol}$), (Xe , $Mr = 131 \text{ g/mol}$)
كل منها 870 mmHg وعلى درجة حرارة الغرفة 25°C ، أجب عن الفقرتين 8، 9.

8. الوعاء الذي تكون كتلة الغاز فيه أكبر هو وعاء الغاز:

- أ . H_2 ب. He
ج. Ar د . Xe

2. إذا علمت أن الكتلة المولية للغازات الآتية

$$(H_2 = 2\text{g/mol} , N_2 = 28\text{g/mol} , O_2 = 32\text{g/mol} , Cl_2 = 71\text{g/mol})$$

فإن أقل هذه الغازات انحرافاً عن سلوك الغاز المثالي عند الظروف نفسها، هو:

- أ . H_2 ب. N_2
ج. O_2 د . Cl_2

3. عينة من الغاز المحصور حجمها (V) عند درجة

حرارة (35°C)، فإن درجة الحرارة التي يصبح عندها

حجم الغاز مثلي حجمه الأصلي عند ثبات الضغط، هي:

- أ . 35°C ب. 70°C
ج. 308°C د . 343°C

4. عندما تصبح درجة الحرارة (بالكلفن) لعينة من غاز

محصور 3 أمثال درجة حرارته الأصلية وحجمه مثلي

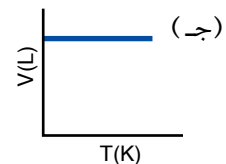
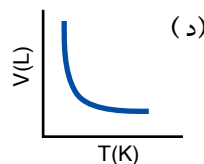
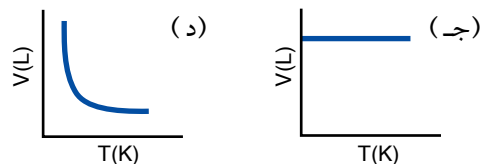
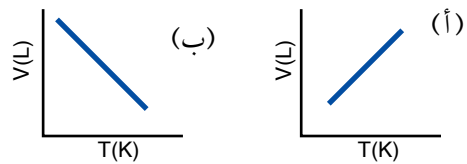
حجمه الأصلي، يصبح ضغطه الجديد (P_2) مقارنة

بالضغط الأصلي (P_1):

- أ. $6 P_1$ ب. $\frac{3}{2} P_1$
ج. $\frac{2}{3} P_1$ د. $3 P_1$

5. إحدى الرسوم البيانية الآتية توضح العلاقة بين حجم

الغاز ودرجة حرارته المطلقة عند ثبات ضغطه:



9. إذا سخن الوعاء الذي يحتوي غاز H_2 في حين برد الوعاء الذي يحتوي غاز Ar؛ فإن الوعاء الذي يكون ضغط الغاز فيه أكبر هو وعاء الغاز:
- أ. H_2 . ب. He
ج. Ar . د. Xe
10. المادة التي لها أعلى درجة غليان معيارية، هي:
- أ. CH_3CH_3 . ب. $CH_3CH_2CH_3$
ج. CH_3CH_2OH . د. CH_3OCH_3
11. ترتيب السوائل الآتية: CH_4 , CH_3Br , CH_3Cl حسب تناقص طاقة تبخرها المولية:
- (Mr (g/mol): $CH_4 = 16$, $CH_3Br = 95$, $CH_3Cl = 50.5$)
- أ. $CH_3Br < CH_4 < CH_3Cl$.
ب. $CH_3Br < CH_3Cl < CH_4$.
ج. $CH_3Cl < CH_3Br < CH_4$.
د. $CH_4 < CH_3Cl < CH_3Br$.
12. أحد العوامل الآتية يؤثر في الضغط البخاري للسائل:
- أ. حجم السائل. ب. شكل الإناء.
ج. درجة الحرارة. د. كمية السائل.
13. الجدول الآتي يتضمن طاقة التكاثر المولية لأربعة سوائل مختلفة أعطيت الرموز الافتراضية A, B, C, D، المادة الأسرع تبخرًا هي:

المادة	A	B	C	D
طاقة التكاثر المولية kJ/mol	31	26	21	44

- أ. A . ب. B
ج. C . د. D

14. يصنف SiC مادة صلبة بلورية:
- أ. جزيئية. ب. شبكية تساهمية.
ج. فلزية. د. أيونية.

15. المادة الصلبة البلورية الموصلة للتيار الكهربائي في حالتها الصلبة والسيولة، هي:
- أ. KF . ب. SiO_2
ج. Cu . د. S_8

أتأمل الصورة

تُستخدم المحاليل الكيميائية على نطاق واسع في حياتنا، سواءً في المنزل أو في الصناعات المتنوعة. فما المحلول؟ وما خصائصه؟

الفكرة العامة:

تُصنّف المواد إلى قسمين: مواد نقية، ومخاليط. والمحاليل إحدى أنواع المخاليط، لها خصائص معينة.

الدرس الأول: تصنيف المحاليل

الفكرة الرئيسة: المحاليل مخاليط متجانسة، وتُقسّم إلى أنواع مختلفة وفق حالة المذيب الفيزيائية وحالة الإشباع والتوصيل الكهربائي وحجم جسيمات المذاب.

الدرس الثاني: خصائص المحاليل

الفكرة الرئيسة: للمحاليل خصائص عدة تميزها عن المذيب النقي، مثل الضغط البخاري ودرجة الغليان ودرجة التجمّد والضغط الأسموزي.

تجربة استهلاكية

خصائص المخاليط

المواد والادوات: بيرمنغنات البوتاسيوم $KMnO_4$ ، مسحوق كربونات الكالسيوم، حليب سائل، ماء مقطر، دورق مخروطي سعة 200 mL عدد 3، كأس زجاجي سعة 200 mL عدد 3، ورق ترشيح، قمع، ملعقة، ميزان، ضوء.

ارشادات السلامة: أحذر عند التعامل مع المواد الكيميائية، ارتدي القفازات ومعطف المختبر والنظارات الواقية.

خطوات العمل :

- 1 أقيس** 5 g من بيرمنغنات البوتاسيوم $KMnO_4$ وأضعها في الكأس الزجاجي وأضيف 150 mL من الماء المقطر واحرك جيداً حتى يذوب تماماً.
- 2 أقيس** 5 g من مسحوق كربونات الكالسيوم $CaCO_3$ ، وأضعها في الكأس الزجاجي وأضيف 150 mL من الماء المقطر واحرك جيداً.
- 3** أضع 150 mL من الحليب السائل في الكأس الزجاجي.
- 4 أجرب:** أسلط الضوء على الكؤوس الثلاثة، وألاحظ الفرق بين مرور الضوء فيها، وأسجل ملاحظاتي.
- 5 أجرب:** أرشح المخلوط الناتج في الكأس الأولى وذلك بوضع ورقة الترشيح داخل القمع ووضع القمع في دورق مخروطي. ثم أصب محتويات الكأس فوق ورقة الترشيح.
- 6** أكرر ذلك للكأسين الثانية والثالثة.
- 7 ألاحظ** الفرق في لون الراشح الناتج بعد عملية الترشيح، وأسجل ملاحظاتي.

التحليل والاستنتاج:

- 1. أقرن** أي المخاليط في الكؤوس تبدو متجانسة؟
- 2. أقرن** أي المخاليط في الكؤوس بقيت المادة على ورق الترشيح بعد عملية الترشيح؟
- 3. أقرن** أي المخاليط في الكؤوس مرر الضوء وأيها لا؟

Mixtures المخاليط

توجد المواد من حولنا على شكل مخاليط؛ فالماء الذي نشربه والعقاقير الطبية وغيرها ما هي إلا أمثلة على المخاليط. فما المخلوط؟ وما أنواع المخاليط؟ وكيف تُصنّف؟

تُصنّف المواد تبعاً لتركيبها إلى مواد نقية ومخاليط، فالمواد النقية تتكوّن من نوع واحد من الجسيمات، ويكون لها تركيب ثابت ومنتظم، مثل العناصر والمركّبات.

غالباً يصعب بقاء المواد في الطبيعة بصورة نقيّة؛ فتختلط مع المواد المحيطة بها، وينشأ نتيجة لذلك ما يُعرف بالمخاليط Mixtures، التي تتكوّن من مزيج من مادّتين نقيّتين أو أكثر، تبقى كلّ منها محتفظةً بخصائصها الكيميائية، ويبين الشكل (1) عددًا من المواد النقيّة والمخاليط.

يختلف تركيب المخلوط تبعاً لاختلاف نسب المواد المُكوّنة له، وكيفية توزيع مُكوّناته؛ فبعضها يمكن تمييز مُكوّناتها، مثل مخلوط الماء والتراب أو مخلوط الخَلّ والزيت، وبعضها الآخر يصعب تمييز مُكوّناته، مثل محلول ملح الطعام أو كبريتات النحاس.

الفكرة الرئيسة:

المحاليل مخاليط مُتجانسة، وتُقسّم إلى أنواع مختلفة وفق حالة المُذيب الفيزيائية وحالة الإشباع والتوصيل الكهربائي وحجم جسيمات المُذاب.


نتائج التعلم:

- أُصنّف المواد إلى نقيّة ومخاليط مُتجانسة وغير مُتجانسة.
- أُصنّف المحاليل وفق خصائص محددة.
- أستنتج العوامل المؤثرة في ذائبية المواد الصلبة والسائلة والغازية في الماء.
- أُصنّف مركّبات وفق ذائبيتها في الماء.

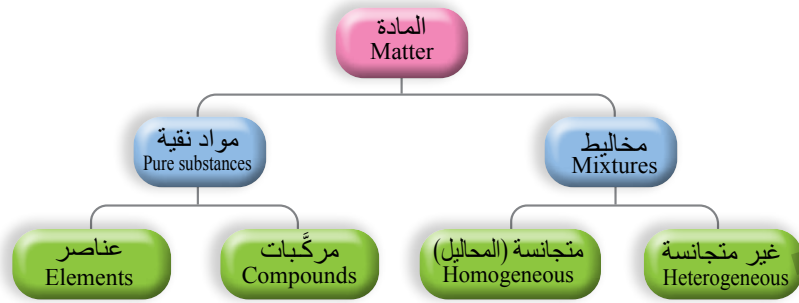
المفاهيم والمصطلحات:

Suspension Mixture	مخلوط معلق
Colloidal Mixture	مخلوط غروي
Solvation	الإذابة
Solubility	الذائبية

الشكل (1): مواد نقية ومخاليط.



الشكل (2): تصنيف المادة.



أنواع المخاليط Types Of Mixtures

تُقسَّم المخاليط إلى قسمين؛ المخاليط المتجانسة، والمخاليط غير المتجانسة، أنظر الشكل (2).

المخاليط غير المتجانسة Heterogenous Mixtures

تتكوّن المخاليط غير المتجانسة Heterogenous Mixtures من مادتين أو أكثر من المواد النقية لا تمتزج مكوناتها امتزاجاً تاماً؛ إذ تحتفظ كل منها بخصائصها الكيميائية وتبقى في المخلول متميزة عن غيرها من المكونات، ويمكن تعرّف نوعين أساسيين من المخاليط، هما: المخاليط المعلقة، والمخاليط الغروية.

المخلول المعلق Suspension Mixture لا تمتزج مكوناته مع بعضها بعضاً، وتتوزع على نحو غير منتظم في أجزائه، ويمكن فصل مكوناته بعملية الترشيح؛ بسبب كبر حجم جسيماته التي يزيد قطرها على (1000 nm)، وترسب جسيماته في أسفل الوعاء بفعل الجاذبية إذا تركت من غير تحريك مدّة من الزمن، كما يمكن أن تنفصل مكونات المخلول المعلق إلى طبقتين واضحتين أو أكثر يمكن رؤيتها بالعين المجردة ومثال ذلك مخلول التراب والماء والزيت، أنظر الشكل (3).

الجدول (1): أمثلة على المخاليط الغروية.

مثال	حالة وسط الانتشار	حالة الجسيمات المنتشرة
الضباب	غاز	سائل
الغبار في الهواء	غاز	صلب
حجر الخفاف	صلب	غاز
الحليب	سائل	سائل

المخلول الغروي Colloidal Mixture يتكوّن من جسيمات تنتشر أو تشتت خلال مادة أخرى تسمى وسط الانتشار، يتراوح قطرها بين (1 nm - 1000 nm)؛ لذلك لا يمكن فصلها بالترشيح، ولا ترسب كما في المخاليط المعلقة. ويمكن تصنيف المخاليط الغروية، تبعاً لحالة الجسيمات المنتشرة ووسط الانتشار، إلى صلب، وسائل، وغاز، كما هو موضّح في الجدول (1) الذي يبيّن أمثلة على المخاليط الغروية.



وتظهر المخاليط الغروية المركزة عكراً، أما المخففة منها فتظهر شفافةً وكلّ منها يُشتت الضوء عند مرور حزمة ضوئية خلالها في ما يُعرف بظاهرة تندال، أنظر الشكل (4) .

المخاليط المتجانسة (Homogeneous Mixture (Solution)

يتكوّن المخلوط المتجانس Homogeneous Mixture من مادتين أو أكثر لا يحدث بينهما تفاعل كيميائيّ بشكل عام، ويسمى المخلوط المتجانس محلول Solution، تنتشر فيه جسيمات المُذاب على نحوٍ منتظم ومتماثل في جميع أنحاء المُذيب؛ لذلك يكون المخلوط متجانساً في التركيب والخواص. ويتراوح قطر جسيمات المُذاب في المحلول من 0.1 nm إلى ما يفارب 1 nm؛ لذلك لا تُرى بالعين المُجرّدة، ولا يمكن فصلُ مُكوّنات المحلول بالترشيح؛ وذلك لِصغر حجم جسيماته. ومن أمثلة المحاليل المحلول الناتج من إذابة السُكّر في الماء، وكذلك الكثير من المحاليل التي تُستخدم في المختبرات الكيميائية.

تصنيفُ المحاليل:

تختلفُ المحاليلُ في خصائصها وأنواعها، وتُصنّفُ وفقَ حالة الإشباع إلى محاليل غير مشبعة ومحاليل مشبعة ومحاليل فوق الإشباع؛ وذلك تبعاً لنسبة المُذاب في المُذيب؛ فالمحلول غير المشبع Unsaturated Solution، هو المحلول الذي يستوعبُ زيادةً من المُذاب عند درجة الحرارة نفسها، وإذا كان لا يستوعبُ زيادةً من المُذاب عند درجة الحرارة نفسها فيسمى المحلول المشبع Saturated Solution، في حين إذا كان يحتوي على كمية من المُذاب أكثر ممّا يمكنُ إذابته عند درجة حرارة معيّنة في ظروف معيّنة فيسمى المحلول فوق الإشباع Super Saturated Solution. تُصنّفُ المحاليلُ أيضاً وفقَ قابليتها للتوصيل الكهربائيّ إلى نوعين، هما: المحاليل الكهرليّة Electrolyte Solutions، وهي التي توصلُ التيارَ الكهربائيّ، والمحاليل اللاكهرليّة Non-Electrolyte Solutions، وهي التي لا توصلُ التيارَ الكهربائيّ.

الربط بالحياة

ظاهرة تندال في الطبيعة يُعدّ الضبابُ مخلوطاً غروباً، تَشَتَّتُ الأشعة الضوئية عند مرور الضوء خلال جسيماته، ويمكنُ ملاحظة هذه الظاهرة بوضوح في بعض الغابات، كما يظهر في الصورة.



الجدول (2): تصنيف المحاليل تبعاً لحالة المُذيب وأمثلة عليها.

حالة المحلول	المُذاب	المُذيب	مثال
صَلْب	صَلْب	صَلْب	النُّحاس في الذَّهب
	سائل	صَلْب	الزَّبَق في الفِصَّة
	غاز	صَلْب	الهيدروجين في البلاتين
سائل	صَلْب	سائل	الملح في الماء
	سائل	سائل	الحَلَّ في الماء
	غاز	سائل	ثاني أكسيد الكربون في الماء
غاز	غاز	غاز	الأكسجين في النيتروجين



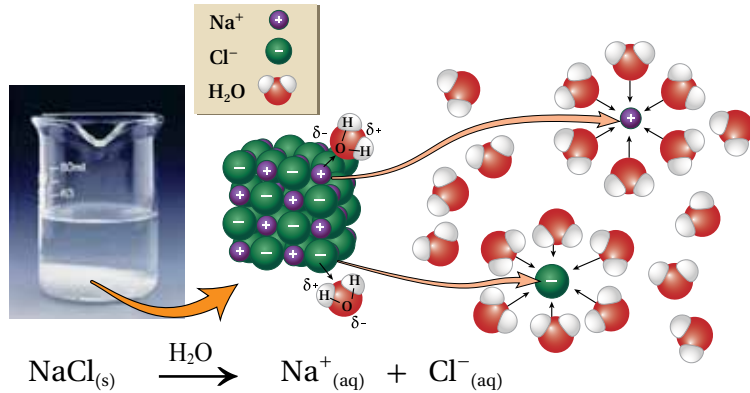
أعدُّ فيلمًا قصيرًا

باستخدام برنامج صانع الأفلام (movie maker)، يوضِّح تصنيف المادة إلى موادَّ نقيَّة (عناصر ومركَّبات) وموادَّ غير نقيَّة (مخاليط متجانسة وغير متجانسة)، ويشتمل على مخطَّط مفاهيمي ومفهوم كلِّ منها وصورٍ وأمثلة، بإشراف معلِّمي / معلمتي، ثم أشاركه مع زملائي / زميلاتي في الصف.

يمكنُ كذلك تصنيفُ المحاليل تبعاً لحالة المُذيب الفيزيائية إلى محاليل صُلبة أو سائلة أو غازية. ويوضِّح الجدول (2) تصنيفَ المحاليل تبعاً لحالة المُذيب وأمثلة عليها. وتُعَدُّ المحاليل السائلة التي يكون فيها المُذيب ماءً من أكثر أنواع المحاليل استخداماً، وتسمَّى المحاليل المائية **Aqueous Solutions**

تكوُّن المحلول Solution Formation

يتكوَّن المحلول عندما تنتشر جسيمات المذاب (جزيئات أو أيونات) بشكلٍ منتظم بين جسيمات المذيب، وتذيب المذيبات القطبية المركبات الأيونية والجزيئات القطبية، أما المذيبات غير القطبية فتذيب المركبات غير القطبية ويمكن تلخيص ذلك بالعبارة الآتية: (الشبيه يذيب شبيهه). وتحدث عملية الذوبان عندما تكون قوى التجاذب بين جزيئات المذيب وجسيمات المذاب كافية للتغلب على قوى التجاذب بين جسيمات المذاب فتُحاط هذه الجسيمات بجزيئات المذيب وتسمى هذه العملية **الإذابة Solvation**. أنظر إلى الشكل (5)، الذي يبيِّن عملية الإذابة لمركَّب كلوريد الصوديوم في الماء.



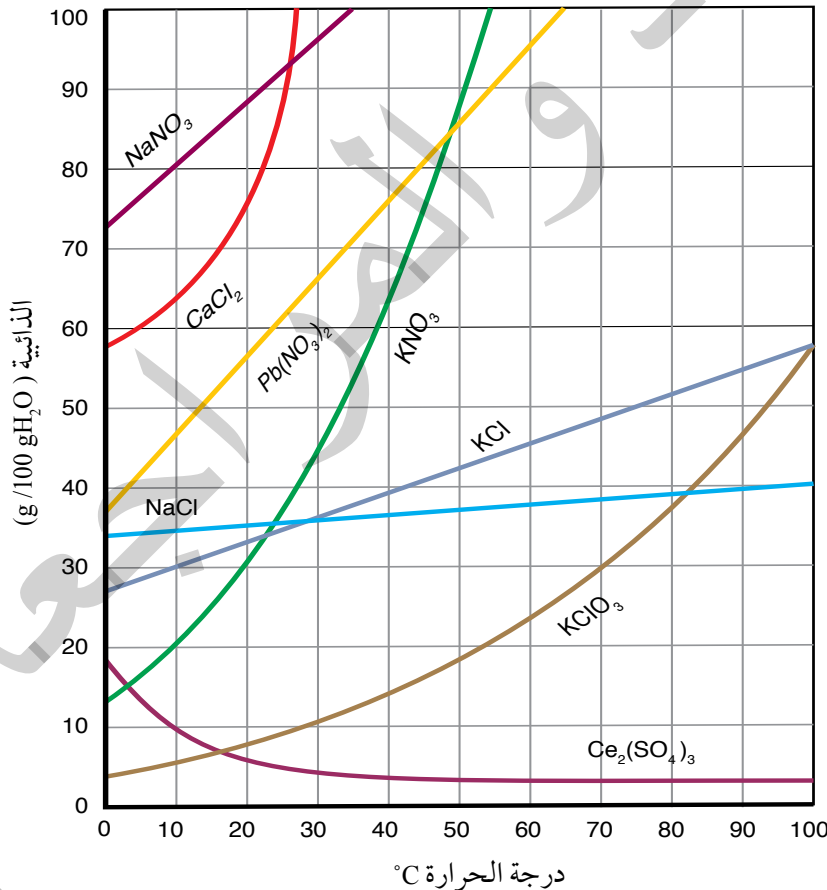
المحاليل السائلة:

محلّولٌ صُلْبٌ في سائل:

يُذيبُ الماءُ كثيرًا من الموادِّ الصُّلبة، ويعتمدُ ذوبانُها على عاملين أساسيين، هما: طبيعة المادة، ودرجة الحرارة. وتعتمد طبيعة المادة على نوع قوى الترابط بين جسيماتها؛ ما يؤثرُ في ذائبيتها في الماء. وتعرفُ **الذائبيّة Solubility** بأنها أكبر كتلة من المُذاب التي يمكن أن تذيبَ في 100 g من المُذيب عند درجة حرارة معيَّنة، أو كمية المُذاب اللازمة لعمل محلّول مشبع في 100 g من المُذيب عند درجة حرارة معيَّنة. وتختلف ذائبيّة الموادِّ الصُّلبة الأيونيّة في الماء باختلاف درجة حرارة المحلول. ويوضِّحُ الشكل (6) أثر درجة الحرارة على ذائبيّة بعض الأملاح في 100 g من الماء. ألاحظُ من الشكل أنّ ذائبيّة غالبية الأملاح في الماء تزداد بزيادة درجة حرارة المحلول، وتتفاوتُ هذه الزيادة من ملح لآخر، كما هو مبينٌ في الشكل، فمنها ما تزداد ذائبيته على نحوٍ كبير، مثل نترات البوتاسيوم KNO_3 ، ومنها ما تزداد ذائبيته على نحوٍ طفيف، مثل كلوريد الصوديوم $NaCl$ في حين يُلاحظُ أنّ ذائبيّة ملح كبريتات السيريوم $Ce_2(SO_4)_3$ تقلُّ بزيادة درجة الحرارة.

محلّولٌ كلوريد الصوديوم $NaCl$

يُستخدمُ محلّولُ كلوريد الصوديوم $NaCl$ بتركيز معيَّنة في تعقيم الجروح الموضعيّة والحروق، ويدخلُ في تركيب بعض العقاقير الطبيّة، كقطرات العيون ومعقّبات مجرى التنفّس، كما يستخدمُ باسم (Normal Saline) وبتركيز 0.9% بالكتلة في تعويض نقص السوائل في الجسم الناجم عن بعض المشكلات الصحيّة.



الشكل (6): أثر التغير في درجة الحرارة على ذائبيّة بعض الأملاح.

أحدد الملح الأكثر ذائبيّة والمُحَلِّق الأقل ذائبيّة على درجة حرارة 10 °C

المثال 1

بالرجوع إلى الشكل (6)، ما ذائبية كلوريد الكالسيوم CaCl_2 عند درجة حرارة 20°C ؟

الحل:

أحدد درجة الحرارة 20°C ؛ ثم أتحرك رأسياً إلى الأعلى حتى أصل نقطة التقاطع مع المنحني، ثم أقرأ التدرج المقابل لها على محور الذائبية فتكون القراءة $75\text{ g}/100\text{ g H}_2\text{O}$

المثال 2

بالرجوع إلى الشكل (6)، عند أي درجة حرارة تتساوى ذائبية نترات البوتاسيوم KNO_3 ونترات الرصاص $\text{Pb}(\text{NO}_3)_2$ ؟

الحل:

أحدد نقطة تقاطع المنحنيين الممثلين، للمادتين وأرسم منها خطاً على المحور الممثل لدرجة الحرارة؛ فأجد أنه يتقاطع مع المحور عند درجة حرارة 48°C التي تمثل درجة الحرارة التي تتساوى عندها ذائبية الملح.

المثال 3

بالرجوع إلى الشكل (6)، ما درجة الحرارة اللازمة لتحضير محلول ذائبيته 25 g من كلورات البوتاسيوم KClO_3 في 100 g من الماء؟

الحل:

أحدد النقطة التي تمثل 25 g على محور الذائبية، ثم أتجه أفقياً حتى نقطة التقاطع مع منحنى KClO_3 ، ثم أقرأ التدرج المقابل لها على محور درجة الحرارة، فتكون القيمة 65°C

أفكر: بالرجوع إلى الشكل (6)، ما

أكبر كمية من كلوريد البوتاسيوم KCl يمكن أن تذوب في 250 g ماء عند درجة حرارة 80°C ؟

✓ **أتحقق:** بالرجوع إلى الشكل (6)، ما مقدار ذائبية ملح كلوريد الصوديوم NaCl في الماء عند درجة 50°C ؟

قواعد ذائبية المركبات الأيونية في الماء

تختلف المركبات الأيونية (الأملاح) في درجة ذوبانها في الماء، فمنها ما يذوب تمامًا في الماء، وبعضها شحيح الذوبان أو لا يذوب، كما يوضح الجدول (3).

الجدول (3): قواعد ذائبية بعض المركبات الأيونية في الماء.

الرقم	المركبات (الأملاح)	الذوبان	الاستثناءات
1	المركبات المحتوية على أيونات عناصر المجموعة 1A مثل: (Li^+, Na^+, K^+) ومركبات الأمونيوم NH_4^+ .	ذائبة	-
2	المركبات المحتوية على الأيونات: النترات NO_3^- ، الإيثانات CH_3COO^- .	ذائبة	-
3	المركبات المحتوية على الأيونات: الكلوريد Cl^- ، البروميد Br^- ، اليوديد I^- .	معظمها ذائبة	ما عدا إذا ارتبطت بأحد الأيونات الآتية: Hg^{2+} ، Ag^+ ، Pb^{2+} . تكون غير ذائبة.
4	المركبات المحتوية على أيون الكبريتات SO_4^{2-} .	معظمها ذائبة	ما عدا إذا ارتبطت بأحد الأيونات الآتية: Ba^{2+} ، Ca^{2+} ، Ag^+ ، Pb^{2+} ، Sr^{2+} . تكون غير ذائبة
5	المركبات المحتوية على أيون الكربونات CO_3^{2-} .	معظمها غير ذائبة	ما عدا مركبات عناصر المجموعة 1A ومركبات الأمونيوم تكون ذائبة.
6	المركبات المحتوية على أيون الهيدروكسيد OH^- .	معظمها غير ذائبة	ما عدا هيدروكسيدات فلزات عناصر المجموعة 1A و $Ba(OH)_2$ و $Sr(OH)_2$ تذوب، أما، $Ca(OH)_2$ فهو أقل ذائبية منها.

✓ **أنتحقق:** أحدد المركبات الذائبة في الماء من الآتية:

$AgCl$ ، $BaSO_4$ ، CH_3COONa ، $AgNO_3$

محلول سائل في سائل:

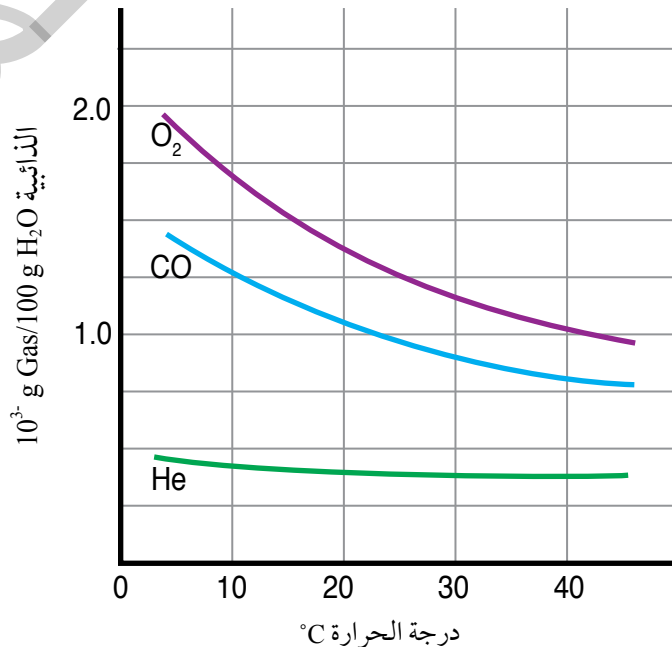
تذوبُ بعضُ السوائل في الماء، في حين لا تذوبُ فيه سوائلُ أخرى؛ فمثلاً؛ يذوبُ فيه الإيثانول $\text{CH}_3\text{CH}_2\text{OH}$ ؛ لأنَّ جُزيئاته تمتلكُ خصائصَ قطبيَّةً فتكوِّن روابطَ هيدروجينية قويَّةً معَ جُزيئات الماء القطبيَّة؛ ممَّا يؤدي إلى امتزاجهما وتكوُّنهما محلولاً مُتجانساً. وفي المقابل لا يذوب البنزين C_6H_6 في الماء؛ لأنَّ جُزيئاته لا تمتلكُ خصائصَ قطبيَّةً، فلا يحدثُ تجاذبٌ بينها وبين جزيئات الماء؛ لذا يكوِّنان طبقتين منفصلتين ولا يمتزجان.

محلول غاز في سائل:

تتفاوتُ الغازاتُ في ذائبيَّتِها في الماء، ويعتمدُ ذلك على طبيعة الغاز المُذاب ودرجة الحرارة وضغط الغاز. ويوضِّحُ الجدول (4) الكتلة الموليَّة لبعض الغازات وذائبيَّتِها في الماء. بوجهٍ عام؛ ذائبيَّةُ الغازات منخفضةٌ في الماء، وتزدادُ بزيادة الكتلة الموليَّة للغاز؛ ويعودُ ذلك إلى زيادة قوى التجاذب بين جُسيمات الغاز وجزيئات الماء. ويوضِّحُ الشكل (7) أثرَ درجة الحرارة في ذائبيَّة بعض الغازات، حيث تقلُّ ذائبيَّة الغازات في الماء بزيادة درجة الحرارة؛ إذ تزدادُ الطاقة الحركيَّة لجُسيمات الغاز وتتغلَّبُ على قوى التجاذب بينها وبين جزيئات الماء؛ فيؤدي ذلك إلى انفلاتها ومغادرتها المحلول.

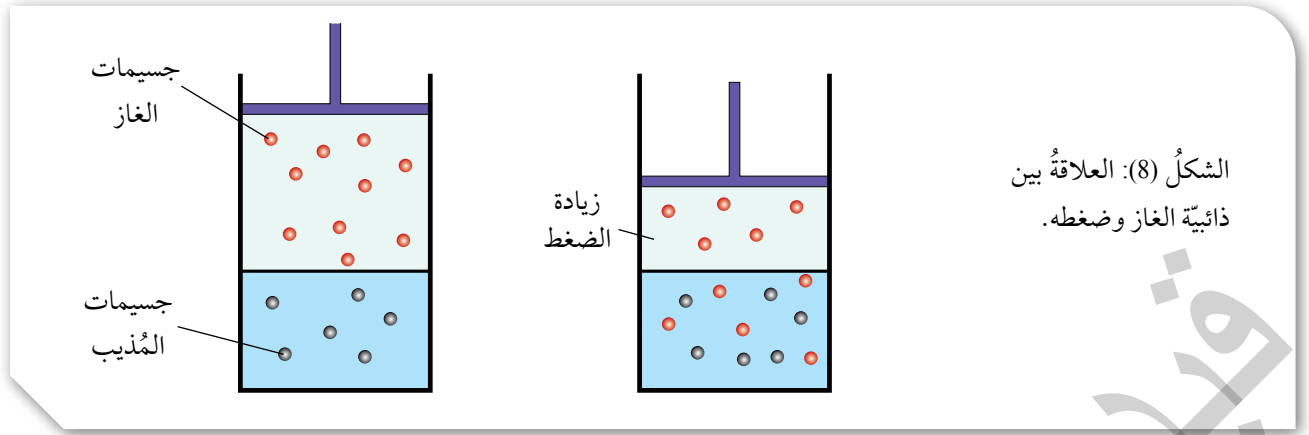
الجدول (4): الكتلة المولية لبعض الغازات وذائبيَّتِها في الماء عند درجة حرارة وضغط ثابتين.

الغاز	الكتلة الموليَّة Mr (g/mol)	الذائبيَّة 10^3 g Gas/100 g H_2O
N_2	28	0.018
O_2	32	0.040
CO_2	44	0.140



الشكل (7): أثرَ درجة الحرارة في ذائبيَّة بعض الغازات عند ضغط ثابت.

أُرْتُبُ الغازات في الشكل وَفَقَ ذائبيَّتِها في الماء عند درجة حرارة 20°C .



الشكل (8): العلاقة بين ذائبية الغاز وضغطه.

كما تزداد ذائبية الغازات في الماء بزيادة الضغط الجزئي للغاز. انظر الشكل (8)، الذي يوضح العلاقة بين ذائبية الغاز وضغطه.

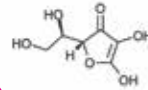
✓ **أتحقّق:** ما العوامل التي تعتمد عليها ذائبية الغاز في الماء؟

الربط بعلم الأحياء

ذائبية الفيتامينات في الماء

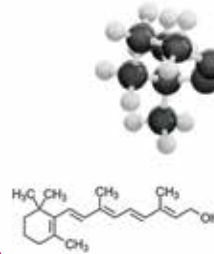
يحتاج جسم الإنسان إلى الفيتامينات للمحافظة على صحته وحمایته من الأمراض، وتُصنّف الفيتامينات بحسب قابليتها للذوبان في الماء أو الدهن؛ فالذائبة في الماء، مثل فيتامينات (C، B)، لا يستطيع الجسم تخزينها والاحتفاظ بها لوقت طويل؛ لذلك من الضروري تناول الوجبات اليومية المحتوية عليها، في حين أنّ الفيتامينات الذائبة في الدهن، مثل (A، D، K، E)، تمتصها الأمعاء بمساعدة الدهن، وهي تُخزن في الجسم فترة طويلة؛ ولذلك يُفضّل تناول فيتامين D -مثلاً- خلال وجبة تحتوي على الدهنيات.

Vitamin C
Ascorbic acid
 $C_6H_8O_6$



H
Hydrogen
C
Carbon
O
Oxygen

Vitamin A
Retinol
 $C_{20}H_{30}O$



H
Hydrogen
C
Carbon
O
Oxygen

مراجعة الدرس

1. الفكرة الرئيسية: أوضِّح الفرق بين المخاليط المتجانسة وغير المتجانسة.

2. أوضِّح المقصود بكُلِّ من الآتي: المخلوط الغروي، المخلوط المعلق، الذائبة.

الغاز	Ar	Cl ₂	O ₂	N ₂
الكتلة المولية g/mol	40	71	32	28

3. بيِّن الجدول الآتي أربعة غازات وكُتلتها المولية عند

الظروف نفسها من الضغط ودرجة الحرارة. أُحدِّد

الغاز الذي له أعلى ذائبة في الماء. أبرر إجابتي.

4. **أستخدم الأرقام.** بالرجوع إلى الشكل (6) أحسب كتلة Pb(NO₃)₂ اللازمة لتحضير محلول مشبع منه في

250 g H₂O عند درجة حرارة 20 °C.

5. أختار الإجابة الصحيحة لكلِّ فقرة من الفقرات الآتية:

1. إحدى العبارات الآتية يعبر عن عملية إذابة ملح كلوريد البوتاسيوم KCl في الماء:

أ. انفصال الأيونات عن بلورة الملح وإحاطتها بجزيئات الماء.

ب. تفاعل أيونات الملح مع الماء.

ج. تجاذب جزيئات الماء مع الأيونات في بلورة الملح دون أن تتسبب في انفصالها.

د. انصهار أيونات الملح في المحلول.

2. المادة التي تعدّ مثلاً على المخلوط الغروي:

أ. النيتروجين في الأكسجين.

ب. الضباب.

د. كلوريد الصوديوم.

ج. الخل في الماء.

3. أحد المواد الآتية أكثر ذائبة في البنزين C₆H₆:

د. CH₂OHCH₂OH

ج. C₆H₁₄

ب. HCOOH

أ. CH₃OH

4. يصنّف حجر الخفاف وفقّ حالة الجسيمات المنتشرة وحالة وسط الانتشار، إلى:

أ. غاز في صلب ب. غاز في سائل ج. غاز في غاز د. سائل في صلب

5. أضيف 50 g من ملح كلوريد الصوديوم NaCl إلى 100 g H₂O عند درجة حرارة 50 °C، وبعد تحريك

المحلول جيداً ترسبت كمية من الملح في قاع الوعاء، تم ترشيح المحلول وتجفيف الملح المترسب

وكانت كتلته 13 g، فإن ذائبة NaCl عند 50 °C في 100g H₂O تساوي (g):

د. 63

ج. 50

ب. 37

أ. 13

الخصائص الجامعة للمحاليل

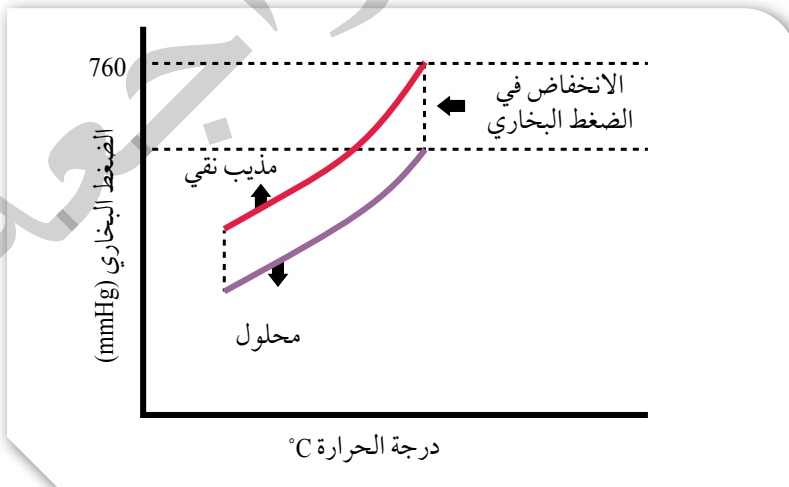
Colligative Properties of Solutions

عرفت في ما سبق أنّ المحاليل تتكوّن من المذاب والمذيب، وقد وجد أنّ بعض خصائص المذيب الفيزيائية تتأثر بعدد الجسيمات المذابة فيه، ولا تعتمد على طبيعة المذاب، ويطلق على هذه الخصائص التي تتأثر بعدد جسيمات المذاب اسم الخصائص الجامعة للمحاليل Colligative Properties of Solutions، والخواصّ الجمعية هي الانخفاض في الضغط البخاري، والارتفاع في درجة الغليان، والانخفاض في درجة التجمّد، والضغط الأسموزي. وسندرس أوّل ثلاث خواصّ في هذا الكتاب.

الانخفاض في الضغط البخاري Vapor Pressure Lowering

عرفت في ما سبق أنّ السائل يتبخّر عند أيّ درجة حرارة، وأنّ البخار الناتج يولّد ضغطاً على سطح السائل يسمّى الضغط البخاريّ للسائل. وقد بينت التجارب أنه عند إضافة مذاب إلى مذيب ينخفض الضغط البخاري للمحلول مقارنة بالمذيب النقي، وهذا ما يسمّى الانخفاض في الضغط البخاري Vapor Pressure Lowering، ويقاس مقدار هذا الانخفاض بحساب الفرق بين الضغط البخاريّ للمذيب النقيّ والضغط البخاريّ للمحلول عند درجة حرارة معيّنة. يوضّح الشكل (9) مقارنة بين الضغط البخاريّ لمحلول ومذيب نقيّ.

يعتمد الضغط البخاري للمحلول على عدد جسيمات المذاب فيه؛ فانخفاض الضغط البخاريّ للمحلول يزداد بزيادة تركيز المحلول، ويمكن تفسير ذلك بأنّه عند إذابة مادة غير متطايرة وهي المواد التي لها درجة انصهار



الفكرة الرئيسة:

للمحاليل خصائص عدّة، تميزها عن المذيب النقي، مثل الضغط البخاريّ ودرجة الغليان ودرجة التجمّد والضغط الأسموزي.

نتائج التعلم:

- أستنتج الخصائص الجامعة للمحاليل (الضغط البخاريّ، درجة الغليان، درجة التجمّد، الضغط الأسموزي).

- أجري حسابات لمعرفة درجة غليان المحلول ودرجة تجمّده.

- أقارن بين أثر المركّبات الأيونية والجزيئية في تغيير خصائص المذيب.

- أستقصي بعض التطبيقات العملية المرتبطة بخصائص المحاليل.

المفاهيم والمصطلحات:

الانخفاض في الضغط البخاري

Vapor Pressure Lowering

الارتفاع في درجة الغليان

Boiling Point Elevation

الانخفاض في درجة التجمّد

Freezing Point Depression

الأسموزية Osmosis

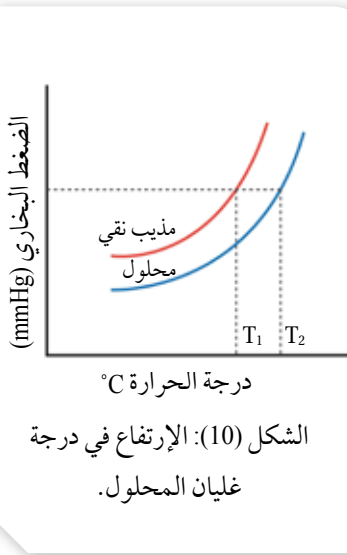
الضغط الأسموزي Osmotic Pressure

الشكل (9): الضغط البخاريّ لمحلول ومذيب نقي.

وغيان مرتفعة؛ فإنَّ جزيئات المذاب سوف تحتلُّ جزءاً من سطح الماء (المذيب)، فيقلُّ عددُ جزيئات الماء عند السطح ويقلُّ تبخُّرها، إضافةً إلى نُشوءِ تجاذبٍ بين بعض جسيمات المذيب وجسيمات المذاب، وهذا أيضاً يقلُّ عددَ جسيمات المذيب، التي يمكنُها أن تفلتَ من السطح لتتحوّل إلى الحالة الغازية، مقارنةً بعدد جسيمات المذيب النقي المتبخرة، ونتيجةً لذلك يقلُّ الضغط البخاري للمحلول عنه للمذيب النقي. وكلّما ازداد عددُ جسيمات المذاب في حجم معيّن من المحلول يزدادُ تركيزُهُ ويقلُّ ضغطُهُ البخاري؛ لذلك فالمحلول المُركّزُ أقلُّ ضغطاً بخارياً من المحلول المُخفّف، في حين أن الضغط البخاريّ للمذيب النقيّ أعلى منه لكليهما.

الارتفاع في درجة الغليان Boiling Point Elevation

يتميّز المذيب النقيُّ بدرجة غليان محددة عند ضغط جويّ محدد، ويغلي السائلُ عندما يصبح ضغطُهُ البخاريُّ مساوياً للضغط الخارجي، فالماء النقيُّ يبدأ بالغليان عند درجة حرارة 100 °C و ضغط 1 atm، ثم تثبت درجة غليانه عند هذه الدرجة، وعند إذابة مادة غير مُتطايرة في الماء؛ فإنَّ المحلول يبدأ بالغليان على درجة أعلى من 100 °C؛ وبذلك فإنَّ درجة غليان المحلول أعلى من درجة غليان المذيب النقيّ. عند وصول المحلول إلى درجة غليان المذيب يكونُ الضغطُ البخاريُّ أقلَّ من الضغط الجويّ؛ ممّا يتطلّب زيادةً درجة الحرارة؛ للتغلّب على قوى التجاذب الناشئة بين جسيمات المذيب والمذاب كي يصلَ الضغطُ البخاريُّ إلى الضغط الجويّ، فتزدادُ درجة الغليان. ويسمّى الفرقُ بين درجة غليان المذيب النقيّ والمحلول **الارتفاع في درجة الغليان** (ΔT_b) **Boiling Point Elevation**. أنظر الشكل (10)، ويتناسب مقدارُ الارتفاع في درجة غليان المحلول طردياً مع التركيز المولاليّ للمحلول، ويُعبّر عنه بالصيغة الرياضية كما يأتي:



الشكل (10): الارتفاع في درجة غليان المحلول.

$$\frac{\text{التركيز المولالي (m)}}{\text{عدد مولات المذاب (mol)}} = \frac{\text{كتلة المذيب (kg)}}{\text{كتلة المذيب (kg)}}$$

الارتفاع في درجة الغليان = ثابت × المولالية

$$\Delta T_b = K_b \times m$$

ΔT_b الارتفاع في درجة الغليان.

K_b ثابت الارتفاع في درجة غليان المذيب.

m التركيز المولاليّ للمحلول.

$$\Delta T_b = T_2 - T_1$$

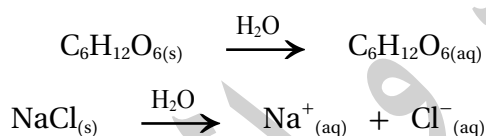
حيث T_2 درجة غليان المحلول و T_1 درجة غليان المذيب

الجدول (5): قِيمُ ثابتِ الارتفاعِ في درجة الغليان لبعض المُذيبات السائلة.

المُذيب	درجةُ الغليان °C عند ضغط جويّ 1 atm	ثابت الارتفاع في درجة غليان المُذيب K_b °C.kg/mol
الماء	100	0.512
الإيثانول	78.3	1.07
البنزين	80.2	2.61

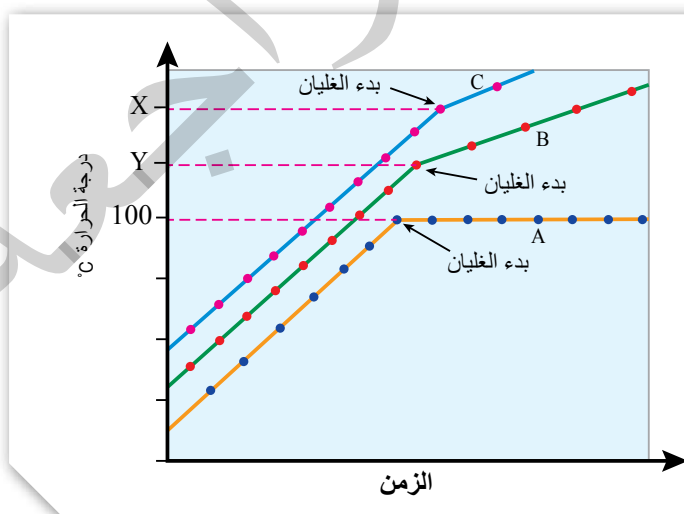
ويوضِّحُ الجدول (5) قِيمَ ثابتِ الارتفاعِ في درجة الغليان لبعض المُذيبات السائلة. ويسمى (K_b) ثابت الارتفاع في درجة غليان المُذيب السائل، ويساوي مقدارَ الارتفاع في درجة غليان المُذيب عند إذابة 1 mol من المُذاب في 1 kg من المُذيب النقي، وتعتمدُ قيمتهُ على طبيعة المُذيب.

لا تثبت درجة غليان المحلول في أثناء الغليان، بل تستمرُّ في الارتفاع. وعند المقارنة بين درجتي غليان محلولي المادتين غير المتطايرتين المتأينة وغير المتأينة - عند التركيز نفسه - كما في الشكل التوضيحي (11)، نجد أن درجة غليان محلول المادة المتأينة (X) أعلى من درجة الغليان لمحلول المادة غير المتأينة (Y). ويمكن تفسير ذلك من خلال المعادلتين الآتيتين لمادة غير متأينة ($C_6H_{12}O_6$) ومادة متأينة (NaCl):



إذ يتضح من المعادلتين أن عدد الجسيمات في محلول NaCl أكثر منه في محلول $C_6H_{12}O_6$. وبما أن خواص المحلول تعتمد على عدد الجسيمات؛ فإن الارتفاع في درجة غليان محلول المادة المتأينة أعلى منه لمحلول المادة غير المتأينة.

أفكر: أيهما له أعلى درجة غليان محلول KBr أم محلول $MgBr_2$ لهما التركيز نفسه؟



الشكل (11): غليان كلِّ من الماء النقي (A) ومحلول مادة غير متأينة (B) ومحلول مادة متأينة (C) عند الظروف نفسها.

المثال 4

إذا علمتُ أنّ 18 g من السُّكَّر $C_6H_{12}O_6$ أُذيبَ في 500 g من الماء النقيّ؛ فأحسبُ درجةَ غليان المحلول الناتج. علمًا أنّ ثابتَ الارتفاع في درجة غليان الماء $0.512 \text{ }^\circ\text{C}\cdot\text{kg/mol}$ والكتلة الموليّة للسُّكَّر للمُذاب

$$Mr = 180 \text{ g/mol}$$

المُعطيات:

$$m_{(C_6H_{12}O_6)} = 18 \text{ g}$$

$$m_{(H_2O)} = 500 \text{ g} = 0.5 \text{ kg}$$

$$K_b = 0.512 \text{ }^\circ\text{C}\cdot\text{kg/mol}$$

$$Mr = 180 \text{ g/mol}$$

المطلوب: حسابُ درجة غليان المحلول.

الحلّ:

أحسبُ عدد مولات المُذاب:

$$n = \frac{18 \text{ g} \times 1 \text{ mol}}{180 \text{ g}} = 0.1 \text{ mol}$$

$$m = \frac{0.1 \text{ mol}}{0.5 \text{ kg}} = 0.2 \text{ mol/kg}$$

$$\Delta T_b = K_b \times m$$

$$\Delta T_b = 0.512 \times 0.2 = 0.102 \text{ }^\circ\text{C}$$

أحسبُ التركيز المولاليّ للمحلول:

أحسبُ الارتفاع في درجة الغليان:

درجةُ غليان المحلول T

$$T_2 = 100 + 0.102 = 100.102 \text{ }^\circ\text{C}$$

في حالة المحاليل الأيونية يتأثر التركيز الكلي للمحلول بعدد مولات الأيونات الناتجة في المعادلة الموزونة التي يعبر عنها بالرمز (i)، ولذلك يمكن حساب التغير في درجة الغليان في المحاليل الأيونية باستخدام العلاقة الآتية:

$$\Delta T_b = K_b \times m \times i$$

المثال 5

إذا علمت أنّ 5.85 g من NaCl أُذيبَ في 0.5 kg من الماء؛ فأحسبُ درجةَ غليان المحلول. علماً أنّ الكتلة المولية للمُذاب ($Mr = 58.5 \text{ g/mol}$)، وثابتَ الارتفاع في درجة غليان الماء ($0.512 \text{ }^\circ\text{C}\cdot\text{kg/mol}$).

المُعطيات:

$$m_{(\text{NaCl})} = 5.85 \text{ g}$$

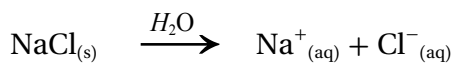
$$m_{(\text{H}_2\text{O})} = 0.5 \text{ kg}$$

$$Mr_{\text{NaCl}} = 58.5 \text{ g/mol}$$

$$K_b = 0.512 \text{ }^\circ\text{C}\cdot\text{kg/mol}$$

المطلوب: حسابُ درجة غليان المحلول.

الحلّ:



عدد مولات الأيونات = 2 mol

عدّد مولات المُذاب:

$$n = \frac{5.85 \text{ g} \times 1 \text{ mol}}{58.5 \text{ g}} = 0.1 \text{ mol}$$

مولاليّة المحلول:

$$m = \frac{0.1 \text{ mol}}{0.5 \text{ kg}} = 0.2$$

بما أنّ عدد مولات الأيونات (i) = 2

ومنها أحسبُ الارتفاع في درجة الغليان

$$\Delta T_b = K_b \times m \times i$$

$$\Delta T_b = 0.512 \times 0.2 \times 2 = 0.205 \text{ }^\circ\text{C}$$

ومنه؛ فإنّ درجة غليان المحلول تساوي:

$$T_2 = 100 + 0.205 = 100.205 \text{ }^\circ\text{C}$$

✓ **أتحقّق:** أحسبُ مقدارَ الارتفاع في درجة غليان محلول تكوّن بإذابة 12 g من حمض الميثانويك HCOOH ($Mr = 46 \text{ g/mol}$) في 2 kg من الإيثانول. علماً أنّ ثابتَ الارتفاع في درجة غليان الإيثانول

$$1.07 \text{ }^\circ\text{C}\cdot\text{kg/mol}$$

الانخفاض في درجة التجمد Freezing Point Depression

تتشرُّ جسيماتُ المُذاب بين جسيمات المُذيب في المحلول وتحتلُّ حيزاً بينها؛ ممَّا يُعيقُ تقاربها وتجاذبتها، إضافةً إلى أنَّ التجاذبَ الناشئَ بين جسيمات المُذاب والمُذيب يعملُ على التقليل من فرص التجاذبِ بين جسيمات المُذيب نفسها، ومن ثمَّ فإنَّ جسيمات المُذاب تُعيقُ تقاربَ الجسيمات من بعضها وانجذابها نحو بعضها بعضاً؛ للوصول إلى الحالة الصلبة عند درجة التجمد؛ فيلزم حينئذٍ انخفاضُ أكثر في درجة الحرارة، فتصبح أقلُّ من درجة تجمد المُذيب النقي حتى تتقارب جسيمات المُذيب، وتتجاذبُ وتصلُّ إلى حالة التجمد، ويسمَّى الفرقُ بين درجة تجمد المحلول ودرجة تجمد المُذيب النقي الانخفاض في درجة التجمد **Freezing Point Depression (ΔT_f)**. وبهذا نجد أنَّ درجة تجمد المحلول أقلُّ من درجة تجمد المُذيب النقي، ويتناسبُ مقدارُ الانخفاض في درجة تجمد المحلول طردياً مع التركيز المولالي للمحلول، ويُعبَّر عنه بالصيغة الرياضية الآتية:

الانخفاض في درجة التجمد = ثابت \times المولالية

$$\Delta T_f = K_f \times m$$

ΔT_f الانخفاض في درجة التجمد.

$$\Delta T_f = T_1 - T_2$$

حيث T_2 درجة تجمد المحلول و T_1 درجة تجمد المُذيب

K_f ثابتُ الانخفاض في درجة تجمد المُذيب.

ويمكن في المحاليل الأيونية استخدام العلاقة

$$\Delta T_f = K_f \times m \times i$$

ويُقاس ثابت الانخفاض في درجة تجمد المُذيب بإذابة 1 mol من المُذاب في 1 kg من المُذيب النقي، وتعتمد قيمة ثابت الانخفاض على طبيعة المُذيب. ويوضح الجدول (6) قيم ثابت الانخفاض في درجة تجمد بعض المذيبات السائلة.

الجدول (6): قِيَمُ ثابتِ الانخفاض في درجة تجمد بعض المذيبات السائلة.

المُذيب	درجةُ التجمد °C	ثابتُ الانخفاض في درجة تجمد المُذيب K_f °C.kg/mol
الماء	0.0	1.86
الإيثانول	-114.1	1.99
البنزين	5.5	5.07

المثال 6

أحسب درجة التجمد لمحلول كلوريد المغنيسيوم $MgCl_2$ يحتوي على 0.95 g من المادة المذابة في 0.1 kg من الماء المُقَطَّر. علماً أنّ $(K_f = 1.86 \text{ }^\circ\text{C}\cdot\text{kg/mol}, Mr = 95 \text{ g/mol})$.

المعطيات:

$$m_{(MgCl_2)} = 0.95 \text{ g}$$

$$m_{(H_2O)} = 0.1 \text{ kg}$$

$$Mr_{(MgCl_2)} = 95 \text{ g/mol}$$

$$K_f = 1.86 \text{ }^\circ\text{C}\cdot\text{kg/mol}$$

المطلوب: حساب درجة تجمد المحلول

الحل:



عدد مولات الأيونات = 3

أحسب عدد مولات المُذاب

$$n = \frac{0.95 \text{ g} \times 1 \text{ mol}}{95 \text{ g}} = 0.01 \text{ mol}$$

$$m = \frac{0.01 \text{ mol}}{0.1 \text{ kg}} = 0.1 \text{ mol/kg}$$

أحسب التركيز المولالي للمحلول

بما أنّ عدد مولات الأيونات (i) = 3

أحسب الانخفاض في درجة التجمد:

$$\begin{aligned} \Delta T_f &= K_f \times m \times i \\ &= 1.86 \times 0.1 \times 3 = 0.558 \end{aligned}$$

درجة تجمد المحلول:

$$T_2 = 0.0 - 0.558 = -0.558 \text{ }^\circ\text{C}$$

✓ **أتحقق:** أحسب مقدار الانخفاض في درجة التجمد لمحلول تكوّن بإذابة 0.1 mol من مادة غير متأيّنة في 400 g من

البنزين. علماً أنّ ثابت الانخفاض في درجة تجمد البنزين $5.07 \text{ }^\circ\text{C}\cdot\text{kg/mol}$

التجربة 1

الانخفاض في درجة التجمد

المواد والأدوات:

كأسان زجاجيان سعة كلٌّ منهما 300 mL، جليد مجروش، ماء مُقَطَّر، ساق تحريك زجاجية، مقياس حرارة غير زئبقي، ملح الطعام NaCl الخشن، ميزان حساس.

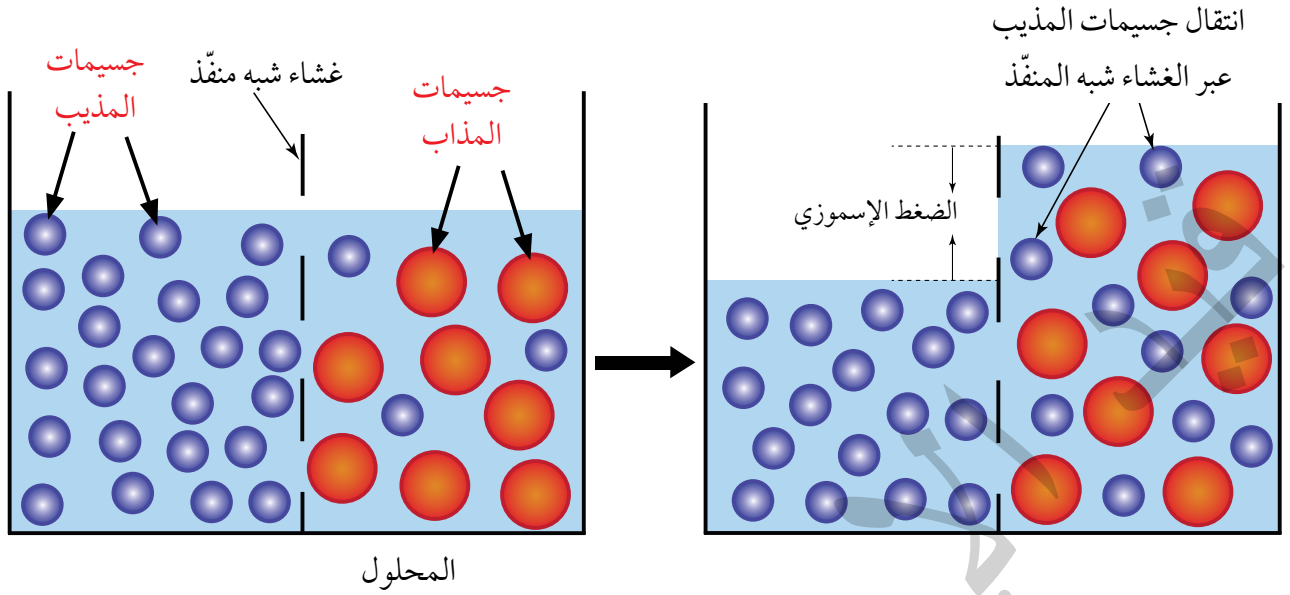
إرشادات السلامة: ارتدي معطف المختبر والقفازين والنظارات الواقية.

خطوات العمل:

1. **أقيس** 250 g من الجليد المجروش وأضعها في كل كأس زجاجية.
2. أضيف إلى كل كأس 50 mL من الماء المُقَطَّر.
3. **أقيس** درجة حرارة خليط الجليد والماء في كل من الكأسين باستخدام مقياس الحرارة، وأُسجِّل القراءة.
4. **أجرب:** أحرِّك ساق التحريك محتويات كل كأس مدة دقيقة ونصف حتى تصبح درجتا حرارة الكأسين متماثلتين، وأُسجِّلهما.
5. **ألاحظ:** أضيف 50 g من الملح إلى إحدى الكأسين، وأحرِّك محتويات كل منهما، ثم أسجِّل درجة الحرارة عند ثباتها.

الاستنتاج والتحليل:

1. **أقارن** بين درجة حرارة الكأسين في الخطوة 5.
2. **أفسر** أثر أيونات الملح (Na^+ , Cl^-) الموجودة في المحلول في خفض درجة التجمد.



الشكل (14): الضغط الأسموزي.

الضغط الأسموزي Osmotic Pressure

تسمى عملية انتشار المذيب من الوسط الأقل تركيزاً إلى الوسط الأعلى تركيزاً عبر أغشية شبه منفذة **الأسموزية Osmosis**، تسمح الأغشية شبه المنفذة بمرور جسيمات المذيب وتمنع مرور جسيمات المذاب كبيرة الحجم - كما يوضح الشكل (14) - فيرتفع سطح السائل فوق المحلول المركز، وعندما يصبح الضغط الناتج عن اختلاف ارتفاع مستوى سطح السائل بين المحلولين كافياً لمنع الأسموزية يثبت ارتفاع مستوى سطح السائلين مع استمرار انتقال المذيب بين المحلولين، ولكن بشكل متساوٍ، وتسمى كمية الضغط اللازمة لمنع الإسموزية **الضغط الأسموزي Osmotic Pressure**، حيث يُعدّ من الخصائص الجامعة للمحاليل التي تعتمد على عدد جسيمات المذاب في كمية محددة من المحلول. تؤدي الإسموزية دوراً حيوياً في كثير من العمليات الحيوية في النباتات، مثل عمليات امتصاص الماء والغذاء من التربة.



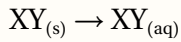
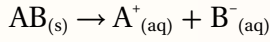
أصمّم باستخدام

برنامج (بوربوينت) عرضاً يوضّح الخصائص الجامعة للمحاليل (مقارنة الضغط البخاريّ لمحلول مخفّف ومحلول متركّز ومذيب نقّي، وكذلك الارتفاع في درجة الغليان، والانخفاض في درجة التجمّد)؛ بإشراف معلّمي/ معلّمتي ثم أشاركه مع زملائي/ زميلاتي في الصفّ.

✓ **أتحقّق:** ما المقصود بالضغط الأسموزي؟

مراجعة الدرس

1. الفكرة الرئيسة: أوضِّح العلاقة بين كل من الضغط البخاري للمحلول ودرجة غليانه مقارنة مع المذيب النقي.
2. أوضِّح المقصودَ بكلِّ من: الانخفاض في درجة التجمُّد، الانخفاض في الضغط البخاري للمحلول.
3. **أستخدم الأرقام.** أحسِّب درجة غليان المحلول الناتج من إذابة 3.33 g من CaCl_2 في 600 g من الماء النقي. علمًا أنَّ الكتلة المولية للمذاب ($M_r = 111 \text{ g/mol}$) وثابت الارتفاع في درجة غليان الماء ($0.512 \text{ }^\circ\text{C}\cdot\text{kg/mol}$).
4. **أستخدم الأرقام.** أحسِّب مقدار الانخفاض في درجة التجمُّد لمحلول حُضِّرَ بإذابة 2 mol من مادة غير متأيِّنة في 250 g من الإيثانول. علمًا أنَّ ثابت الانخفاض في درجة تجمُّد الإيثانول $1.99 \text{ }^\circ\text{C}\cdot\text{kg/mol}$.
5. **أميِّز** بين ثابت الارتفاع في درجة الغليان وثابت الانخفاض في درجة التجمُّد.
6. **أستنتج** مادتان نقيتان أُعطينا الرموز الافتراضية الآتية: $\text{AB}_{(s)}$ و $\text{XY}_{(s)}$ أضيف 1 mol من كل مادة من هاتين المادتين إلى دورق يحتوي 500 mL من الماء، وتبين المعادلتان الآتيتان إذابة كل منهما في الماء، أستعين بهما في الإجابة عن السؤالين الآتيين:



أ. أيُّ المحلولين له درجة غليان أعلى؟ ولماذا؟

ب. أيُّ المحلولين له أعلى ضغط بخاري؟

7. **أستخدم الأرقام:** مشع (روديتير) سيارة يحتوي على 5 kg ماء، أحسب كتلة جلايكول الإيثيلين $\text{C}_2\text{H}_6\text{O}_2$ اللازم إضافتها لضمان عدم تجمد الماء في المشع حتى درجة حرارة ($-5.022 \text{ }^\circ\text{C}$) علمًا أنَّ:

$$K_f = 1.86 \text{ }^\circ\text{C}\cdot\text{kg/mol} , M_r \text{ C}_2\text{H}_6\text{O}_2 = 62 \text{ g/mol}$$

8. **أستخدم الأرقام:** كحول يستخلص من زيت جوز الهند، ويدخل في صناعة منظفات الشعر والصابون، يتجمد محلول يحتوي على 5 g من الكحول في 0.1 kg من البنزين C_6H_6 عند درجة حرارة $4.1 \text{ }^\circ\text{C}$ ، أحسب الكتلة المولية للكحول. علمًا أنَّ $K_f \text{ C}_6\text{H}_6 = 5.07 \text{ }^\circ\text{C}\cdot\text{kg/mol}$ ، ودرجة تجمد البنزين $5.5 \text{ }^\circ\text{C}$.

9. أختار الإجابة الصحيحة لكل فقرة من الفقرات الآتية

1. 1. تعتمد الخصائص الجامعة للمحاليل على:

- أ. الطبيعة الكيميائية للجسيمات.
- ب. حجم الجسيمات.
- ج. عدد الجسيمات.
- د. درجة حرارة المحلول.

2. أذيت عينة كتلتها 5.1 g من كلوريد الكالسيوم CaCl_2 في كأس يحتوي ماءً. أيُّ من العبارات الآتية صحيحة بالنسبة لهذا المحلول؟

- أ . يتجمد المحلول عند درجة حرارة أقل من درجة تجمد الماء النقي .
ب . يكون ضغط البخار للمحلول أعلى من ضغط البخار للماء النقي .
ج . يغلي المحلول عند درجة حرارة أقل من درجة غليان الماء النقي .
د . يتجمد المحلول عند درجة حرارة أكبر من درجة تجمد الماء النقي .

3. قيم ثابت الارتفاع في درجة الغليان وثابت الانخفاض في درجة التجمد للماء هما $0.512 \text{ }^\circ\text{C kg/mol}$ و $1.86 \text{ }^\circ\text{C kg/mol}$ على التوالي. إذا كان مقدار الارتفاع في درجة غليان محلول مادة مذابة هو $0.2 \text{ }^\circ\text{C}$ ؛ فإن مقدار الانخفاض في درجة تجمد المحلول يساوي:

- أ . $0.72 \text{ }^\circ\text{C}$.
ب . $0.75 \text{ }^\circ\text{C}$.
ج . $1.2 \text{ }^\circ\text{C}$.
د . $0.8 \text{ }^\circ\text{C}$.

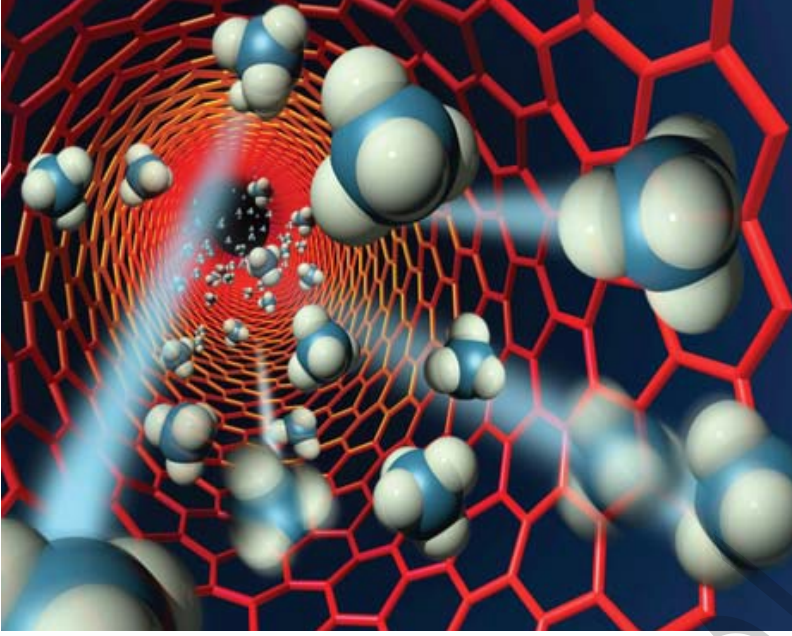
4. درجة تجمد المحلول المائي لكلوريد الألمنيوم AlCl_3 الذي تركيزه 0.1 mol/kg تساوي: (بافتراض التآين التام للملح، $K_f \text{ H}_2\text{O} = 1.86 \text{ }^\circ\text{C kg/mol}$)

- أ . $-0.74 \text{ }^\circ\text{C}$.
ب . $-0.71 \text{ }^\circ\text{C}$.
ج . $-1.2 \text{ }^\circ\text{C}$.
د . $-0.8 \text{ }^\circ\text{C}$.

5. أحد المحاليل الآتية له أعلى درجة غليان:

- أ . محلول كلوريد البوتاسيوم KCl تركيزه 0.02 mol/kg
ب . محلول نترات المغنيسيوم $\text{Mg}(\text{NO}_3)_2$ تركيزه 0.02 mol/kg
ج . محلول السكر $\text{C}_{12}\text{H}_{22}\text{O}_{11}$ تركيزه 0.02 mol/kg
د . محلول كبريتات الصوديوم Na_2SO_4 تركيزه 0.01 mol/kg

أنابيب الكربون النانوية Carbon nano tubes



دفعت ندرة المياه الباحثين إلى تطوير تقنيات فعالة ومستدامة لتحلية المياه. ويزداد الاهتمام بالطرائق القائمة على الأغشية بين الباحثين نظرًا لمزاياها الفائقة والتميزة، مثل جودة المياه العالية وانخفاض التكلفة. قام باحثون بإنشاء غشاء مصنوع من أنابيب الكربون النانوية وهي أنابيب مصنوعة من ذرات الكربون في ترتيب فريد، مجوفة من الداخل وتعمل مليارات من هذه

الأنابيب كمسام في الغشاء، وتسمح هذه الأنابيب فائقة الصغر للسوائل والغازات بالتدفق بسرعة، في حين يمنع حجم المسام الصغير الجزيئات الأكبر حجمًا من النفاذ، وبهذا يمكن استخدام الأنابيب النانوية كمسام في تحلية المياه وإزالة الملح منها؛ إذ كانت تُنفذ عادةً عن طريق الأسموزية المعاكسة حيث يتم فيها التأثير بضغط أكبر من الضغط الأسموزي فينعكس اتجاه حركة جسيمات المذيب (الماء) من المحلول إلى المذيب النقي عبر غشاء شبه منفذ إلا أن هذه الأغشية أقل نفاذية، وتتطلب كميات كبيرة من الضغط، وهي مكلفة للغاية. لذلك فإن الأغشية النانوية الأكثر نفاذية تقلل من تكاليف الطاقة اللازمة لتحلية المياه بنسبة عالية مقارنة بالأغشية التقليدية المستخدمة في الأسموزية المعاكسة. وسيفتح استخدام الأغشية الأنابيب النانوية مجموعة واسعة من التطبيقات في المستقبل.

6. **أستخدم الأرقام.** أحسب الكتلة المولية لمادة غير متآينة وغير متطايرة كتلتها 0.64 g أذيبت في 100 g من البنزين. علمًا أن درجة غليان المحلول الناتج 80.33°C ودرجة غليان البنزين النقي 80.2°C وثابت الارتفاع في درجة غليان البنزين: $2.61^{\circ}\text{C}\cdot\text{kg/mol}$

7. **أستخدم الأرقام.** أحسب قيمة (X) في الصيغة الجزيئية للكبريت S_x من المعلومات في الجدول الآتي:

المعلومات	القيم
كتلة الكبريت S_x المذاب	0.24 g
كتلة المذيب CCl_4	100 g
الكتلة المولية للكبريت S	32.1 g/mol
الانخفاض في درجة تجمد CCl_4	0.28°C
ثابت انخفاض درجة تجمد CCl_4	$29.8^{\circ}\text{C}\cdot\text{kg/mol}$

8. **أستخدم الأرقام.** أحسب درجة الغليان لمحلول تركيزه 0.06 mol/kg من كبريتات البوتاسيوم K_2SO_4 .

9. **أستنتج** المحلول المائي الذي له أعلى درجة غليان من المحاليل الآتية:

0.1 mol/kg NaCl , $0.1 \text{ mol/kg C}_6\text{H}_{12}\text{O}_6$,

$0.1 \text{ mol/kg Na}_2\text{SO}_4$

10. **أفسر:** درجة غليان محلول المادة المتآينة أعلى من درجة غليان محلول المادة غير المتآينة، علمًا أنهما متساويتان في التركيز.

11. **أرتب** المواد ذات الرموز الافتراضية (A, B, C) وفق تزايد الارتفاع في درجة غليان محاليلها، علمًا أن الانخفاض في درجة تجمدها ($^{\circ}\text{C}$) هي:

A: 2.4, B: 1.3, C: 3.55

1. أوضح المقصود بكل من الآتية: الارتفاع في درجة غليان المحلول.

2. أحدد العوامل التي تؤثر في ذائبية كل من: مادة صلبة في سائل، غاز في سائل.

3. محلولان لكلوريد الصوديوم أحدهما مخفف A والآخر مركز B، أجب عن الأسئلة الآتية:

أ. أي منهما يغلي عند درجة حرارة أعلى؟

ب. أي منهما يتجمد عند درجة حرارة أقل؟

ج. إذا وُضع المحلولان في وعاء واحد يفصل بينهما غشاء شبه نافذ يسمح بمرور الماء فقط، أي محلول تتوقع أن يظهر زيادة في تركيز كلوريد الصوديوم؟

4. **أستخدم الأرقام.** محلول كلوريد البوتاسيوم KCl درجة

حرارته 50°C ، يتكون من 50 g KCl في 130 g من الماء، يُرد المحلول إلى 20°C ، بالرجوع إلى الشكل (7)؛ أجب عن الأسئلة الآتية:

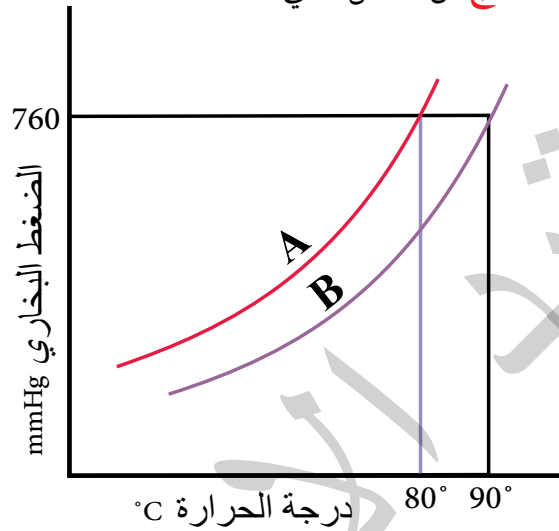
أ. هل المحلول مشبع أم غير مشبع عند درجة حرارة 50°C ؟

ب. أحسب كتلة المادة المترسبة عند تبريد المحلول.

5. الأدرنالين هو الهرمون الذي يحفز الجسم للاستجابة في أوقات التوتر والطوارئ، عند إذابة 0.64 g من الأدرنالين في 36.0 g من CCl_4 ؛ وجد أن مقدار الارتفاع في درجة غليانه تساوي 0.49°C ، أحسب الكتلة المولية للأدرنالين، علمًا أن $K_b \text{ CCl}_4 = 5.02^{\circ}\text{C}\cdot\text{kg/mol}$.

مراجعة الوحدة

12. أستنتج من الشكل الآتي:



أ. الرمز الذي يشير إلى المُذيب النقي.

ب. الرمز الذي يشير إلى المحلول.

ج. درجة الغليان لكل من A و B.

13. أختار الإجابة الصحيحة لكل فقرة من الفقرات الآتية:

1. أحد الآتية يُعدُّ محلولاً حقيقياً:

أ. الحليب. ب. السُّكَّر في الماء.

ج. الطباشير في الماء. د. التراب في الماء.

2. المحلول الأقلُّ درجة تجمُّد عند التركيز نفسه

هو: 0.1 mol/kg،

أ. NaCl. ب. K_2SO_4 .

ج. $CaCl_2$. د. $Al(NO_3)_3$.

3. أحد الآتي يُعدُّ مثلاً على المخلوط المُعلَّق:

أ. الطباشير في الماء.

ب. الدَّم.

ج. محلول كبريتات البوتاسيوم.

د. الماء المُقطَّر.

4. العبارة الصحيحة في ما يتعلَّق بأفطار

الجسيمات المُنتشرة في المخلوط العروبي، هي:

أ. أقلُّ من 1 nm

ب. أكبرُّ من 1000 nm

ج. 1 nm – 1000 nm

د. 0.1 mm – 0.4 mm

5. يصنف محلولُ الزئبق في الفضة أنه:

أ. صلب في سائل. ب. سائل في سائل.

ج. صلب في غاز. د. سائل في صلب.

6. العبارة الصحيحة من العبارات الآتية، هي:

أ. الإيثانول C_2H_5OH السائل والماء يُكوِّنان

طبقتين منفصلتين.

ب. لا يذوب حمض الإيثانويك في الماء.

ج. يمتزج سائل رابع كلوريد الكربون CCl_4 مع

الماء ويُشكِّلان طبقةً واحدة.

د. يُكوِّن سائلاً البنزين والماء طبقتين منفصلتين.

7. سائلان لا يمتزجان معاً إذا كان:

أ. كلاهما جزيئاته تمتلك خصائص قطبية.

ب. كلاهما جزيئاته لا تمتلك خصائص قطبية.

ج. جزيئات أحدهما قطبية والآخر غير قطبية.

د. أحدهما الماء والآخر ميثانول CH_3OH .

8. تكون حالة الجسيمات المنتشرة صلبة وحالة وسط

الانتشار غازاً في:

أ. الضباب. ب. الغبار في الهواء.

ج. حجر الخفاف. د. الحليب.

فإن :

- أ . A : سكر، B : KNO_3 ، C : $BaSO_4$
 ب . C : سكر، A : KNO_3 ، B : $BaSO_4$
 ج . C : سكر، B : KNO_3 ، A : $BaSO_4$
 د . B : سكر، A : KNO_3 ، C : $BaSO_4$

13. باستخدام المعلومات الواردة في الجدول؛ فإن ترتيب الأملاح التي أعطيت الرموز الإفتراضية A, B, C, D وفق ذائبيتها في الماء:

الملاح	كتلة المذاب عند $60^\circ C$
A	35 g/50 g H_2O
B	20 g/60 g H_2O
C	30 g/120 g H_2O
D	40 g/80 g H_2O

- أ . $D > A > C > B$
 ب . $A > B > D > C$
 ج . $A > D > B > C$
 د . $C > D > A > B$

14. محلول X مُتأين ومحلل Y غير مُتأين، لهما التركيز نفسه، إحدى العبارات الآتية صحيحة في ما يتعلق بهما:

- أ . درجة غليان محلول X أعلى من درجة غليان محلول Y.
 ب . درجة غليان محلول X تساوي درجة غليان محلول Y.
 ج . ضغط محلول X البخاري يساوي ضغط محلول Y البخاري.
 د . درجة تجمد محلول X أعلى من درجة تجمد محلول Y.

9. أحد المركبات الآتية يُكوّن محلولًا متجانسًا في الماء:

- أ . $CaCO_3$
 ب . I_2
 ج . C_4H_{10}
 د . CH_3CH_2OH

10. تكون ذائبية غاز ثاني أكسيد الكربون CO_2 في الماء أكبر ما يمكن عند درجة حرارة وضغط:

- أ . $20^\circ C$ ، 0.988 atm
 ب . $20^\circ C$ ، 1.2 atm
 ج . $25^\circ C$ ، 1 atm
 د . $25^\circ C$ ، 1.2 atm

11. محلول مكوّن من 8.585 g من مادة ما مذابة

في 100 g من الماء، يتجمد عند درجة حرارة $-3.75^\circ C$ — أحسب الكتلة المولية للمادة، علمًا أنّ $K_f H_2O = 1.86^\circ C \text{ kg/mol}$

- أ . 52
 ب . 85
 ج . 100
 د . 105

12. ثلاثة مواد صلبة بيضاء اللون، أعطيت الرموز

الافتراضية A, B, C إحدى هذه المواد سكر، والثانية ملح نترات البوتاسيوم KNO_3 ، والثالثة كبريتات الباريوم $BaSO_4$ ، وضعت كميات متساوية منها في ثلاث كؤوس زجاجية، وأضيف إلى كل منها 100 mL من الماء، وسُجّلت الملاحظات الآتية:

- المادة A ذائبة في الماء ومحللها موصل للكهرباء.
- المادة B لم تذب في الماء.
- المادة C ذائبة في الماء ومحللها لم يوصل التيار الكهربائي.

الأتزان الكيميائي

Chemical Equilibrium

الوحدة

3



أتملُ الصورة

تحدثُ الكثير من التفاعلات الكيميائية باتجاهين متعاكسين؛ إذ تتحول المواد المتفاعلة إلى مواد ناتجة في الاتجاه الأمامي؛ أما في الاتجاه العكسي فتتفاعل المواد الناتجة في ما بينها لتكوين المواد المتفاعلة، ويستمرُّ التفاعل بالاتجاهين حتى الوصول إلى حالة الأتزان. فما المقصود بحالة الأتزان؟ وكيف يمكن حساب تراكيز المواد الناتجة أو المواد المتفاعلة عند الأتزان؟

الفكرة العامة:

يستمر حدوث التفاعلات الكيميائية المنعكسة عند وصولها إلى حالة الاتزان بالاتجاهين بالسرعة نفسها، ويمكن التأثير في موضع الاتزان بتغيير ظروف التفاعل؛ وذلك لإنتاج كميات أكبر من مادة معينة أو التقليل منها، وتحسب هذه الكميات باستخدام ثابت الاتزان.

الدرس الأول: الاتزان الكيميائي والعوامل المؤثرة فيه.

الفكرة الرئيسة: يوصف الاتزان في التفاعلات المنعكسة بالديناميكي، ويمكن التأثير فيه بتغيير ظروف التفاعل من تركيز أو ضغط أو درجة حرارة.

الدرس الثاني: تعبيرات ثابت الاتزان والحسابات المتعلقة به.

الفكرة الرئيسة: يُعبّر ثابت الاتزان عن نسب تراكيز المواد المتفاعلة والناجمة في التفاعل عند وصوله إلى حالة الاتزان، ويستفاد منه في حساب كميات المواد المختلفة عند الاتزان وتقدير المردود الاقتصادي للتفاعل.

تجربة استهلاكية

تسامي اليود



5 **ألاحظ:** أنتظر 10 min وألاحظ التغير الذي يطرأ على لون بخار اليود في الدورق، أسجل ملاحظاتي.

التحليل والاستنتاج:

1. ما التغير الذي يحدث على بلورات اليود الصلبة، وأسمي هذه العملية.
2. أحدد لون بخار اليود المتصاعد.
3. ما التغير الذي يحدث على بخار اليود بمرور الوقت، وأسمي هذه العملية.
4. **أفسر** ثبات لون بخار اليود في الكأس الزجاجية.
5. **أستنتج** العلاقة بين ما يحدث لبلورات اليود، وما يحدث لبخاره عند ثبات اللون في الكأس الزجاجية.

المواد والأدوات: بلورات من اليود الصلب، كأس زجاجية سعة 200 mL، حوض زجاجي، زجاجة ساعة، ملعقة، ميزان حساس، ماء ساخن، قطع من الجليد.

إرشادات السلامة:

أطبق إرشادات السلامة العامة في المختبر. ارتدي معطف المختبر والنظارات الواقية والقفازات. أجري التجربة في خزانة الأبخرة، وأتجنب استنشاق أبخرة اليود.

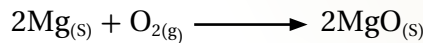
خطوات العمل:

- 1 **أقيس** 10 g من اليود الصلب باستخدام الميزان الحساس وأضعها في الكأس الزجاجية.
- 2 أملأ الحوض الزجاجي بمقدار ثلثه ماءً ساخنًا (حمام مائي ساخن).
- 3 أضع قطعًا من الجليد في زجاجة الساعة وأضعها على فوهة الكأس الزجاجية.
- 4 **ألاحظ:** أضع الكأس المحتوية على اليود في الحمام المائي الساخن، وألاحظ التغير الذي يطرأ على بلورات اليود بمرور الوقت، أسجل ملاحظاتي.

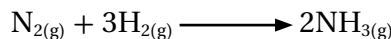
مفهوم الاتزان الكيميائي

Chemical Equilibrium Concept

تنتهي كثيرٌ من التفاعلات باستهلاك إحدى المواد المتفاعلة أو جميعها كلياً، فمثلاً؛ يحترق شريطٌ من المغنيسيوم Mg بوجود الأكسجين O₂ وينتج أكسيد المغنيسيوم MgO وكميةٌ من الحرارة، وينتهي التفاعل باحتراق شريط المغنيسيوم كلياً، ولا يمكن إعادة تكوين أيٍّ من المواد المتفاعلة مرةً أخرى في أثناء التفاعل؛ ما يعني أن التفاعل يسير باتجاهٍ واحدٍ نحو تكوين المواد الناتجة ويُطلقُ على هذا النوع من التفاعلات اسم **التفاعلات غير المنعكسة Irreversible Reactions**. ويُعبّر عن التفاعل بمعادلة كيميائية على النحو الآتي:



وكثير من التفاعلات الكيميائية عندما تحدث في أوعية مغلقة لا تسمحُ بفقدان أي كمية من المواد المتفاعلة أو الناتجة من وعاء التفاعل، ممّا يتيح حدوث تفاعل بين المواد الناتجة، ويجعلُ التفاعل يحدث باتجاهين متعاكسين، ويطلق على هذا النوع من التفاعلات اسم **التفاعلات المنعكسة Reversible Reactions**؛ فعند بداية التفاعل تتفاعل المواد المتفاعلة في ما بينها وتتكوّن المواد الناتجة، ويُطلقُ على هذا التفاعل اسم **التفاعل الأمامي Forward Reaction**، وبمجرد أن تتكوّن المواد الناتجة فإنّها تبدأ بالتفاعل معاً وتعيد تكوين المواد المتفاعلة مرةً أخرى، ويسمى **التفاعل العكسي Reverse Reaction**، فمثلاً؛ يُحضّر غاز الأمونيا NH₃ بطريقة هابر، بتفاعل غاز النيتروجين N₂ مع غاز الهيدروجين H₂ في وعاءٍ مغلقٍ عند ظروفٍ مناسبة من الضغط ودرجة الحرارة، ويؤدّي ذلك إلى تكوين غاز الأمونيا NH₃، في ما يُعرّف بالتفاعل الأمامي، كما يظهرُ في المعادلة الآتية:



الفكرة الرئيسة:

يوصفُ الاتزان الكيميائي في التفاعلات المنعكسة بالديناميكي، ويُمكن التأثير فيه بتغيير ظروف التفاعل من تركيز أو ضغط أو درجة حرارة.

نتائج التعلم:

- أتوصّل إلى مفهوم الاتزان الكيميائي.
- أوضح أثر العوامل المختلفة المؤثرة في حالة الاتزان.

المفاهيم والمصطلحات:

التفاعلات غير المنعكسة

Irreversible Reactions

التفاعلات المنعكسة

Reversible Reactions

التفاعل الأمامي Forward Reaction

التفاعل العكسي Reverse Reaction

سرعة التفاعل الأمامي

Forward reaction Rate

سرعة التفاعل العكسي

Reverse Reaction Rate


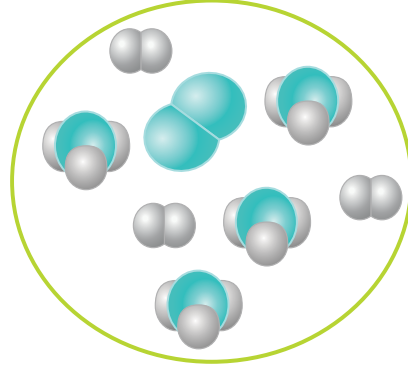
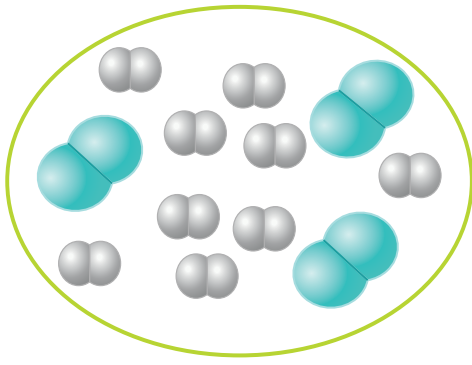
الاتزان الكيميائي

Chemical Equilibrium

موضع الاتزان Equilibrium Position

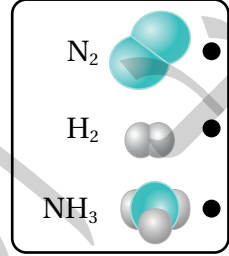
مبدأ لوتشاتيليه Le Chateliers Principle

العامل المساعد Catalyst




بداية التفاعل (أ)

عند الاتزان (ب)

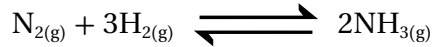


الشكل (1): تكوين الأمونيا

وعندما يتكوّن غازُ الأمونيا NH_3 في وعاء التفاعل؛ فإنه يبدأ بالتفكك ويتكوّن كلٌّ من غاز النيتروجين N_2 وغاز الهيدروجين H_2 في ما يعرفُ بالتفاعل العكسي، كما يظهرُ في المعادلة الآتية:



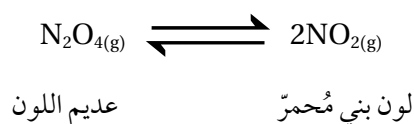
وبهذا نجد أن وعاء التفاعل يحتوي على كميات مختلفة من المواد المتفاعلة والنتيجة في الوقت نفسه عند الاتزان. أنظر الشكل (1) أ بداية التفاعل، 1/ب عند الاتزان)، ويشار إلى التفاعل الأمامي في المعادلة بسهمٍ باتجاه اليمين، والعكسيّ ويشار إليه في المعادلة بسهمٍ باتجاه اليسار، ويُعبّر عنها بمعادلة كيميائية؛ حيث يُكتب فيها سهمان باتجاهين متعاكسين (\rightleftharpoons) كما في تفاعل تحضير الأمونيا:



تشير التجارب الكيميائية إلى أن تراكيز المواد المتفاعلة تكون في البداية أكبر ما يُمكن؛ وتكون سرعة تفاعلها وتحولها إلى مواد ناتجة أعلى ما يمكن، وتسمى **سرعة التفاعل الأمامي** **Forward Reaction Rate**، وبمرور الوقت تتناقص تراكيز المواد المتفاعلة، وتتناقص سرعة التفاعل الأمامي، أما المواد الناتجة فتكون تراكيزها عند بداية التفاعل صفراً،

وبمجرد تكونها تبدأ بالتفاعل والتحوّل إلى مواد متفاعلة، وبهذا يبدأ حدوث التفاعل العكسيّ، وبمرور الوقت تزداد تراكيز المواد الناتجة، وتزداد سرعة تفاعلها وتحويلها إلى مواد متفاعلة، وتُسمّى **سرعة التفاعل العكسي** **Reverse Reaction Rate**، وحين تصبح سرعة التفاعل الأمامي مُساويةً لسرعة التفاعل العكسيّ يوصفُ التفاعل بأنه في حالة **اتزان كيميائي** **Chemical Equilibrium**. ويعدّ اتزان ديناميكيّ أي أنه يستمر حدوث التفاعل بالاتجاهين بالسرعة نفسها، وتثبت تراكيز المواد المتفاعلة والناتجة والخصائص المرتبطة بها، مثل الضغط، واللون، والحجم، ودرجة الحرارة.


ولتعرّف مفهوم الاتزان الكيميائيّ؛ يُمكن دراسة تفكُّك غاز رباعيّ أكسيد ثنائي النيتروجين N_2O_4 عديم اللون إلى غاز ثاني أكسيد النيتروجين NO_2 ذي اللون البنيّ المُحمّر الذي يحدث كما في المعادلة الآتية:



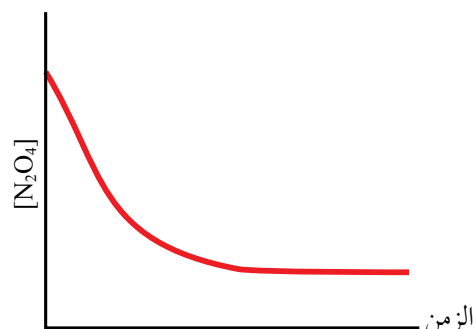
يبدأ التفاعل الأماميّ بتحوّل غاز رباعيّ أكسيد ثنائي النيتروجين N_2O_4 إلى غاز ثاني أكسيد النيتروجين NO_2 بسرعة عالية نسبياً، ويُعبّر عن التفاعل بالمعادلة الآتية:



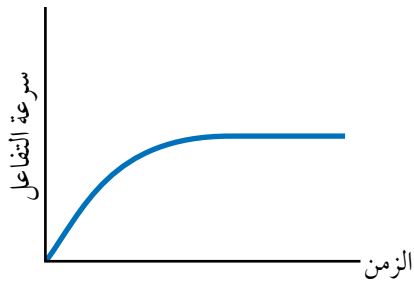
وبمرور الوقت، يتناقص تركيز غاز N_2O_4 وبذلك تتناقص سرعة التفاعل الأماميّ، أنظر الشكل (2/أ، ب).



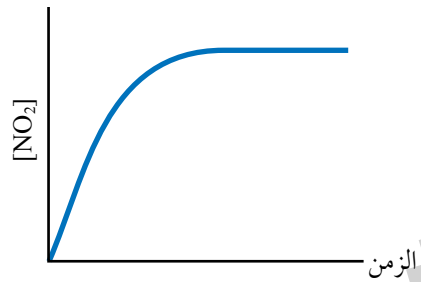
الشكل (2/ب): تغير سرعة التفاعل الأمامي مع الزمن.



الشكل (2/أ): تغير تركيز N_2O_4 مع الزمن.




الشكل (3/ب): تغير سرعة التفاعل العكسي مع الزمن.



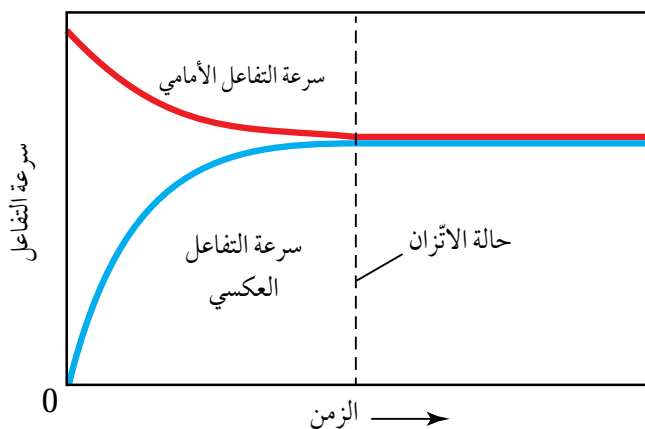
الشكل (3/أ): تغير تركيز NO₂ مع الزمن.

أما غاز NO₂؛ فيكون تركيزه عند بداية التفاعل صفراً، وتكون سرعة التفاعل العكسي صفراً أيضاً، وبسبب تفكك غاز N₂O₄ يبدأ تكون غاز NO₂ وظهور اللون البني في وعاء التفاعل، ويبدأ حدوث التفاعل العكسي وتحول غاز NO₂ إلى الغاز N₂O₄ بسرعة بطيئة نسبياً، ويُعبّر عن التفاعل كما في المعادلة الآتية:

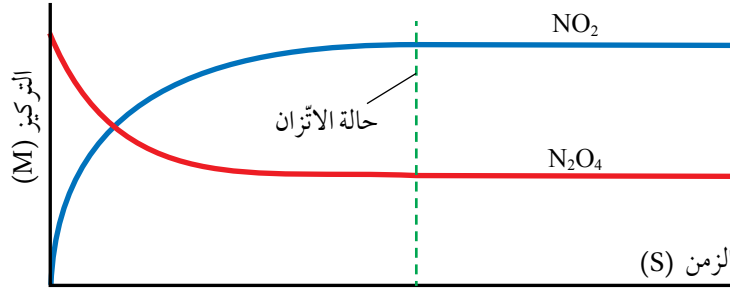


وبزيادة تركيز NO₂ في وعاء التفاعل، تزايد سرعة التفاعل العكسي تدريجياً، وبعد مدة من الزمن تثبت سرعة التفاعل وتثبت تراكيز المواد الناتجة، ويُبين الشكل (3/أ، ب) تزايد تركيز NO₂ وتزايد سرعة التفاعل العكسي بمرور الزمن.

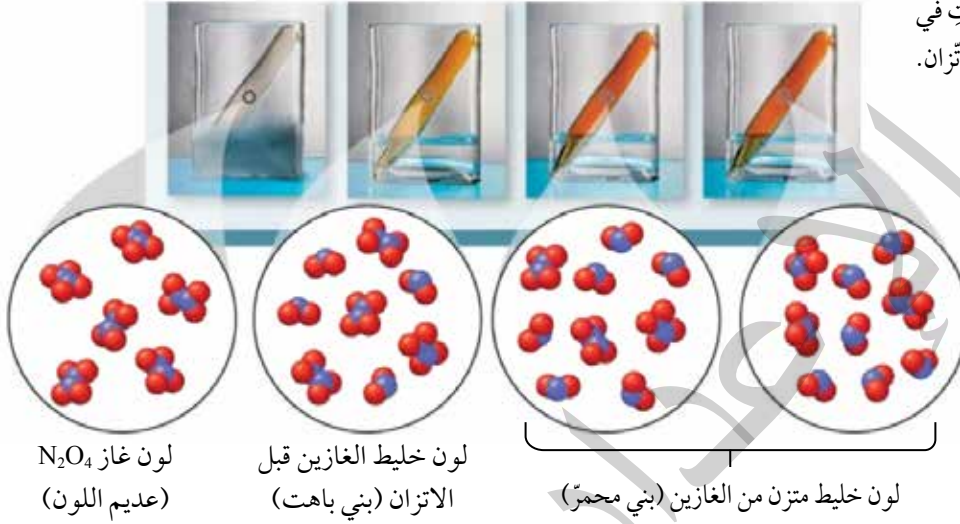
يتضح مما سبق؛ أن تراكيز المواد المتفاعلة وسرعة التفاعل الأمامي يتناقصان بمرور الزمن، وفي الوقت نفسه تزايد تراكيز المواد الناتجة وتزايد سرعة التفاعل العكسي، إلى أن يصل التفاعل إلى حالة الاتزان، حيث تصبح سرعة التفاعل الأمامي مساوية لسرعة التفاعل العكسي، أنظر الشكل (4).



الشكل (4): التغير في سرعة التفاعل




الشكل (5): تغير لون
مكونات التفاعل.
أُقارنُ بين تراكيز الغازات في
وعاء التفاعل عند حالة الاتزان.

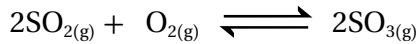


وعند الاتزان تثبت تراكيز المواد المتفاعلة والنتيجة ويحتوي وعاء
التفاعل على خليط من الغازين بنسب ثابتة، ويصبح لون الخليط بُنيًا
محمراً، أنظر الشكل (5).

ويمكنُ التعبيرُ عن التفاعلِ المتزنِ السابقِ كما في المعادلة الآتية:



✓ **أتحقق:** يتفاعل غاز ثاني أكسيد الكبريت SO_2 مع الأوكسجين O_2 في وعاءٍ مغلقٍ
لتكوين غاز ثالث أكسيد الكبريت SO_3 وفق المعادلة الآتية:



■ أصفُ التغيُّرات التي تحدث لكلِّ مما يأتي قبل وصول التفاعلِ إلى
حالة الاتزان وعند الاتزان:

أ. تراكيزُ الغازاتِ SO_2 , O_2 , SO_3 في وعاء التفاعلِ.

ب. سرعتا التفاعلين الأماميِّ والعكسيِّ.

العوامل المؤثرة في الاتزان Factors Affecting Equilibrium

توصلنا في ما سبق إلى أن التفاعلات المنعكسة تصل إلى حالة الاتزان، ويحتوي عندها وعاء التفاعل على تراكيز ثابتة من المواد المتفاعلة والناجثة. يمكن للتفاعل أن يكون المواد الناجثة بنسبة أكبر من المواد المتفاعلة، ويكون الاتزان مُزاحًا جهة المواد الناجثة، أو يكون المواد المتفاعلة بنسبة أكبر من المواد الناجثة، ويكون الاتزان مُزاحًا نحو المواد المتفاعلة، وهو ما يُسمى **موضع الاتزان Equilibrium Position**. يُمكن التحكم بموضع الاتزان بإزاحته نحو اليمين لزيادة كمية المواد الناجثة، أو إزاحته نحو اليسار لتقليل كمية المواد الناجثة وزيادة كمية المواد المتفاعلة، وذلك عن طريق التحكم بمجموعة من العوامل. فما هذه العوامل؟ وكيف تُؤثر في موضع الاتزان؟

مبدأ لوتشاتلييه Le Chatelier's Principle

درس العالم الفرنسي هنري لوتشاتلييه التغيرات التي يمكن أن تُؤثر في حالة الاتزان للتفاعل، وتوصل إلى أنه يمكن التحكم بموضع الاتزان للتفاعل عبر التحكم بظروف التفاعل من: تركيز، أو ضغط، أو درجة حرارة، وقد عُرف ذلك **بمبدأ لوتشاتلييه Le Chatelier's Principle** الذي ينص أنه "إذا حدث تغيير في أحد العوامل المؤثرة في الاتزان لتفاعل كيميائي مُتزن؛ فإن التفاعل يعمل على تعديل موضع الاتزان للتقليل من أثر ذلك التغيير".

اعتمادا على مبدأ لوتشاتلييه فإنه يمكن زيادة كميات المواد الناجثة من التفاعل بالتحكم في العوامل المؤثرة في الاتزان، فكيف يتم التحكم بالعوامل المؤثرة في الاتزان؟ وما أثر تغيير موضع الاتزان في كميات المواد الناجثة والمتفاعلة؟

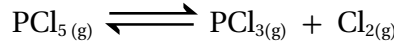
التركيز Concentration

يتأثر موضع الاتزان بتغيير كميات المواد أو تراكيزها في وعاء التفاعل عند درجة الحرارة نفسها؛ إذ يؤدي تغيير تركيز مادة مُتفاعلة أو ناتجة إلى اضطراب في حالة الاتزان، ما يدفع التفاعل إلى تعديل وضعه للوصول إلى حالة الاتزان من جديد، ويحصل ذلك بتغيير موضع الاتزان بإزاحته جهة اليمين (نحو تكوين المواد الناجثة)، أو جهة اليسار (نحو تكوين

✓ **أنحَقِّق:** أحدد العوامل التي درس لوتشاتلييه تأثيرها على موضع الاتزان.

المواد المتفاعلة)؛ للتقليل من أثر ذلك التغيير، ثم يعود التفاعل إلى حالة الاتزان من جديد.

فمثلاً؛ يتفكك خماسي كلوريد الفسفور PCl_5 ، في وعاء مغلق، وينتج غاز ثلاثي كلوريد الفسفور PCl_3 وغاز الكلور Cl_2 ، ويصل التفاعل إلى حالة الاتزان كما في المعادلة الآتية:



وعند إضافة كمية من غاز PCl_5 ؛ فإن تركيزه يزداد في وعاء التفاعل ويختل الاتزان، ووفقاً لمبدأ لوتشاتلييه يعمل التفاعل على تعديل موضع الاتزان وإزاحته جهة اليمين التي تقلل من أثر هذه الزيادة، ومن ثم سوف تزداد سرعة التفاعل الأمامي. وبهذا تُستهلك كمية من الغاز المضاف، وتتكون كميات جديدة من PCl_3 و Cl_2 وتزداد تراكيزها، وبمرور الوقت، ونتيجةً لذلك تبدأ سرعة التفاعل العكسي بالتزايد، وسرعة التفاعل الأمامي بالتناقص إلى أن تتساوى السرعتان فيعود التفاعل إلى حالة الاتزان من جديد، وتحدث التغييرات ذاتها إن جرت إزالة كمية من Cl_2 أو PCl_3 من وعاء التفاعل.

أما عند إضافة كمية من غاز Cl_2 إلى وعاء التفاعل فيزداد تركيزه، ووفقاً لمبدأ لوتشاتلييه سوف تزداد سرعة التفاعل العكسي للتقليل من أثر هذه الزيادة، ويُزاح موضع الاتزان جهة اليسار.

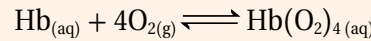
ونتيجةً لذلك؛ تنتج كمية جديدة من غاز PCl_5 ويزداد تركيزه، وبمرور الوقت؛ تبدأ سرعة التفاعل العكسي بالتناقص وسرعة التفاعل الأمامي بالتزايد، إلى أن تصبح السرعتان متساويتين، فيعود التفاعل إلى حالة الاتزان من جديد. ويكون تركيز كل من PCl_5 و PCl_3 و Cl_2 مختلفاً عنه قبل الإضافة ولكن النسبة بينهما تبقى ثابتة.

الربط بالصحة



اتزان (هيموجلوبين - أكسجين) في الجسم

يرتبط الأكسجين الذي يدخل إلى الجسم في أثناء عملية التنفس بجزيئات الهيموجلوبين Hb في الدم، وينتج الهيموجلوبين المؤكسج $Hb(O_2)_4$ ، حيث يُشكل الهيموجلوبين والأكسجين نظاماً مُتزنًا كما في المعادلة:



يصل الهيموجلوبين المؤكسج إلى أنسجة الجسم، حيث يكون تركيز الأكسجين منخفضاً، فيُزاح الاتزان نحو اليسار ويتحرر الأكسجين المرتبط بالهيموجلوبين، وتحدث العمليات الحيوية اللازمة لإنتاج الطاقة في الجسم والمحافظة على حيويته ونشاطه.

في التفاعل المتزن الآتي:




ما أثر إضافة قطرات من محلول AgNO_3 إلى وعاء التفاعل على تركيز كل من NH_3 و $\text{Ag}(\text{NH}_3)_2^+$ ؟

الحل:

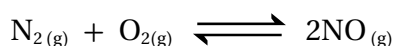
إضافة قطرات من محلول AgNO_3 إلى وعاء التفاعل يزيد تركيز أيونات Ag^+ ؛ فيختل الاتزان ووفقاً لمبدأ لوتشاتلييه؛ فإن التفاعل يعمل على تعديل موضع الاتزان بزيادة سرعة التفاعل الذي يقلل من أثر هذا التغيير في التركيز، فتزداد سرعة التفاعل الأمامي؛ أي تزداد سرعة تفاعل أيونات Ag^+ مع الأمونيا NH_3 وتكوين $\text{Ag}(\text{NH}_3)_2^+$ ، فيقل تركيز NH_3 ويزداد تركيز $\text{Ag}(\text{NH}_3)_2^+$. ثم تتناقص سرعة التفاعل الأمامي تدريجياً، وتزيد سرعة التفاعل العكسي حتى تصبح السرعتان متساويتين مرة أخرى، ويعود التفاعل إلى حالة الاتزان، ويكون تركيز أيونات Ag^+ والأمونيا NH_3 و $\text{Ag}(\text{NH}_3)_2^+$ مختلفاً عن تركيزها قبل الإضافة.

✓ أتحمق:

1. أوضح التغييرات التي تحدث لتراكيز المواد في وعاء التفاعل الآتي، عند إضافة كمية من غاز HCl .



2. يحترق غاز النيتروجين N_2 ، بوجود الأكسجين O_2 ، في وعاء مغلق؛ وينتج غاز أول أكسيد النيتروجين NO ، ويصل التفاعل إلى حالة الاتزان وفق المعادلة الآتية:



أوضح التغييرات التي تحدث لتركيز كل من NO و N_2 عند سحب كمية معينة من غاز الأكسجين من وعاء التفاعل.

التجربة 1

أثر التركيز في موضع الاتزان

المواد والأدوات:

محلول ثيوسينات الأمونيوم NH_4SCN ، محلول كلوريد الحديد FeCl_3 (III)، محلول كلوريد الأمونيوم NH_4Cl ، أنابيب اختبار عدد (3)، ماصة عدد (3)، حامل أنابيب.



إرشادات السلامة:

- أتبع إرشادات السلامة العامة في المختبر.
- ارتدي معطف المختبر والنظارات الواقية والقفازات.

خطوات العمل:

1. أقيس 3 mL من محلول ثيوسينات الأمونيوم وأضعها في أنبوب اختبار.
2. **الاحظ:** أضيف ثلاث قطرات من محلول كلوريد الحديد إلى الأنبوب السابق، ثم أرجع المحلول وألاحظ لون المحلول الناتج، وأسجل ملاحظاتي.
3. **أجرب:** أنقل نصف كمية المحلول السابق إلى أنبوب اختبار آخر وأضع الأنبوبين على حامل الأنابيب.
4. **الاحظ:** أضيف باستخدام الماصة بضع قطرات من محلول كلوريد الأمونيوم إلى أحد الأنبوبين وأرجع المحلول، وألاحظ التغير الذي يطرأ على لون المحلول الناتج، وأسجل ملاحظاتي.
5. **الاحظ:** أضيف باستخدام الماصة قطرتين من محلول كلوريد الحديد إلى الأنبوب الآخر وأرجع المحلول، وألاحظ التغير الذي يطرأ على لون المحلول الناتج، وأسجل ملاحظاتي.

التحليل والاستنتاج:


1. أحدد لون المحلول الناتج من إضافة محلول كلوريد الحديد إلى محلول ثيوسينات الأمونيوم.
2. أحدد المادة التي أدت إلى تغيير لون المحلول عند إضافة قطرات من محلول كلوريد الأمونيوم إلى الأنبوب الأول، وقطرات من محلول كلوريد الحديد إلى الأنبوب الثاني.
3. **أفسر** أثر تغيير تراكيز المواد في موضع الاتزان وفق مبدأ لوتشاتيليه.
4. **استنتج** العلاقة بين تغيير لون المحلول وتراكيز المواد في وعاء التفاعل.



الضغط Pressure

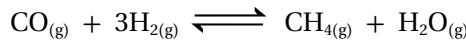
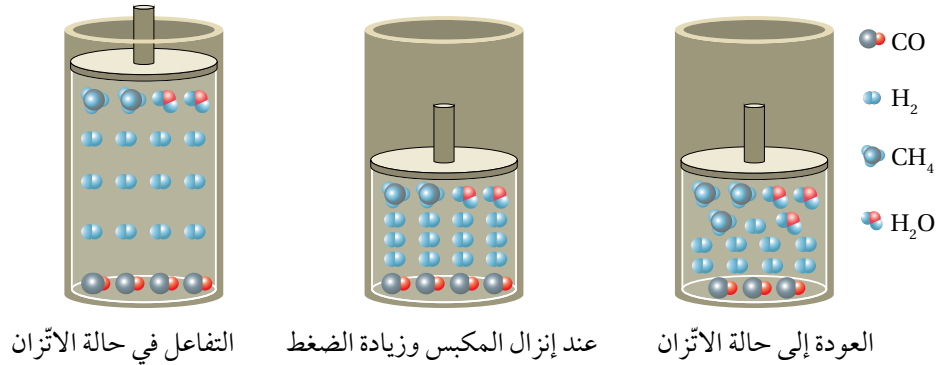
يتأثر ضغط الغاز المحصور في وعاءٍ مُغلقٍ بحجم ذلك الوعاء وعدد مولات الغاز فيه، حيثُ يتناسب ضغطُ الغاز عكسيًا مع حجم الوعاء عند ثبات درجة الحرارة، وطرديًا مع عدد مولات الغاز؛ فيزداد ضغط الغاز بزيادة عدد المولات عند ثبات درجة الحرارة. في حين لا تتأثر تراكيز المواد الصلبة والمواد السائلة بتغيرات الضغط في وعاء التفاعل.

تُجرى التفاعلات التي تشتمل على الغازات في أوعية مغلقة لضمان عدم فقدانها أي كمية من الغازات المُتفاعلة أو الناتجة كي يصل التفاعل إلى حالة الاتزان. ويمكن تغيير ضغط الغاز في وعاء التفاعل بالتحكم في حجم الوعاء، فمثلاً؛ يُحضَّر غاز الميثان CH_4 صناعياً بتفاعل غاز أول أكسيد الكربون CO مع غاز الهيدروجين H_2 كما في التفاعل المُتزن الآتي:



يمكن التحكم في موضع الاتزان عن طريق تغيير ضغط الغازات في وعاء التفاعل؛ إذ يُلاحظُ من معادلة التفاعل أن هناك أربعة مولاتٍ من الغازات المُتفاعلة $(CO_{(g)} + 3H_{2(g)})$ ، ومولينٍ من المواد الناتجة $(CH_{4(g)} + H_2O_{(g)})$ ، وعند إنزال المكبسِ للأسفل كما في الشكل (6) يقلُّ حجم الوعاء ويزداد الضغط في وعاء التفاعل، وللتقليل من أثر زيادة الضغط؛ يعمل التفاعل على إزاحة موضع الاتزان إلى الجهة التي تحتوي على عدد مولاتٍ أقل من المواد الغازية؛ أي جهة المواد الناتجة، فتزداد سرعة التفاعل الأمامي. ويقلُّ بذلك عدد المولات في وعاء التفاعل ويقلُّ الضغط. ومع زيادة تركيز غاز الميثان تزداد سرعة التفاعل العكسي في حين تتناقص سرعة التفاعل الأمامي إلى أن تتساوى السرعتان، ويعود التفاعل إلى حالة الاتزان من جديد، أنظر الشكل (6).

الشكل (6): شكل توضيحي
لأثر تغير الضغط في موضع
الاتزان.



أوضح أثر زيادة حجم وعاء التفاعل في موضع الاتزان في التفاعل المتزن الآتي:

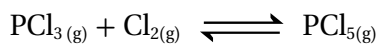


الحل:

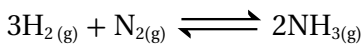
زيادة حجم وعاء التفاعل تؤدي إلى نقصان ضغط الغاز. ووفق مبدأ لوتشاتلييه؛ فإن التفاعل يعمل على تعديل موضع الاتزان بالانزياح إلى الجهة التي تقلل من أثر هذا النقص، وبمقارنة عدد مولات الغازات في المواد المتفاعلة والنتيجة؛ أجد أن المواد الناتجة تحتوي العدد الأكبر من المولات من المواد الغازية وهي (3 مول)، وبالتالي يزاح موضع الاتزان باتجاه تكوين النواتج؛ بزيادة سرعة التفاعل الأمامي، ويزداد عدد مولات الغاز في وعاء التفاعل؛ فيزداد الضغط.

✓ أتحمق:

1. أحددُ الجهة التي يُزاح موضع الاتزان نحوها في التفاعل الآتي؛ عند زيادة الضغط الكلي لخليط الغازات:

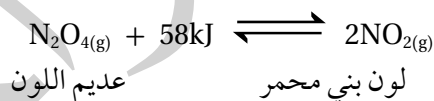


2. أوضح أثر زيادة حجم الوعاء في موضع الاتزان في التفاعل الآتي:



درجة الحرارة Temperature

يختلف تأثير درجة الحرارة في الاتزان الكيميائي تبعاً لنوع التفاعل؛ إذا كان ماصاً للحرارة (ΔH موجبة) أم طارداً لها (ΔH سالبة)، ولمعرفة ذلك؛ يمكن دراسة أثر تغيير درجة الحرارة لتفاعل متزن ماص للحرارة مثل تفاعل تحلل رباعي أكسيد ثنائي النيتروجين N_2O_4 ، كما في المعادلة الآتية:


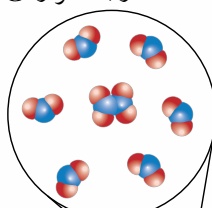
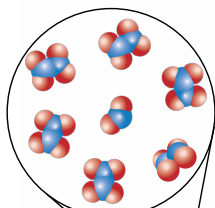
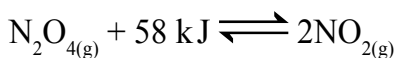


يكون التفاعل في حالة اتزان عند درجة حرارة الغرفة، ويكون لون خليط الغازات في وعاء التفاعل بنياً محمراً، وعند تسخين خليط الغازات تزداد درجة حرارته، مما يدفع التفاعل إلى تعديل موضع الاتزان، ويتجه نحو الجهة التي تستهلك الحرارة الزائدة وفق مبدأ لوتشاتلييه؛ أي جهة إنتاج NO_2 ويزداد تركيزه في وعاء التفاعل ويقل تركيز N_2O_4 ؛ لذا يُلاحظ حدوث زيادة في شدة اللون البني المحمر، أنظر الشكل (7/أ). وتستقر شدته بعد مدة من الزمن، ويصل التفاعل إلى حالة اتزان جديدة ولا يعود إلى لونه السابق مرة أخرى، ما يعني أن حالة الاتزان الجديدة وموضعها يختلفان عما كانا عليه قبل التسخين.

(ب) عند درجة حرارة 0°C

(أ) عند درجة حرارة 100°C

الشكل (7): أثر تغيير درجة الحرارة في حالة الاتزان.



أما عند خفض درجة حرارة الخليط؛ فإنّ التفاعل يتّجه نحو الجهة التي تزيد من إنتاج الحرارة، ويندفع التفاعل بالاتجاه العكسي، أي جهة تكوين N_2O_4 ، فيزداد تركيزه ويقل تركيز NO_2 ، وبذلك يصبح لون المحلول مائلاً إلى اللون الأصفر، أنظر الشكل (7/ب)، ما يعني أن التفاعل وصل إلى حالة اتزان جديدة؛ أي أن الاتزان وموضعه أزيحاً نحو المواد المتفاعلة. يتضح مما سبق أن تغيير درجة حرارة التفاعل المتزن يؤدي إلى حالة اتزان جديدة، لا يعود فيها التفاعل إلى حالة الاتزان التي كان عليها.



أستخدم برنامج
صانع الأفلام (Movie Maker)،
وأصمّم فيلماً أشرح فيه مبدأ
لوتشاتلييه، وأناقشه مع زملائي/
زميلاتي في الصف.

المثال 3

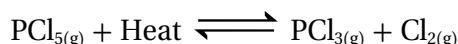
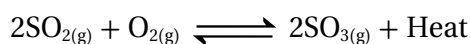
يُحضّر الميثانول صناعياً كما في المعادلة الآتية، حيث يصل التفاعل إلى حالة الاتزان:

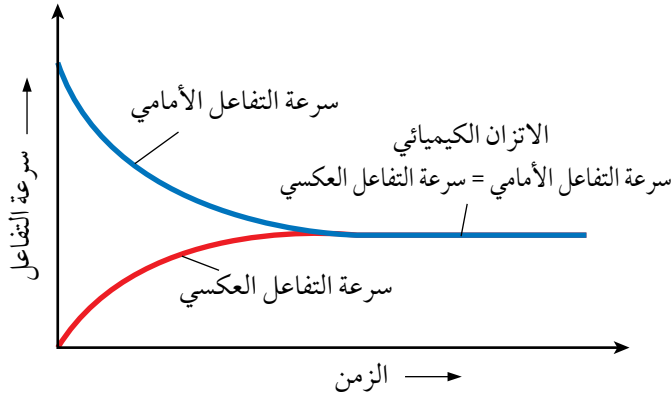


ما أثر زيادة درجة حرارة التفاعل على كمية الميثانول الناتج؟
الحل:

أنظر إلى نوع التفاعل من حيث الطاقة؛ فأجد أنه طارد للطاقة، وفق مبدأ لوتشاتلييه، فإنه عند زيادة درجة الحرارة لتفاعل متزن؛ فإنّ موضع الاتزان يُزاح إلى الجهة التي تمتص هذه الزيادة، وهي في هذا التفاعل جهة التفاعل العكسي، لذلك فإن زيادة درجة الحرارة تزيد سرعة التفاعل العكسي وتقل بذلك كمية الميثانول الناتج.

✓ **أنحَقِّق:** أحدد الجهة التي يُزاح نحوها الاتزان في التفاعل الآتي عند زيادة درجة الحرارة:





الشكل (8): تغير سرعة التفاعل مقابل الزمن.

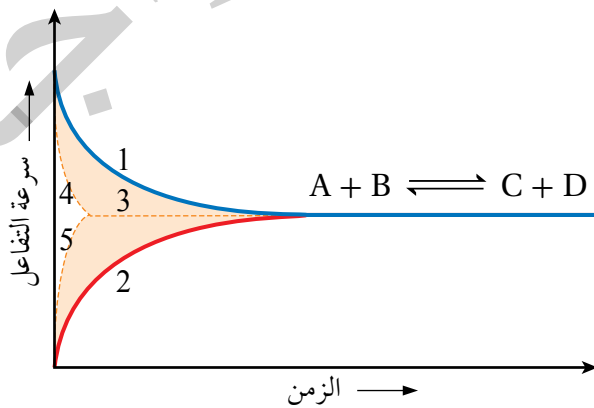
العامل المساعد (الحفاز) Catalyst

تصل التفاعلات المنعكسة إلى حالة اتزان كيميائي، ويعني ذلك أن سرعة التفاعل الأمامي تساوي سرعة التفاعل العكسي، وتثبت تراكيز كل من المواد المتفاعلة والنواتجة، ويستمر التفاعل بالحدوث في الاتجاهين الأمامي والعكسي. أنظر الشكل (8)، حيث يوضح تغير سرعة التفاعل مقابل الزمن.

يؤثر العامل المساعد في سرعة كل من التفاعلين الأمامي والعكسي، ويعرف **العامل المساعد (الحفاز) Catalyst**؛ بأنه مادة تزيد من سرعة التفاعل الكيميائي دون أن تُستهلك أثناء التفاعل. وقد بينت التجارب أن العامل المساعد يمهد مساراً بديلاً للتفاعل، مما يجعل حدوث التفاعل أسرع؛ أي في زمن أقل. وعند إضافة عامل مساعد إلى وعاء التفاعل؛ فإن موضع الاتزان لا يتأثر؛ إنما تزداد سرعة وصول التفاعل إلى حالة الاتزان، ويقل الزمن اللازم لذلك. أنظر الشكل (9) الذي يوضح أثر العامل المساعد في حالة الاتزان.

✓ **أنحَقِّق:** ما أثر العامل المساعد في كل من، سرعة التفاعل الأمامي، سرعة التفاعل العكسي.

الشكل (9): العامل المساعد وموضع الاتزان.



1. سرعة التفاعل الأمامي بدون عامل مساعد.
2. سرعة التفاعل العكسي بدون عامل مساعد.
3. حالة الاتزان الكيميائي.
4. سرعة التفاعل الأمامي بوجود عامل مساعد.
5. سرعة التفاعل العكسي بوجود عامل مساعد.

التجربة 2

أثر درجة الحرارة في الاتزان

المواد والأدوات:

برادة النحاس، محلول حمض النيتريك HNO_3 تركيزه 1 M، دورق مخروطي سعته 50 mL عدد (3)، سدادة مطاطية عدد (3)، حوض زجاجي عدد (2)، ماء ساخن، قطع من الجليد.



إرشادات السلامة:

- أتبع إرشادات السلامة العامة في المختبر.
- ارتدي معطف المختبر والنظارات الواقية والقفازات.
- أحذر عند التعامل مع حمض النيتريك.
- أجري التجربة في خزانة الأبخرة وأحذر من استنشاق غاز ثاني أكسيد النيتروجين.

خطوات العمل:

1. **أقيس:** 5 mL من محلول حمض النيتريك وأضعها في كل دورق مخروطي.
2. **ألاحظ:** أحضر الدوارق المخروطية الثلاثة وأرقمها، ثم أضع في كل منها 1 g من برادة النحاس وأغلقها بإحكام، وألاحظ لون الغاز المتكون في كل منها.
3. أحضر الحوضين الزجاجيين، وأضع في أحدهما إلى منتصفه ماءً ساخنًا، وفي الآخر ماءً وجليدًا.
4. **أجرب:** أترك الدورق رقم (1) جانبًا، ثم أضع الدورق (2) في الحوض المحتوي على الماء الساخن، والدورق (3) في حوض الماء البارد، ثم أنتظر لمدة 2 min.
5. **أقارن:** أقارن لون الغاز في الدورقين (2, 3) بلون الغاز في الدورق (1). أسجل لون الغاز في كل دورق.

التحليل والاستنتاج:

1. **أستنتج** أثر زيادة درجة الحرارة في تراكيز كل من الغازين في الدورق.
2. **أفسر** تغير لون الغاز في الدورق الموضوع في الماء الساخن، والآخر في الماء البارد عن الدورق رقم (1).
3. **أفسر** أثر درجة الحرارة في كل من التفاعلين الأمامي والعكسي.
4. **أستنتج** أثر درجة الحرارة في الاتزان للتفاعل الماص للحرارة والتفاعل الطارد لها.

مراجعةُ الدرس

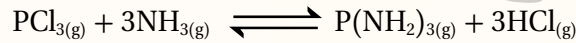
1. الفكرةُ الرئيسةُ: أصفُ الاتزانَ الكيميائي وأحدِّدُ العواملَ المؤثرةَ فيه.

2. أوضِّحُ المقصودَ بكلِّ من:

● مبدأ لوتشاتلييه.

● التفاعلات المنعكسة

3. أوضِّحُ التغيُّرات التي تحدث لتركيز الأمونيا NH_3 في التفاعلِ المُتزن في الحالات الآتية:

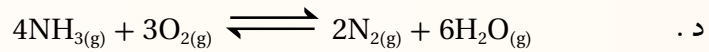
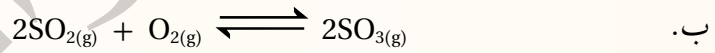
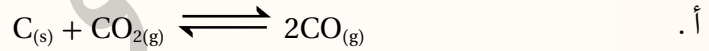


أ . زيادةُ تركيز PCl_3 .

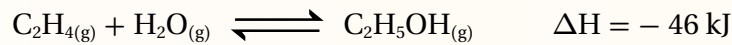
ب . سحب كمية من HCl من وعاء التفاعل.

ج . إضافة كمية من $\text{P}(\text{NH}_2)_3$ إلى وعاء التفاعل.

4. أحدِّدُ التفاعلات التي تؤدي زيادة الضغط الكلي لها إلى إنتاج كمية أكبر من المواد الناتجة:



5. أستنتجُ أثر التغيُّرات الآتية في موضع الاتزان للتفاعل الآتي:



أ . زيادة حجم وعاء التفاعل.

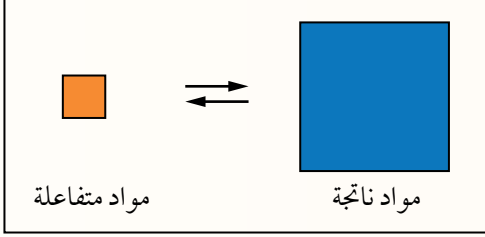
ب . زيادة درجة الحرارة.

ج . إضافة كمية من بخار الماء.

6. أختار الإجابة الصحيحة لكل فقرة من الفقرات الآتية:

1. إحدى العبارات الآتية صحيحة دائماً في التفاعلات المُتزنّة:

- أ . يُزاح الاتزان دائماً نحو تكوين المواد الناتجة.
ب. تكون سرعة التفاعل الأمامي أكبر من سرعة التفاعل العكسي.
ج. تثبت كمية كل من المواد المتفاعلة والمواد الناتجة.
د . يتوقف كل من التفاعل الأمامي والعكسي.



2. إحدى العبارات الآتية تصف الاتزان المبين في الشكل:

- أ . كمية المواد الناتجة أقل من كمية المواد المتفاعلة.
ب. كمية المواد الناتجة أكبر من كمية المواد المتفاعلة.
ج. سرعة التفاعل الأمامي أصغر من سرعة التفاعل العكسي.
د . الاتزان مزاح نحو اليسار.

3. في التفاعل المُتزن الآتي: $N_2O_4(g) \rightleftharpoons 2NO_2(g)$ $\Delta H = 58 \text{ kJ/mol}$
عديم اللون بني محمّر

- أيّ التغييرات الآتية يؤدي إلى ظهور لون بني محمّر غامق في وعاء التفاعل:
- أ . زيادة درجة الحرارة.
ب. إضافة عامل مساعد.
ج. زيادة الضغط.
د . تخفيض درجة الحرارة.

4. في التفاعل المُتزن الآتي: $2A(g) + B(g) \rightleftharpoons C(g) + \text{heat}$ ، واحدة من التغييرات الآتية لا تؤثر على موضع الاتزان:

- أ . سحب B من وعاء التفاعل.
ب. نقصان حجم وعاء التفاعل.
ج. التسخين.
د . إضافة عامل مساعد.

5. في التفاعل الآتي: $2CO_2(g) \rightleftharpoons 2CO(g) + O_2(g)$ $\Delta H = 566 \text{ kJ}$

- التغيير في كل من الضغط ودرجة الحرارة الذي ينتج عنهما أكبر كمية من غاز أول أكسيد الكربون CO هو:
- أ . زيادة كل من الضغط ودرجة الحرارة.
ب. نقصان كل من الضغط ودرجة الحرارة.
ج. زيادة الضغط ونقصان درجة الحرارة.
د . نقصان الضغط وزيادة درجة الحرارة.

ثابت الاتزان Equilibrium Constant

عرفت في ما سبق أنه عند وصول التفاعل إلى حالة الاتزان يستمر حدوث التفاعل بالاتجاهين الأمامي والعكسي بالسرعة نفسها، وتبقى تراكيز المواد الناتجة والمتفاعلة ثابتة، ويمكن التأثير عليها بإزاحة موضع الاتزان نحو اليسار أو اليمين بتغيير ظروف التفاعل من تركيز أو ضغط أو درجة حرارة، ثم يعود التفاعل إلى حالة الاتزان من جديد. وستعرف في هذا الدرس كيفية التعبير عن حالة الاتزان، وحساب تراكيز المواد المختلفة عند الاتزان.

تعبير ثابت الاتزان Equilibrium Constant Expression

توصل العالمان النرويجيان كاتو جولديبرج Cato Guldberg وبيتر ويج Peter Waage إلى علاقة تصف حالة الاتزان سُميت **قانون فعل الكتلة Mass Action Law**؛ وينص أنه عند درجة حرارة معينة يصل التفاعل إلى حالة تكون عندها نسبة تراكيز المواد الناتجة إلى تراكيز المواد المتفاعلة مرفوعاً كل منها إلى قوة تساوي معاملها في المعادلة الموزونة، قيمة ثابتة تُسمى **ثابت الاتزان Equilibrium Constant**.
فإذا كان لدينا التفاعل الافتراضي الآتي:



فإننا نجد أن ثابت الاتزان ويُرمز له K_{eq} يُمثل حاصل ضرب تراكيز المواد الناتجة مقسوماً على حاصل ضرب تراكيز المواد المتفاعلة مرفوعاً كل منها إلى قوة تساوي معاملها (a, b, c, d) في المعادلة الموزونة، ويُعبّر عنه على النحو الآتي:

$$K_{eq} = \frac{[C]^c [D]^d}{[A]^a [B]^b}$$

الفكرة الرئيسة:

يُعبّر ثابت الاتزان عن نسب تراكيز المواد المتفاعلة والناتجة في التفاعل عند وصوله إلى حالة الاتزان، ويستفاد منه في حساب كميات المواد المختلفة عند الاتزان.

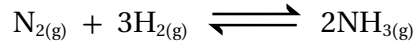
تأجرات التعلّم:

- أوضح المقصود بكل من: قانون فعل الكتلة، ثابت الاتزان، الاتزان المتجانس، الاتزان غير المتجانس.
- أكتب تعبير ثابت الاتزان لبعض التفاعلات.
- أحسب ثابت الاتزان لبعض التفاعلات.
- أحسب كميات المواد في وعاء التفاعل عند الاتزان.

المفاهيم والمصطلحات:

- قانون فعل الكتلة Mass Action Law
- ثابت الاتزان Equilibrium Constant
- اتزان متجانس
- Homogeneous Equilibrium
- اتزان غير متجانس
- Heterogeneous Equilibrium

عندما يعبر عن كميات المواد المتفاعلة والنتيجة في التفاعل بدلالة التركيز المولاري يُرمز لثابت الاتزان في هذه الحالة K_c بدلاً من K_{eq} ، فمثلاً؛ في التفاعل:



يعبر عن ثابت الاتزان للتفاعل على النحو الآتي:

$$K_c = \frac{[NH_3]^2}{[N_2] [H_2]^3}$$

يستفاد من قيمة ثابت الاتزان في تحديد الجهة التي يُزاح إليها الاتزان، وحساب كميات المواد الناتجة والمتفاعلة عند الاتزان، فإذا كانت قيمة ثابت الاتزان أكبر من واحد ($K_c > 1$)؛ يكون موضع الاتزان مُزاحاً إلى جهة المواد الناتجة، وتكون تراكيز المواد الناتجة أكبر من تراكيز المواد المتفاعلة. أنظر الشكل (10/أ)، بينما إذا كانت قيمة ثابت الاتزان أقل من واحد ($K_c < 1$)؛ يكون موضع الاتزان مُزاحاً إلى جهة المواد المتفاعلة، وتكون تراكيز المواد الناتجة أقل من تراكيز المواد المتفاعلة. أنظر الشكل (10/ب).

وتعتمد قيمة ثابت الاتزان على درجة الحرارة؛ فهناك قيم مختلفة لثابت الاتزان للتفاعل نفسه عند درجات حرارة مختلفة؛ فعند زيادة درجة الحرارة لتفاعل متزن ماص للطاقة يعدل الاتزان موضعه لتقليل أثر هذه الزيادة، وذلك بزيادة سرعة التفاعل الأمامي، فتزداد تراكيز المواد الناتجة وتقل تراكيز المواد المتفاعلة فتزداد قيمة ثابت الاتزان، ويحدث العكس إذا كان التفاعل طارداً للطاقة.

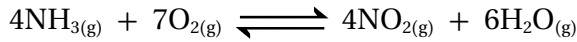
كثيراً من التفاعلات الكيميائية تكون فيها المواد في حالات فيزيائية مختلفة؛ لذا يمكن تصنيف الاتزان تبعاً إلى الحالة الفيزيائية للمواد إلى نوعين هما: اتزان متجانس، وآخر غير متجانس.

الشكل (10/أ، ب): الجهة التي يزاح إليها الاتزان.



الاتزان المتجانس Homogeneous Equilibrium

كثيرٌ من التفاعلات الكيميائية المُتزنة تكون فيها الموادُّ المُتفاعلة والنااتجة جميعها في الحالة الفيزيائية نفسها، وفي هذه الحالة يُوصف الاتزان بأنه **اتزان متجانس Homogeneous Equilibrium**. ويُعبّر عن ثابت الاتزان لهذه التفاعلات بدلالة تراكيز المواد كلها في التفاعل، فمثلاً؛ يتفاعل غاز الأمونيا مع غاز الأوكسجين وينتج غاز ثاني أكسيد النيتروجين وبخار الماء كما في المعادلة الآتية:



يُعبّر عن ثابت الاتزان لهذا التفاعل على النحو الآتي:

$$K_c = \frac{[\text{NO}_2]^4 [\text{H}_2\text{O}]^6}{[\text{NH}_3]^4 [\text{O}_2]^7}$$

الاتزان غير المتجانس Heterogeneous Equilibrium

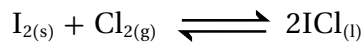
تختلف الحالة الفيزيائية للمواد المُتفاعلة والنااتجة (صلبة، وسائلة، وغازية) في بعض التفاعلات الكيميائية المُتزنة، ويوصف الاتزان بأنه **اتزان غير متجانس Heterogeneous Equilibrium**، وقد وجد أن تراكيز المواد الصلبة في التفاعل تبقى ثابتة؛ إذ إن كمية المادة في وحدة الحجم منها تبقى ثابتة، لذلك تدمج مع قيمة ثابت الاتزان ولا تكتب في تعبير ثابت الاتزان، فمثلاً؛ تتحلل كربونات الكالسيوم الصلبة CaCO_3 بالحرارة في وعاء مُغلق كما في المعادلة الآتية:



وقد وجد أن ثابت الاتزان يعتمد فقط على تركيز غاز ثاني أكسيد الكربون CO_2 ، ويُعبّر عنه على النحو الآتي:

$$K_c = [\text{CO}_2]$$

وكذلك بالنسبة للمادة السائلة؛ فإن تركيزها يُمثّل كثافتها، وهي قيمة ثابتة مهما تغيرت كميتها، ومن ثم فإن تركيزها يبقى ثابتاً فدمج مع قيمة ثابت الاتزان، فمثلاً؛ يتفاعل اليود الصلب مع غاز الكلور وفق المعادلة الآتية:



أفكر: أكتب معادلة التفاعل؛


إذا كان تعبير ثابت الاتزان لخليط من الغازات في وعاء تفاعل هو:

$$K_c = \frac{[\text{NO}]^2 [\text{Cl}_2]}{[\text{NOCl}]^2}$$

ألاحظ أن الحالة الفيزيائية لليود صلبة وكلوريد اليود 1 سائلة، ومن ثم فإنّ تركيز كلّ منهما يبقى ثابتاً فيدمج في قيمة ثابت الاتزان، ولا يكتب في تعبير ثابت الاتزان ويعبر عنه كما يأتي:

$$K_c = \frac{1}{[Cl_2]}$$

وينطبق ذلك على الماء بوجه عام، وكذلك عندما يكون الماء مذيباً كما في المعادلة الآتية:


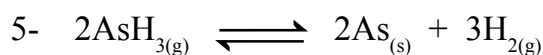
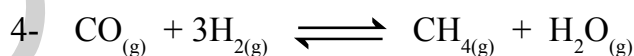

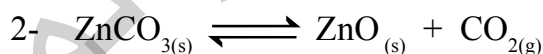
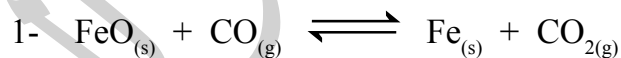


فإنّ تركيزه يبقى ثابتاً تقريباً فيدمج في قيمة ثابت الاتزان؛ ويُعبّر عن ثابت الاتزان كالآتي:

$$K_c = \frac{[H_3O^+][ClO^-]}{[HClO]}$$

✓ **أنحَقِّق:**

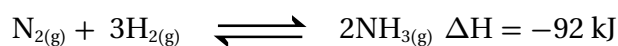
أكتب تعبير ثابت الاتزان بدلالة التراكيز المولارية للمواد لكلّ من التفاعلات الآتية:



الحسابات المتعلقة بثابت الاتزان

Calculations Related to Equilibrium Constant

يستخدم قانون فعل الكتلة في تطبيقات صناعية واسعة لوصف حالة الاتزان في الأنظمة الكيميائية المُتزنّة؛ مهما كانت الحالات الفيزيائية للمواد الكيميائية فيها، وقد عرفنا في ما سبق أن نسبة تراكيز المواد الناتجة إلى تراكيز المواد المُتفاعلة التي يُعبّر عنها ثابت الاتزان K_c عند درجة حرارة معينة تبقى ثابتة مهما اختلفت تراكيز المواد المستخدمة في التفاعل، ويوضّح الجدول (1) قيم ثابت الاتزان لتفاعل إنتاج الأمونيا في تجارب عدّة أُجريت عند درجة حرارة 500°C كما في المعادلة:



يتضح من الجدول أن قيمة ثابت الاتزان عند درجة حرارة معينة لا تتأثر بالتراكيز الابتدائية للمواد في التفاعل، لكنها تعتمد عملياً على تراكيز المواد في وعاء التفاعل عند الاتزان. وسوف أتعرّف في ما يأتي كيفية حساب ثابت الاتزان، وحساب تراكيز المواد في التفاعل عند وصوله إلى حالة الاتزان.

الجدول (1): قيم ثابت الاتزان لتفاعل الأمونيا في تجارب عدّة عند درجة حرارة 500°C .

التجربة	التركيزُ الابتدائي (بوحدّة M)	التركيزُ عند الاتزان (بوحدّة M)	ثابتُ الاتزان
1	$[\text{N}_2]_o = 1$ $[\text{H}_2]_o = 1$ $[\text{NH}_3]_o = 0$	$[\text{N}_2] = 0.921$ $[\text{H}_2] = 0.763$ $[\text{NH}_3] = 0.157$	$K_c = 6.02 \times 10^{-2}$
2	$[\text{N}_2]_o = 0$ $[\text{H}_2]_o = 0$ $[\text{NH}_3]_o = 1$	$[\text{N}_2] = 0.399$ $[\text{H}_2] = 1.197$ $[\text{NH}_3] = 0.203$	$K_c = 6.02 \times 10^{-2}$
3	$[\text{N}_2]_o = 2$ $[\text{H}_2]_o = 1$ $[\text{NH}_3]_o = 3$	$[\text{N}_2] = 2.59$ $[\text{H}_2] = 2.77$ $[\text{NH}_3] = 1.82$	$K_c = 6.02 \times 10^{-2}$

حساب ثابت الاتزان Calculating Equilibrium Constant

يُستخدم تعبير ثابت الاتزان K_c في حساب قيمة ثابت الاتزان للتفاعلات التي تحدث في أوعية مغلقة لا تسمح بخروج أي من المواد المتفاعلة أو الناتجة أو دخولها في أثناء التفاعل، ويستخدم في حساب تراكيز المواد عند وصول التفاعل إلى حالة الاتزان، والأمثلة الآتية توضح كيفية حساب ثابت الاتزان:

المثال 1

يُصنع غاز الميثان وفق المعادلة الآتية:



أحسب ثابت الاتزان عند حدوث التفاعل في وعاء مغلق حجمه 2 L، وكان عدد مولات المواد المتفاعلة والناتجة على النحو الآتي: 0.6 mol من CO، و 0.2 mol من H_2 ، و 0.12 mol من CH_4 ، و 0.04 mol من H_2O عند الاتزان، عند درجة حرارة معينة.

المعطيات:

$$n_{\text{H}_2\text{O}} = 0.04 \text{ mol} \quad , \quad n_{\text{CH}_4} = 0.12 \text{ mol} \quad , \quad n_{\text{H}_2} = 0.2 \text{ mol} \quad , \quad n_{\text{CO}} = 0.6 \text{ mol}$$

حجم خليط الغازات = 2 L

المطلوب: حساب ثابت الاتزان K_c

الحل:

أحسب التركيز المولاري لكل غاز في وعاء التفاعل عند الاتزان كما يأتي:

$$M_{(\text{CO})} = \frac{n}{V} = \frac{0.6}{2} = 0.3M$$

$$M_{(\text{H}_2)} = \frac{n}{V} = \frac{0.2}{2} = 0.1M$$

$$M_{(\text{CH}_4)} = \frac{n}{V} = \frac{0.12}{2} = 0.06M$$

$$M_{(\text{H}_2\text{O})} = \frac{n}{V} = \frac{0.04}{2} = 0.02M$$

$$K_c = \frac{[\text{CH}_4] [\text{H}_2\text{O}]}{[\text{CO}] [\text{H}_2]^3}$$

$$K_c = \frac{0.06 \times 0.02}{0.3 \times (0.1)^3} = 4$$

أحسب ثابت الاتزان:

ألاحظ أن قيمة $K_c > 1$ ، وهذا يشير إلى أن موضع الاتزان مُزاح إلى جهة المواد الناتجة.

يمكن حساب ثابت الاتزان بمعرفة التركيز الابتدائي لكل من المواد المتفاعلة والنتيجة وتركيز واحدة منها عند الاتزان، حيث يجري حساب تركيز باقي المواد اعتماداً على مُعادلة التفاعل الموزونة، ومن ثمّ حساب ثابت الاتزان.

المثال 2

يتحلل غاز يوديد الهيدروجين HI، وينتج خليطاً من غاز الهيدروجين H₂ وبخار اليود I₂ كما في المعادلة الآتية:



وتشير شدة اللون البنفسجي لبخار اليود I₂ الناتج إلى كميته في الخليط الغازي الناتج؛ فكلما زاد تركيز بخار اليود في الوعاء زادت شدة اللون، فإذا وضع 4 mol من يوديد الهيدروجين HI في وعاء مغلق حجمه 5 L عند درجة حرارة 485 °C؛ وُجد أنّ الوعاء عند الاتزان يحتوي 0.442 mol من بخار اليود I₂. أحسب ثابت الاتزان للتفاعل عند درجة الحرارة نفسها.

المعطيات:

$$n_{\text{HI}} = 4 \text{ mol} , n_{\text{I}_2} = 0.442 \text{ mol} , V = 5 \text{ L}$$

المطلوب: حساب ثابت الاتزان K_c

الحل:

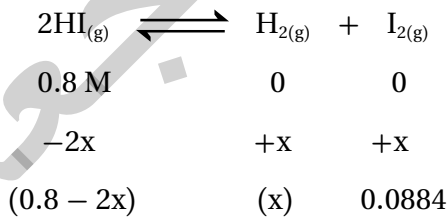
أحسب تركيز HI عند البداية:

$$[\text{HI}]_0 = \frac{n_{\text{HI}}}{V} = \frac{4 \text{ mol}}{5 \text{ L}} = 0.8 \text{ M}$$

أحسب تركيز I₂ عند الاتزان:

$$[\text{I}_2] = \frac{n_{\text{I}_2}}{V} = \frac{0.442 \text{ mol}}{5 \text{ L}} = 0.0884 \text{ M}$$

أحسب تراكيز جميع المواد عند الاتزان كما يأتي:



التراكيز عند بداية التفاعل:

التغيرات التي تطرأ على التراكيز:

التراكيز عند الاتزان:

يتضح من المعادلة أنّ:

$$[\text{H}_2] = [\text{I}_2] = 0.0884 \text{ M}$$

$$[\text{HI}] = 0.8 - 2x = 0.8 - 0.1768 = 0.623 \text{ M}$$

الآن؛ يمكنني حساب ثابت الاتزان كما يأتي:

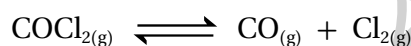
$$K_c = \frac{[H_2][I_2]}{[HI]^2} = \frac{0.0884 \times 0.0884}{(0.623)^2} = \frac{0.0078}{0.388} = 0.02$$

ألاحظ أن قيمة $K_c < 1$ ما يشير إلى أن موضع الاتزان مُزاحًا جهة المواد المتفاعلة.

تحقق:

1. أحسب ثابت الاتزان لتحلل غاز الفوسجين $COCl_2$ في وعاء مغلق

حجمه 0.4 L كما في المعادلة الآتية:

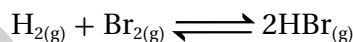


إذا كان عدد مولات الغازات في وعاء التفاعل عند الاتزان كما يأتي:

$$n_{CO} = 0.071 \text{ mol}, n_{Cl_2} = 0.071 \text{ mol}, n_{COCl_2} = 3 \text{ mol}$$

2. سخن خليط من غاز الهيدروجين H_2 0.7 mol مع غاز البروم Br_2 0.44 mol

في وعاء حجمه 2 L إلى درجة حرارة 700 K وحدث التفاعل الآتي:



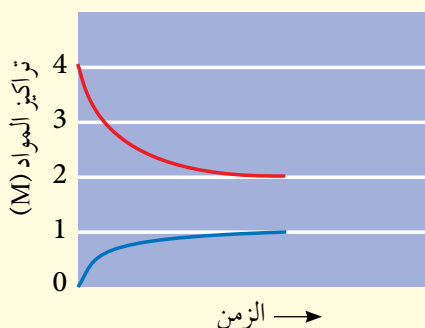
وجد أن عدد مولات الهيدروجين H_2 عند الاتزان يساوي 0.28 mol، أحسب:

أ. تركيز كل من H_2 ، Br_2 ، HBr عند الاتزان.

ب. ثابت الاتزان K_c .

أفكر: يبين الشكل النتائج التجريبية لإحدى التجارب، ويمثل المنحنى الأحمر

المادة A، ويمثل المنحنى الأزرق المادة B، أحسب ثابت الاتزان.



حساب تراكيز المواد عند الاتزان

Calculating Equilibrium Concentrations

يرافق حدوث التفاعلات الكيميائية تغيرات في تراكيز المواد المتفاعلة والنتيجة إلى حين وصول التفاعل إلى حالة الاتزان، وتعتمد هذه التغيرات على النسب المولية للمواد في المعادلة الموزونة، ويمكن حساب تراكيز المواد في التفاعل عند الاتزان باستخدام ثابت الاتزان، والأمثلة الآتية توضح ذلك:

المثال 3

يتفاعل غاز أول أكسيد الكربون CO مع بخار الماء لإنتاج غازي ثاني أكسيد الكربون CO₂ والهيدروجين H₂ كما في المعادلة الآتية:



فإذا وضع 1 mol من كل من هذه الغازات في وعاء حجمه 1 L، وكان ثابت الاتزان عند 700 K يساوي 5.10؛ أحسب تركيز كل من هذه الغازات عند الاتزان.

المعطيات:

$$V = 1 \text{ L}$$

$$n_{\text{CO}} = n_{\text{H}_2\text{O}} = n_{\text{CO}_2} = n_{\text{H}_2} = 1 \text{ mol}$$

$$K_c = 5.10 \text{ ثابت الاتزان}$$

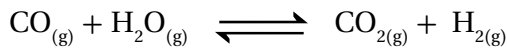
المطلوب: حساب تراكيز الغازات جميعها عند الاتزان.

الحل:

أحسب التركيز الابتدائي لكل غاز:

$$[\text{CO}]_0 = [\text{H}_2\text{O}]_0 = [\text{CO}_2]_0 = [\text{H}_2]_0 = \frac{n}{V} = \frac{1}{1} = 1 \text{ M}$$

وبما أن عدد مولات كل مادة من المواد المتفاعلة والمواد الناتجة في المعادلة الموزونة متساوٍ؛ فعندما ينقص تركيز CO بمقدار x؛ فإن تركيز H₂O ينقص بمقدار x، ويزداد تركيز كل من المواد الناتجة بالمقدار x نفسه، ويمكن تنظيم التغيرات التي تطرأ على تراكيز المواد على النحو الآتي:



$$1\text{M} \quad 1\text{M} \quad 1\text{M} \quad 1\text{M}$$

$$-x \quad -x \quad +x \quad +x$$

$$(1-x) \quad (1-x) \quad (1+x) \quad (1+x)$$

التراكيز عند بداية التفاعل:

التغيرات التي تطرأ على التراكيز:

التراكيز عند الاتزان:

والآن؛ أكتب تعبير ثابت الاتزان ثم أعوض كما يأتي:

$$K_c = \frac{[\text{CO}_2][\text{H}_2]}{[\text{CO}][\text{H}_2\text{O}]}$$

$$K_c = 5.1 = \frac{(1+x)(1+x)}{(1-x)(1-x)} = \frac{(1+x)^2}{(1-x)^2}$$

وبأخذ جذر الطرفين أحصل على ما يأتي:

$$\sqrt{5.1} = 2.26 = \frac{(1+x)}{(1-x)}$$

ومنها أجد أن:

$$2.26(1-x) = 1+x$$

ومنها أجد:

$$x = 0.387$$

أحصل على تراكيز الغازات عند الاتزان بتعويض قيمة x كما يأتي:

$$[\text{CO}] = [\text{H}_2\text{O}] = 1 - x = 1 - 0.387 = 0.613 \text{ M}$$

$$[\text{CO}_2] = [\text{H}_2] = 1 + x = 1 + 0.387 = 1.387 \text{ M}$$

ألاحظ أنه تم استخدام القيمة الموجبة للجذر التربيعي لثابت الاتزان فقط وذلك لأن تراكيز المواد المتفاعلة والنواتجة لا يمكن أن تكون قيم سالبة وكذلك النسبة بينها.

يتفاعل غاز الهيدروجين H_2 مع بخار اليود I_2 لتكوين غاز يوديد الهيدروجين HI كما في المعادلة:



خُلط $0.5 \text{ mol } H_2$ مع $0.5 \text{ mol } I_2$ في وعاءٍ حجمه 1 L ، وسُخِّن الخليط إلى درجة حرارة 458°C حتى وصل إلى الاتزان؛ فكانت قيمة ثابت الاتزان عندها تساوي 50 ؛ أحسب تراكيز الغازات كلَّها عند الاتزان.

المعطيات:

$$V = 1 \text{ L}$$

$$n_{H_2} = 0.5 \text{ mol}$$

$$n_{I_2} = 0.5 \text{ mol}$$

$$n_{HI} = 0 \text{ mol}$$

$$K_c = 50$$

المطلوب: حساب تراكيز الغازات جميعها عند الاتزان.

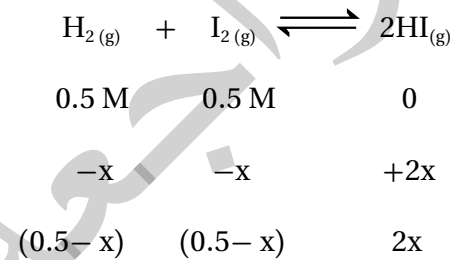
الحل:

أحسب التركيز الابتدائي لكل غاز كما يأتي:

$$[H_2]_0 = \frac{n}{V} = \frac{0.5}{1} = 0.5 \text{ M}$$

$$[I_2]_0 = \frac{n}{V} = \frac{0.5}{1} = 0.5 \text{ M}$$

أنظّم التغيّرات التي تطرأ على تراكيز المواد على النحو الآتي:



التراكيز عند بداية التفاعل:

التغيّرات التي تطرأ على التراكيز:

التراكيز عند الاتزان:

أطبق قانون ثابت الاتزان:

$$K_c = \frac{[HI]^2}{[H_2][I_2]}$$

أعوّض عن ثابت الاتزان وتراكيز المواد عند الاتزان كما يأتي:

$$50 = \frac{(2x)^2}{(0.5 - x)(0.5 - x)}$$

وبأخذ الجذر التربيعي للطرفين أحصل على ما يأتي:

$$7.07 = \frac{2X}{0.5 - X}$$

$$3.535 - 7.07X = 2X$$

ومنها أجد:

$$X = 0.39$$

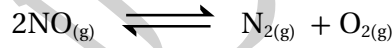
وبهذا تكون تراكيز الغازات عند الاتزان كما يأتي:

$$[H_2] = [I_2] = 0.5 - 0.39 = 0.11 \text{ M}$$

$$[HI] = 2x = 2 \times 0.39 = 0.78 \text{ M}$$

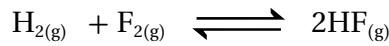
✓ أنتحَقِّق:

1 . يتفكك غاز NO وفق المعادلة الآتية:



إذا كان التركيز الابتدائي لـ NO يساوي 0.2 M أحسب تراكيز المواد المتفاعلة والنتيجة عند الاتزان عند درجة حرارة 1000 °C علماً أن ثابت الاتزان K_c يساوي 2.4×10^3

2 . أجرى مجموعة من الطلبة تجربة لإنتاج فلوريد الهيدروجين HF؛ إذ وضعوا 3 mol H₂ و 3 mol F₂ في وعاء حجمه 3 L، وتركوها لتتفاعل كما في المعادلة الآتية:



أحسب تراكيز المواد عند الاتزان؛ علماً أن ثابت الاتزان K_c يساوي (115)، عند درجة حرارة معينة.



أستخدم برنامج

صانع الأفلام Movie Maker؛ أو استخدم كاميرا رقمية، وأعدّ فيلماً أشرح فيه كيفية حساب تراكيز المواد المختلفة في التفاعل عند الاتزان، ثمّ عرضه أمام زملائي/زميلاتي في الصف.

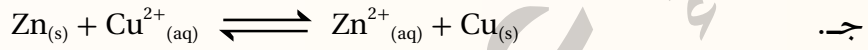
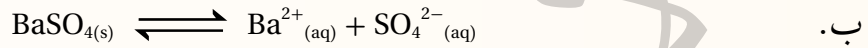
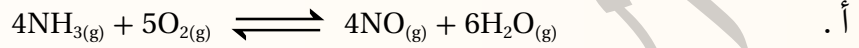
مراجعةُ الدرس

1. الفكرة الرئيسة: أفسّر دلالة ثابت الاتزان للتفاعل الكيميائي.

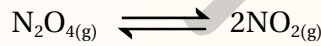
2. أوضّح المقصود بكلّ مما يأتي:

- قانون فعل الكتلة.
- الاتزان المتجانس.

3. **أطبّق** أكتبُ تعبير ثابت الاتزان بدلالة تراكيز المواد لكلّ من التفاعلات الآتية:

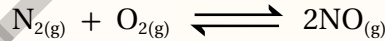


4. **استخدم الأرقام:** أدخل 0.65 mol من غاز N_2O_4 إلى وعاء حجمه 0.5 L، وترك ليتفكك كما في المعادلة الآتية:



أحسب ثابت الاتزان، إذ وُجد أنّ الوعاء يحتوي على 0.5 mol من NO_2 عند الاتزان.

5. **استخدم الأرقام:** وضع 2 mol من كلّ من الأكسجين والنتروجين في وعاء حجمه 1 L لتتفاعل معاً وفق المعادلة الآتية:



وقد وُجد أنّ ثابت الاتزان للتفاعل عند درجة حرارة 150 K يُساوي 1×10^{-5} ؛ أحسب تراكيز المواد عند وصول التفاعل إلى حالة الاتزان.

6. أختار الإجابة الصحيحة لكل فقرة من الفقرات الآتية:

1. العبارة الصحيحة التي تصف الاتزان غير المتجانس، هي:

أ. تكون المواد المتفاعلة والنتيجة في الحالة الفيزيائية نفسها.

ب. تتنوع الحالة الفيزيائية للمواد المتفاعلة والنتيجة.

جـ. تراكيز المواد الصلبة في التفاعل غير ثابتة.

د. يظهر تركيز السائل في قانون ثابت الاتزان.

2. قيمة ثابت الأتزان للتفاعل $2\text{NO}_{(g)} + \text{O}_{2(g)} \rightleftharpoons 2\text{NO}_{2(g)}$ تساوي $K_c = 5 \times 10^{12}$ عند درجة حرارة معينة فإن إحدى العبارات الآتية صحيحة:

- أ . يزاح موضع الاتزان جهة المواد الناتجة. ب . يتحلل NO_2 بدرجة كبيرة.
جـ. يزاح موضع الاتزان جهة المواد المتفاعلة. د . يكون تركيز المواد المتفاعلة كبيراً عند الاتزان.

3. في التفاعل الآتي: $4\text{NH}_{3(g)} + 5\text{O}_{2(g)} \rightleftharpoons 4\text{NO}_{(g)} + 6\text{H}_2\text{O}_{(g)}$

يؤدي سحب كمية من غاز NO من وعاء التفاعل إلى:

- أ . زيادة سرعة التفاعل العكسي. ب . زيادة تركيز غاز NH_3 .
جـ. إزاحة موضع الاتزان نحو اليمين. د . إزاحة موضع الاتزان نحو اليسار.

4. في التفاعل الآتي: $2\text{A}_{(g)} \rightleftharpoons \text{C}_{(g)}$ إذا كانت $K_c = 2$.

أي الحالات الآتية صحيحة عند وصول التفاعل لحالة الاتزان عند درجة حرارة معينة:

أ . $2[\text{C}] = [\text{A}]^2$ ب . $[\text{C}]^2 = 2[\text{A}]$

جـ. $[\text{A}] = [\text{C}]$ د . $2[\text{A}]^2 = [\text{C}]$

5. خلط 0.1 mol من غاز أول أكسيد النيتروجين NO مع 0.1 mol من غاز البروم Br_2 في وعاء حجمه 1L

، وسُخّن الخليط إلى درجة حرارة 350 K وحدث التفاعل الآتي: $2\text{NO}_{(g)} + \text{Br}_{2(g)} \rightleftharpoons 2\text{NOBr}_{(g)}$

عند الاتزان وجد أن تركيز NOBr يساوي 0.08 M؛ لذلك فإن ثابت الاتزان K_c يساوي:

أ . 1111 ب . 555.5

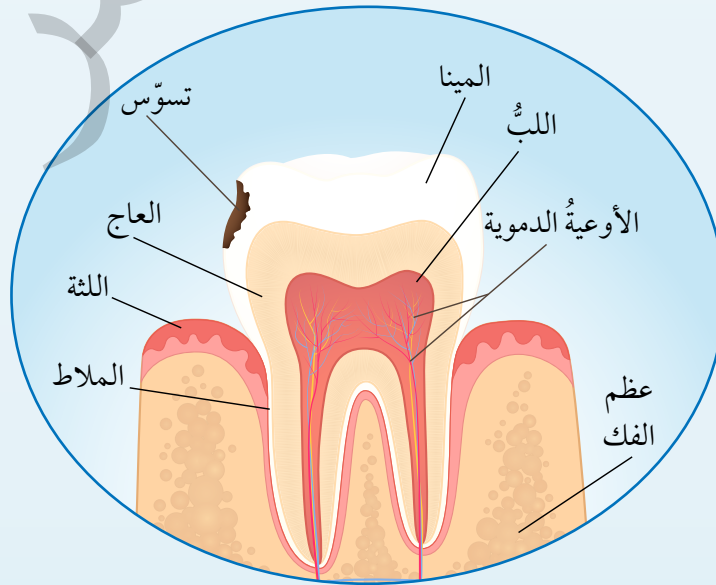
جـ. 266.7 د . 160.6

حماية الأسنان من التآكل

Protecting Teeth from Erosion

يُغطّي السنُّ طبقةً خارجيّةً صلبةً تُسمى المينا، وتتكوّن من نسبة عالية من المعادن؛ إذ يُشكّل معدن هيدروكسي أباتيت Hydroxyapatite $(Ca_5(PO_4)_3OH)$ النسبة الكبرى من هذه المعادن، وتمتازُ هذه المادة بأنها قليلة الذوبان، ورغم ذلك فهي عُرضة إلى الذوبان وإعادة التكوين اعتمادًا على حمضية السائل الموجود في الفم أو قاعدتيته، وتركيز المواد المختلفة فيه، وتُسمى عملية إذابة المعادن المكونة للأسنان إزالة المعدن Demineralization؛ بينما تُسمى إعادة تكوينها عملية بناء المعدن Remineralization. تتآكل الأسنان وتصاب بالتسوس نتيجة ذوبان معدن هيدروكسي أباتيت المُكوّن للمينا، وعند تناول السكريات تتخمر بقاياها في الفم، وينتج حمض اللاكتيك $C_2H_4OHCOOH$ ، ويتأين في الفم منتجًا أيونات الهيدروجين (H^+) التي تتفاعل مع أيونات (OH^-) وأيونات PO_4^{3-} ، وتستهلكهما ويقل تركيزهما؛ فيزيد من تفكك معدن هيدروكسي أباتيت، وتزداد سرعة إزالة المعدن، وتآكل طبقة المينا.

لحماية الأسنان والتقليل من تأكلها؛ تُستخدم مركّبات الفلور مثل فلوريد الصوديوم، وفلوريد الخارصين، وغيرها في صناعة معجون الأسنان التي تُنتج أيونات الفلوريد F^- التي تحل محلّ أيون الهيدروكسيد (OH^-) في معدن الهيدروكسي أباتيت، وينتج معدن الفلورو أباتيت $Ca_5(PO_4)_3F$ ، ويدخل في تكوين مينا الأسنان.

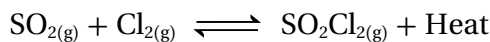


مراجعة الوحدة

1. أوضِّح المقصود بكلِّ مما يأتي:

- اتزان ديناميكي
- ثابت الاتزان.
- الاتزان غير المتجانس.

2. **أستنتج** يتفاعل ثاني أكسيد الكبريت SO_2 مع الكلور Cl_2 وفق المعادلة الآتية:



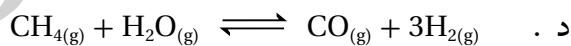
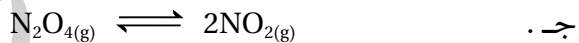
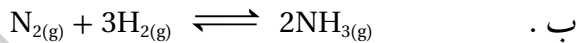
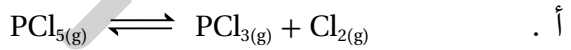
ما أثر التغيرات الآتية في موضع الاتزان؟

- زيادة تركيز Cl_2 .
- سحب كمية من SO_2Cl_2 من الوعاء.
- تقليل كمية SO_2 في وعاء التفاعل.

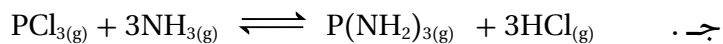
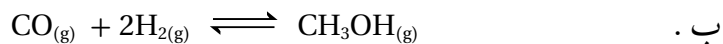
3. **أستنتج** أثر خفض درجة الحرارة في موضع الاتزان للتفاعلين المُتزنين الآتين:



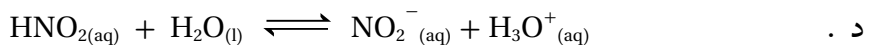
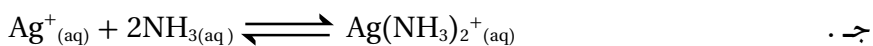
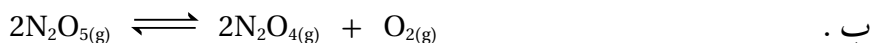
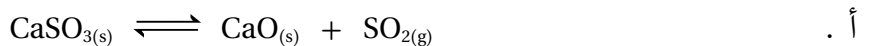
4. **أحدد** التفاعل الذي ينتج عنه أكبر كمية من المواد عند زيادة الضغط الكلي المؤثر في وعاء التفاعل:




5. **أستنتج** موضع الاتزان عند تقليل حجم الوعاء في كل من التفاعلات الآتية مُبرِّراً إجابتي:



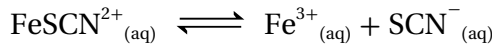
6. **أطبّق** أكتب تعبير ثابت الاتزان K_c لكلِّ من التفاعلات الآتية:



أ. لا يتأثر موضع الاتزان عند تغيير الضغط الكلي في وعاء التفاعل عند الاتزان للتفاعل الآتي:



ب. في التفاعل المتزن الآتي:



يمكن زيادة تركيز SCN^{-} بترسيب أيونات الحديد Fe^{3+} من المحلول بمفاعلها مع مادة أخرى.

8. أستنتج: يُبين الجدول الآتي نتائج دراسة ثابت الاتزان لتفاعل ما عند درجات حرارة مختلفة، هل التفاعل ماص للحرارة أم طارد لها؟ أبرر إجابتي.

درجة الحرارة بوحدة الكلفن	ثابت الاتزان
208	4.9×10^{27}
800	1.38×10^5
1000	2.54×10^2

9. أستخدم الأرقام: تُحضّر الأمونيا NH_3 بتسخين مزيج من غازي النيتروجين N_2 والهيدروجين H_2 عند ضغط مُعَيّن،

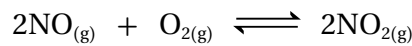


وضعت كمية من غازي النيتروجين والهيدروجين في وعاء حجمه 10 L، وسُخّنت إلى درجة حرارة 350°C ؛ ليصل التفاعل إلى حالة الاتزان، وُجد عند الاتزان أن عدد مولات النيتروجين 4.25 mol والهيدروجين 5.75 mol والأمونيا 1.5 mol، أجب عن الأسئلة الآتية:

أ - أحسب ثابت الاتزان للتفاعل عند 350°C

ب - أقرن هذه النتيجة بقيم ثابت الاتزان في الجدول رقم (1)، وأبرر هذا الاختلاف.

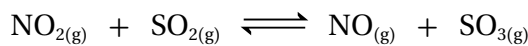
10. أستخدم الأرقام: وُجد أن ثابت الاتزان للتفاعل المتزن الآتي يساوي $K_c = 4 \times 10^{13}$ عند درجة 25°C



أ - ما المواد المتوافرة بكمية أكبر في وعاء التفاعل عند الاتزان؟

ب - أحسب تركيز NO_2 عند الاتزان، عندما يكون $[\text{NO}] = [\text{O}_2] = 2 \times 10^{-6} \text{ M}$.

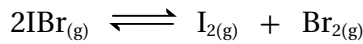
11. أستخدم الأرقام: يحدث التفاعل الآتي في وعاء مغلق حجمه 1 L.



وضع 0.8 mol من كل من الغازات الأربعة إلى وعاء التفاعل عند درجة حرارة مُعَيّنة فُوجد أن ثابت الاتزان للتفاعل عند درجة الحرارة نفسها يساوي 3.75، أحسب تراكيز هذه الغازات عند الاتزان.

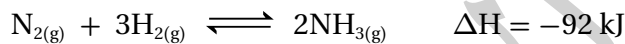
مراجعة الوحدة

12. **أستخدم الأرقام:** يتحلل غاز بروميد اليود IBr وفق المعادلة الآتية:



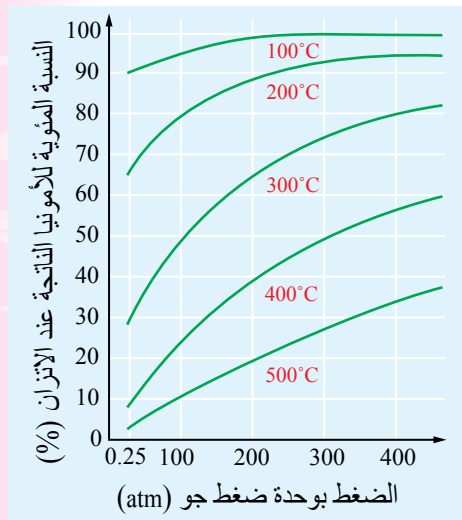
تفكك 0.1 mol من بروميد اليود في وعاء حجمه 1 L عند درجة حرارة 100°C ، وكان ثابت الاتزان يساوي 0.026، أحسب تراكيز المواد عند وصول التفاعل إلى حالة الاتزان.

13. **أستنتج:** تُصنَّع الأمونيا بتسخين مزيج من غازي النيتروجين والهيدروجين بوجود عاملٍ مساعد، كما في المعادلة الآتية:



ويُبيِّن الشكل المجاور نسبة الأمونيا الناتجة عند ظروف مختلفة من الضغط ودرجة الحرارة، أدرس المنحنى ثم أجب عن الأسئلة الآتية:

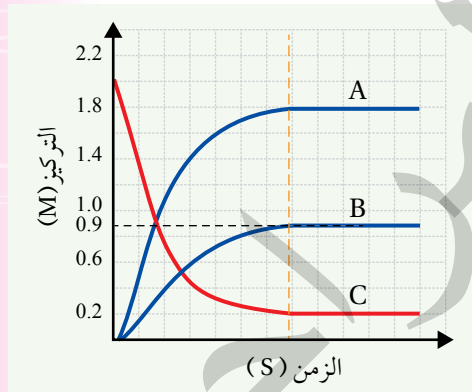
أ. ما أثر تغيير درجة الحرارة والضغط على النسبة المئوية للأمونيا الناتجة عند الاتزان، أفسر ذلك.
ب. أكتب تعبير ثابت الاتزان للتفاعل.



14. **أستنتج:** يُبيِّن الشكل المجاور النتائج التجريبية لخليط من الغازات

(SO_3 , SO_2 , O_2) عند الاتزان، أدرس الشكل وأجب عن الأسئلة الآتية:

أ. أحدد أي المنحنيات التي أعطيت الرموز A، B، C يُمثِّل المواد المتفاعلة وأيها يُمثِّل المواد الناتجة؟
ب. أكتب معادلة التفاعل الموزونة.
ج. أحسب ثابت الاتزان للتفاعل في ضوء هذه النتائج.

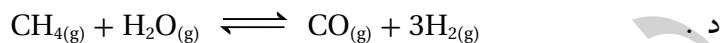
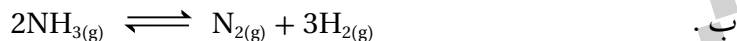


15. تغطي الأسنان طبقة من المعادن تُسمى طبقة المينا؛ تعمل على حماية الأسنان من التآكل:

أ. أسمى المعدن الأساسي التي تتكون منه هذه الطبقة.
ب. أوضح عملية إزالة المعدن الذي تتكوّن منه طبقة المينا.
ج. أسمى المادة المستخدمة في إعادة بناء المعدن في طبقة المينا.

16. أختارُ الإجابة الصحيحة لكلِّ فقرة في ما يأتي:

1. أحددُ التفاعل الذي ينتج عنه كمية أكبر من النواتج عند زيادة الضغط المؤثر في وعاء التفاعل:



2. في التفاعل الآتي: $4NH_{3(g)} + 5O_{2(g)} \rightleftharpoons 4NO_{(g)} + 6H_2O_{(g)}$

يؤدي سحب كمية من غاز NH_3 من وعاء التفاعل إلى:

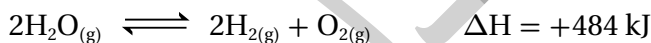
أ . زيادة سرعة التفاعل الأمامي .

ب . زيادة إنتاج غاز NO .

ج . إزاحة موضع الاتزان نحو اليمين .

د . إزاحة موضع الاتزان نحو اليسار .

3. يُعدُّ تحليل الماء كهربائياً إحدى طرائق تحضير غاز الهيدروجين كما في التفاعل الآتي:



أحدد أيَّ الإجراءات الآتية يؤدي إلى زيادة كمية غاز الهيدروجين الناتجة:

أ . زيادة درجة الحرارة

ب . خفض درجة الحرارة

ج . زيادة الضغط المؤثر

د . إضافة كمية من غاز الأكسجين

4. العبارة الصحيحة في ما يتعلق بالتفاعل عند الاتزان؛ هي:

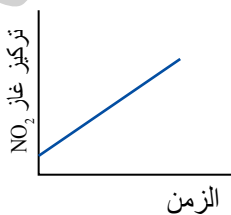
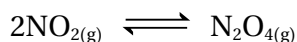
أ . تراكيز المواد الناتجة مساوٍ لتراكيز المواد المتفاعلة.

ب . موضع الاتزان مَرَّاح نحو تكوين المواد المتفاعلة.

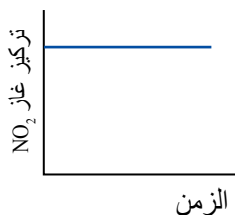
ج . سرعة التفاعل الأمامي مساوية لسرعة التفاعل العكسي.

د . تعتمد قيمة ثابت الاتزان على التراكيز الابتدائية للمواد في التفاعل.

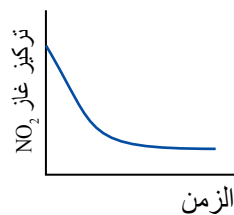
5. الشكل الذي يُعبّر عن تغيير تركيز NO_2 في أثناء سير التفاعل والوصول إلى حالة الاتزان للتفاعل الآتي هو:



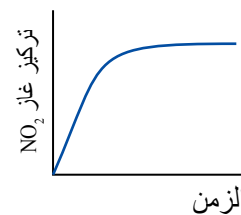
(د)



(ج)



(ب)



(أ)

مراجعة الوحدة

6. في التفاعل الكيميائي الآتي: $\text{Ti}_{(s)} + 2\text{Cl}_{2(g)} \rightleftharpoons \text{TiCl}_{4(l)}$

يُعبّر عن ثابت الاتزان للتفاعل بالمعادلة:

أ. $K_c = \frac{[\text{TiCl}_4]}{[\text{Ti}][\text{Cl}_2]^2}$ ب. $K_c = \frac{[\text{TiCl}_4]}{[\text{Ti}][\text{Cl}_2]}$

ج. $K_c = \frac{1}{[\text{Cl}_2]^2}$ د. $K_c = \frac{[\text{TiCl}_4]}{[\text{Cl}_2]^2}$

7. تعبير ثابت الاتزان لتفاعل ما: $K_c = \frac{[\text{ICl}_3]^2}{[\text{I}_2][\text{Cl}_2]^3}$

فإن معادلة التفاعل الكيميائي الموزونة هي:



8. في التفاعل الآتي: $2\text{SO}_{2(g)} + \text{O}_{2(g)} \rightleftharpoons 2\text{SO}_{3(g)}$ $\Delta H = -200 \text{ kJ}$

تنتج أكبر كمية من SO_3 عند:

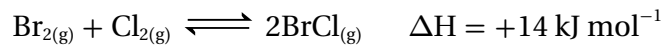
أ. ضغط منخفض ودرجة حرارة منخفضة.

ب. ضغط مرتفع ودرجة حرارة منخفضة.

ج. ضغط مرتفع ودرجة حرارة مرتفعة.

د. ضغط منخفض ودرجة حرارة مرتفعة.

9. عند زيادة درجة الحرارة للتفاعل الآتي فإنه:



أ. يقل ثابت الاتزان ويُزاح موضعهُ نحو المتفاعلات.

ب. يزداد ثابت الاتزان ويُزاح موضعهُ نحو المتفاعلات.

ج. يقل ثابت الاتزان ويُزاح موضعهُ نحو النواتج.

د. يزداد ثابت الاتزان ويُزاح موضعهُ نحو النواتج.

* اعتماداً على معادلة التفاعل الكيميائي الموزونة الآتية: $\Delta H = -92 \text{ kJ mol}^{-1}$ $\text{N}_2(\text{g}) + 3\text{H}_2(\text{g}) \xrightleftharpoons{\text{عامل مساعد}} 2\text{NH}_3(\text{g})$ أجب عن الفقرتين 10 و 11:

10. ما التغيير أو التغييرات من الآتية يُمكن أن تزيد من قيمة ثابت الاتزان؟

I. زيادة الضغط

II. خفض درجة الحرارة

III. زيادة تركيز N_2

أ. I و II معا

ب. I فقط

ج. II و III معا

د. II فقط

11. عند استعمال العامل المساعد في تفاعل انتاج الأمونيا:

أ. يزداد تركيز الأمونيا عند الاتزان.

ب. يقل تركيز الأمونيا عند الاتزان.

ج. لا يتغير تركيز الأمونيا عند الاتزان.

د. يزداد الزمن اللازم للوصول إلى موضع الاتزان.

12. يتحلل غاز الفوسجين COCl_2 وفق المعادلة: $\text{COCl}_2(\text{g}) \rightleftharpoons \text{CO}(\text{g}) + \text{Cl}_2(\text{g})$

فإذا كانت تراكيز المواد عند الاتزان كما يأتي $[\text{CO}] = [\text{Cl}_2] = 0.18 \text{ M}$, $[\text{COCl}_2] = 0.75 \text{ M}$:

فإن ثابت الاتزان للتفاعل يساوي:

أ. 0.48

ب. 0.032

ج. 0.043

د. 2.34

13. وضع 0.625 mol من غاز رباعي أكسيد ثنائي النيتروجين N_2O_4 في وعاء حجمه 5 L عند درجة حرارة معينة، فإذا

كان تركيز N_2O_4 عند الاتزان يساوي 0.075 M؛ فإن ثابت الاتزان للتفاعل الآتي: $\text{N}_2\text{O}_4(\text{g}) \rightleftharpoons 2\text{NO}_2(\text{g})$ يساوي:

أ. 0.13

ب. 0.75

ج. 1.5

د. 7.5

الحموض والقواعد وتطبيقاتها

Acids and Bases and their Applications

أتأمل الصورة

تحتوي كثير من المواد الغذائية التي نتناولها على مواد حمضية تكسبها طعمًا لاذعًا، مثل الليمون، وأخرى تحتوي على مواد قاعدية تكسبها طعمًا خاصًا بها، مثل: السبانخ، ولكل مادة من هذه المواد درجة حموضة تميزها عن غيرها. فما المقصود بالحمض والقاعدة؟ وكيف تُقاس درجة حموضة محاليل هذه المواد؟

الفكرة العامة

تُصنَّفُ الموادُّ التي نستخدمها في حياتنا اليوميَّة بالاعتماد على درجة حموضتها، إلى موادَّ حمضيَّة وموادَّ قاعدية، وأخرى متعادلة، وتختلف هذه الموادُّ في خصائصها واستخداماتها، ويمكن تقدير درجة حموضتها بطرائق مختلفة.

الدرس الأول: الحموض والقواعد.

الفكرة الرئيسة: تمتاز الحموض والقواعد في خصائصها الكيميائية والفيزيائية التي تُحدِّد استخدامها، ويمكن تعريف الحمض والقاعدة بالاعتماد على نواتج تأينهما في الماء، أو انتقال أيون الهيدروجين بينهما، أو انتقال أزواج الإلكترونات غير الرابطة.

الدرس الثاني: الرِّقم الهيدروجيني ومحاليل الحموض والقواعد القويَّة.

الفكرة الرئيسة: تحتوي المحاليل المائية على أيونات الهيدروجين وأيونات الهيدروكسيد، ويمكن التعبير عن درجة حموضة المحلول pH أو درجة قاعديةته pOH بالاعتماد على تراكيز هذه الأيونات فيه.

الدرس الثالث: محاليل الحموض والقواعد الضعيفة.

الفكرة الرئيسة: يتأينُ الحمضُ الضعيف في المحلول المائي جزئياً، ويُعبَّر عن قدرته على التأيُّن باستخدام ثابت تأيُّن الحمض K_a ، وكذلك الحال للقاعدة الضعيفة التي يُعبَّر عن مدى تأيُّنها بثابت تأيُّن القاعدة K_b ، وتُستخدَم ثوابتُ التأيُّن لحساب تراكيز الأيونات الناتجة وحساب الرِّقم الهيدروجيني للمحلول.

الدرس الرابع: الأملاح والأيون المشترك.

الفكرة الرئيسة: للكثير من الأملاح خصائص حمضية أو قاعدية؛ تغيَّر من الرِّقم الهيدروجيني للمحلول الذي تُضاف إليه، وينتج عن ذوبان الملح في محلول حمضه الضعيف أو اذابة الملح في محلول قاعدته الضعيفة ما يسمى بالأيون المشترك.

تجربة استهلاكية

خصائص الحمض والقاعدة

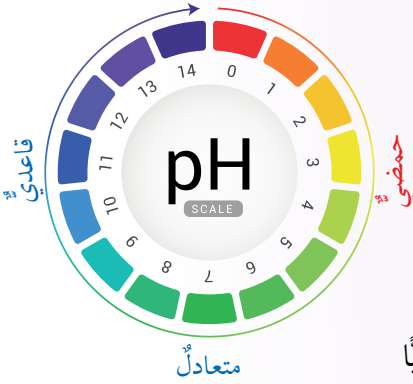
المواد والأدوات: محلول حمض الهيدروكلوريك HCl؛ تركيزه 0.1 M، محلول هيدروكسيد الصوديوم NaOH؛ تركيزه 0.1 M، أنابيب اختبار عدد 3، حامل أنابيب، أوراق الكاشف العام، مخبر مُدرَّج، ميزان حرارة، كأس زجاجية، ماء مقطر.

إرشادات السلامة:

- أتبع إرشادات السلامة العامة في المختبر.
- ارتدي معطف المختبر والنظارات الواقية والقفازات.
- أحذر استنشاق حمض الهيدروكلوريك، ولمس محلول هيدروكسيد الصوديوم.

خطوات العمل:

1 أقيس: أستخدم المخبر المُدرَّج في قياس 3 mL من محلول حمض الهيدروكلوريك، ثم أضعها في أنبوب اختبار وأرقمه (1).



- 2 أقيس** درجة حرارة المحلول باستخدام ميزان الحرارة، وأسجلها.
- 3 ألاحظ:** أغمس ورقة الكاشف العام في المحلول، وألاحظ تغير لونها، وأسجله.
- 4 أقيس:** أستخدم المخبر المُدرَّج في قياس 3 mL من محلول هيدروكسيد الصوديوم، ثم أضعها في أنبوب اختبار آخر وأرقمه (2).
- 5 أكرِّر** الخطين (2، 3) لمحلول هيدروكسيد الصوديوم، وأسجل النتائج.
- 6 أجرب:** أسكب محتويات الأنبوب (1) في كأس زجاجية، وأضيف إليها تدريجياً محلول هيدروكسيد الصوديوم من الأنبوب 2، ثم أكرِّر الخطين (2، 3) لمحتويات الكأس الزجاجية، وأسجل النتائج.

التحليل والاستنتاج:

- 1- أحدد التغير الذي يطرأ على لون ورقة الكاشف عند وضعها في محلول كل من حمض الهيدروكلوريك وهيدروكسيد الصوديوم.
- 2- أقدِّر الرِّفم الهيدروجيني (درجة الحموضة) لكل من المحلولين.
- 3- أفسِّر اختلاف درجة حرارة المحلول الناتج من خلط المحلولين عن درجة حرارة كل منهما.
- 4- أقدِّر الرِّفم الهيدروجيني للمحلول الناتج من خلط المحلولين في الكأس الزجاجية.

مفاهيم الحموض والقواعد Acid Base Concepts

توجد الحموض والقواعد في كثير من المواد الغذائية، فالحموض تعطي الأطعمة مذاقاً حامضاً أو لاذعاً، فالليمون والبرتقال تحتوي على حموض، مثل حمض الستريك الذي يكسبها الطعم الحمضي، أنظر الشكل (1). وتؤثر الحموض في الكواشف المختلفة. أمّا القواعد فتوجد أيضاً في كثير من المواد الغذائية، ومنها الخضراوات، مثل السبانخ، وبعض الفواكه، مثل المشمش، وتدخل القواعد في صناعة المنظفات، فمثلاً؛ يُستعمل هيدروكسيد الصوديوم في صناعة المنظفات المنزلية، وصناعة الصابون، انظر الشكل (2). وتتميز القواعد بطعمها المرّ، وملسها الزلق، وتأثيرها في الكواشف.

كيف عرّف الكيميائيون كلاً من الحمض والقاعدة؟ وكيف تطوّر مفهوم الحمض والقاعدة ليشملا أكبر عدد ممكن من المواد؟

مفهوم أرهينيوس Arrhenius Concept

تمكّن العالم أرهينيوس (Arrhenius) عن طريق دراسته التوصيل الكهربائي لمحاليل المواد الأيونية من وضع تصوّر حول مفهوم كل من الحمض والقاعدة، وقد عدّت هذه خطوة رائدة في مجال الكيمياء والتحليل الكيميائي. فما المقصود بالحمض عند أرهينيوس؟ وما المقصود بالقاعدة؟



الشكل (1): مواد تحتوي على الحموض.

الشكل (2): مواد تحتوي على القواعد.

الفكرة الرئيسة:

تتميز الحموض والقواعد في خصائصها الكيميائية والفيزيائية التي تُحدّد استخدامها، ويمكن تعريف الحمض والقاعدة بالاعتماد على نواتج تأينهما في الماء، أو انتقال أيون الهيدروجين بينهما، أو انتقال أزواج الإلكترونات غير الرابطة.

نتائج التعلم:

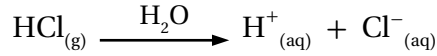
- أصف الحمض والقاعدة وفق مفهوم كل من أرهينيوس، وبرونستد-لوري، ولويس.
- أكتب معادلات كيميائية وفق مفهوم أرهينيوس، وبرونستد-لوري.
- أحدّد الأزواج المترافقة من الحمض والقاعدة.

المفاهيم والمصطلحات:

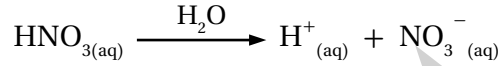
حمض أرهينيوس	Arrhenius Acid
قاعدة أرهينيوس	Arrhenius Base
أيون الهيدرونيوم	Hydronium Ion
حمض برونستد-لوري	Bronsted-Lowry Acid
قاعدة برونستد-لوري	Bronsted-Lowry Base
قاعدة مترافقة	Conjugate Base
حمض مرافق	Conjugate Acid
مواد أمفوتيرية	Amphoteric Substances
حمض لويس	Lewis Acid
قاعدة لويس	Lewis Base

حمض أرهينيوس Arrhenius Acid

توصّل أرهينيوس إلى أنّ الحمض Acid مادة تتأين في الماء وتنتج أيون الهيدروجين (H⁺). فمثلاً؛ عند إذابة غاز كلوريد الهيدروجين HCl في الماء ينتج أيون الهيدروجين H⁺ في المحلول، كما في المعادلة الآتية:

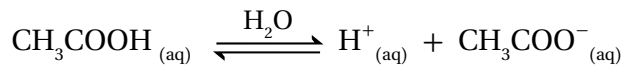


أما حمض النيتريك HNO₃، فيتأين في الماء مُنتِجاً أيون الهيدروجين H⁺، كما في المعادلة الآتية:



وهذا ينطبق على جميع حموض أرهينيوس؛ فهي تحتوي على ذرة هيدروجين أو أكثر، قابلة للتأين، ويبيّن الجدول (1) بعض حموض أرهينيوس.

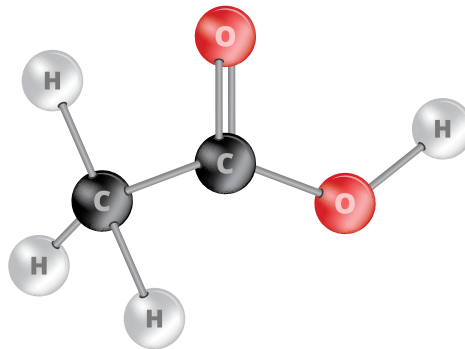
فبعض الحموض تحتوي على ذرة هيدروجين واحدة، مثل HCl، ويسمى حمضاً أحاديّ البروتون Monoprotic Acid، وبعضها يحتوي على ذرتي هيدروجين، مثل حمض الكبريتيك H₂SO₄، ويسمى حمضاً ثنائيّ البروتون Diprotic Acid، في حين يحتوي بعضها على ثلاث ذرات هيدروجين، مثل حمض الفسفوريك H₃PO₄، ويسمى حمضاً ثلاثيّ البروتون Triprotic Acid. وبالتدقيق في صيغة حمض الإيثانويك CH₃COOH، نجد أنه يحتوي ثلاث ذرات هيدروجين مرتبطة بذرة الكربون ليس لها القدرة على التأين؛ لأنّ الروابط بينها غير قطبيّة ممّا يمنع تأينها. أنظر الشكل (3) الذي يبيّن الشكل البنائي لحمض الإيثانويك، وهناك ذرة هيدروجين أخرى مرتبطة بذرة الأكسجين ذات الساليّة الكهربائيّة العالية، وهي الوحيدة التي تتأين في المحلول؛ ولذلك يُصنّف على أنه حمض أحاديّ البروتون، كما في المعادلة الآتية:



الجدول (1): بعض حموض أرهينيوس.

الصيغة الكيميائية	الحمض
HCl	الهيدروكلوريك
HNO ₃	النيتريك
H ₂ SO ₄	الكبريتيك
H ₃ PO ₄	الفسفوريك
CH ₃ COOH	الإيثانويك
H ₂ CO ₃	الكربونيك

الشكل (3): الشكل البنائي لحمض الإيثانويك.



الربط مع الزراعة حمض الكبريتيك H_2SO_4

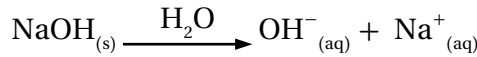


عرف العرب حمض الكبريتيك في القرن الثامن الميلادي؛ فقد اكتشفه العالم جابر بن حيان وأطلق عليه اسم زيت الزاج. يستخدم حمض الكبريتيك في المجال الزراعي لزيادة حموضة التربة، كما يستخدم لمعالجة ملوحتها، وفي تطهيرها من الفطريات.

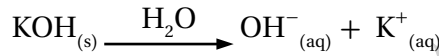


قاعدة أرهينيوس Arrhenius Base

عرّف أرهينيوس القاعدة Base أنها مادة تتأين في الماء وتنتج أيون الهيدروكسيد OH^- . فمثلاً، عند إذابة هيدروكسيد الصوديوم NaOH في الماء ينتج أيون الهيدروكسيد OH^- ، كما في المعادلة الآتية:



ويتأين هيدروكسيد البوتاسيوم KOH في الماء، كما في المعادلة الآتية:

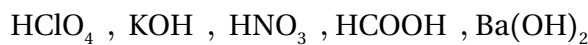


وينطبق ذلك -بشكل عام- على هيدروكسيدات فلزات المجموعتين الأولى والثانية من الجدول الدوري، ويبيّن الجدول (2) بعض قواعد أرهينيوس. يتضح من الجدول أنّ قواعد أرهينيوس كلّها تحتوي على أيون الهيدروكسيد، فبعضها يحتوي على أيون هيدروكسيد واحد، مثل هيدروكسيد الصوديوم NaOH، وبعضها يحتوي على أيون هيدروكسيد مثل هيدروكسيد الكالسيوم $Ca(OH)_2$. وستقتصر في دراستنا على الحموض أحادية البروتون والقواعد أحادية الهيدروكسيد.

رغم الإنجاز الكبير الذي حققه مفهوم أرهينيوس في مجال الكيمياء، فقد بقي محدوداً بسبب تناوله الحموض والقواعد في المحاليل المائية فقط، ولم يتمكّن من تفسير التأثير القاعدي لقواعد معروفة، مثل الأمونيا NH_3 ، ومن تفسير التأثير الحمضي أو القاعدي لمحاليل بعض الأملاح، مثل كلوريد الأمونيوم NH_4Cl الحمضي أو كربونات الصوديوم الهيدروجينية $NaHCO_3$ القاعدية.

✓ **أتحقّق:**

1- أصنّف المواد الآتية إلى حموض وقواعد وفق مفهوم أرهينيوس:



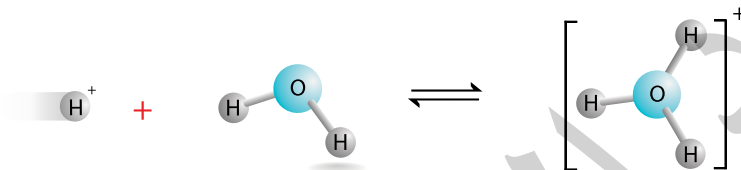
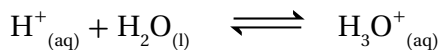
2- أكتب معادلة تبيّن التأثير القاعدي لمحلول هيدروكسيد الليثيوم LiOH.

الجدول (2): بعض قواعد أرهينيوس.

الصيغة الكيميائية	القاعدة
KOH	هيدروكسيد البوتاسيوم
LiOH	هيدروكسيد الليثيوم
NaOH	هيدروكسيد الصوديوم
$Ca(OH)_2$	هيدروكسيد الكالسيوم

أيون الهيدرونيوم Hydronium Ion

يتأين الحمض في الماء وينتج أيون الهيدروجين H^+ ، حيث يتكوّن من بروتون واحد فقط، وهو جسيم صغير جداً يحمل شحنة كهربائية عالية جداً (ذو كثافة كهربائية عالية) فلا يمكن أن يوجد منفرداً في المحلول؛ إذ يرتبط أيون الهيدروجين بجزيء ماء مكوناً أيون الهيدرونيوم **Hydronium Ion**، كما في المعادلة الآتية:

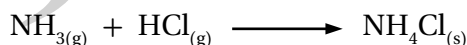
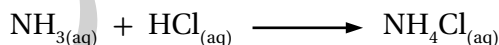


وبهذا يمكن التعبير عن أيون الهيدروجين في المحلول باستخدام أيون الهيدرونيوم H_3O^+ ، وبذلك تكتب معادلة تأين كلوريد الهيدروجين HCl كما في الآتي:

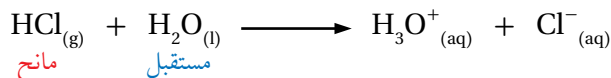


مفهوم برونستد - لوري Bronsted-Lowry Concept

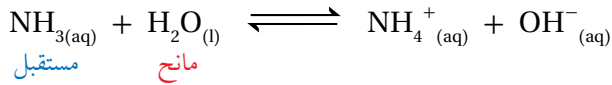
قدّم مفهوم أرهينيوس تفسيراً مقبولاً لسلوك كثير من الحموض والقواعد، إلا أنه لم يتمكن من تفسير كثير من تفاعلاتها، مثل تفاعل حمض الهيدروكلوريك HCl مع الأمونيا NH_3 الذي ينتج ملح كلوريد الأمونيوم NH_4Cl ، حيث يمثل تفاعل حمض مع قاعدة، سواء في المحاليل أو في الحالة الغازية، كما يأتي:




فالأمونيا NH_3 قاعدة لا تحتوي على أيون الهيدروكسيد؛ فدفع ذلك الكيميائيين إلى تطوير مفهومي الحمض والقاعدة؛ إذ تمكّن العالمان برونستد، ولوري من وضع تصوّر جديد لمفهومي الحمض والقاعدة بالاعتماد على انتقال البروتون H^+ (أيون الهيدروجين) من الحمض إلى القاعدة في أثناء التفاعل؛ وبذلك قدّم تعريفاً أكثر شمولاً لكل من الحمض والقاعدة، وعرفا **حمض برونستد-لوري Bronsted-Lowry Acid** أنه مادة يمكنها منح بروتون في أثناء التفاعل (مانح للبروتون)، أمّا **قاعدة برونستد-لوري Bronsted-Lowry Base** فهي مادة يمكنها استقبال بروتون في أثناء التفاعل (مستقبل للبروتون). فمثلاً، عند إذابة كلوريد الهيدروجين HCl في الماء فإنه يمنح البروتون (H^+) ويمثّل الحمض، بينما يستقبل الماء البروتون (H^+) ، ويمثّل القاعدة، والمعادلة الآتية توضّح ذلك:



أما عند إذابة الأمونيا NH_3 في الماء فإنها تستقبل البروتون (H^+) من الماء؛ وبهذا فإنها تمثل القاعدة، في حين يمثل الماء الحمض في التفاعل، كما في المعادلة الآتية:



وعند خلط محلول HCl مع محلول NH_3 ينتقل البروتون (H^+) من HCl، الذي يمثل الحمض في التفاعل، إلى NH_3 ، التي تمثل القاعدة، والمعادلة الآتية توضِّح ذلك:



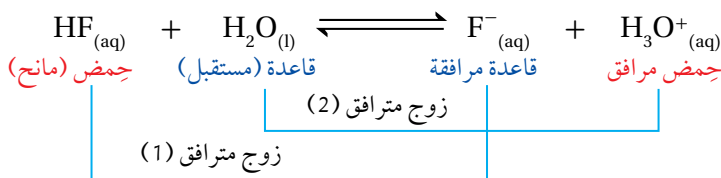
وبهذا يمكن النظر إلى التفاعلات التي يحدث فيها انتقال للبروتون على أنها تفاعلات حمض وقاعدة.

الأزواج المترافقة Conjugated Pairs

فسر مفهوم برونستد-لوري كثيرًا من تفاعلات الحموض والقواعد بالاعتماد على انتقال البروتون من الحمض إلى القاعدة في التفاعل. فمثلاً، يتفاعل الحمض HCl مع محلول القاعدة CH_3NH_2 ، كما في المعادلة الآتية:

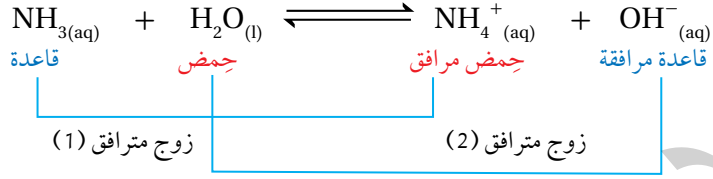


يتضح من المعادلة أن الحمض HCl يمنح البروتون H^+ ، ويُنتج الأيون Cl^- ، الذي يسمى **قاعدة مرافقة Conjugate Base**، وهي المادة الناتجة عن منح الحمض للبروتون، كما تستقبل القاعدة CH_3NH_2 البروتون H^+ ، وينتج عن ذلك الأيون CH_3NH_3^+ ، ويسمى **الحمض المرافق Conjugate Acid**، وهي المادة الناتجة عن استقبال القاعدة للبروتون؛ وبهذا يكون لكل حمض في التفاعل قاعدة مرافقة في المواد الناتجة، ولكل قاعدة في التفاعل حمض مرافق في المواد الناتجة، ويسمى الحمض وقاعدته المرافقة، أو القاعدة وحمضها المرافق، زوجًا مترافقًا ويمكن ملاحظة ذلك أيضًا عند تفاعل حمض الهيدروفلوريك مع الماء، كما في المعادلة الآتية:



أصمّم، باستخدام برنامج سكراتش (Scratch)، عرضاً يوضِّح مفهوم الحمض والقاعدة والأزواج المترافقة وفق مفهوم برونستد-لوري، ثمَّ أشاركه زملائي/زميلاتي في الصفِّ.

يَتَّضِحُ أَنَّ التَّفَاعُلَ يَشْتَمِلُ عَلَى زَوْجَيْنِ مَتْرَافِقَيْنِ، هُمَا: الِجَمِضُ وَقَاعِدَتُهُ المَرِافِقَةُ (HF\F⁻)، والقاعدة وحمضها المرافق (H₂O\H₃O⁺). ويشتمل تفاعل الأمونيا NH₃ مع الماء على زوجين مترافقين أيضًا، كما يتضح في المعادلة الآتية:

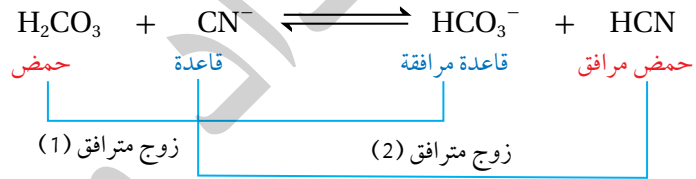


الرَّيْبُ مَعَ الْحَيَاةِ

إزالة رائحة السمك
ثلاثي ميثيل الأمين (CH₃)₃N. هو مركب عضوي قاعدي، يتميز برائحته القوية واللاذعة «السمكية». عندما تعصر عصير الليمون، الذي يحتوي على حمض الستريك C₆H₈O₇، على السمك؛ يتفاعل مع ثلاثي ميثيل الأمين لإنتاج ملح؛ يؤدي تكوين هذا الملح إلى تقليل الرائحة السمكية. من الناحية الكيميائية، يمنح حمض الستريك البروتون إلى ثلاثي ميثيل الأمين؛ مما يحوله إلى ملح (CH₃)₃NH⁺ أقل تطايرًا.

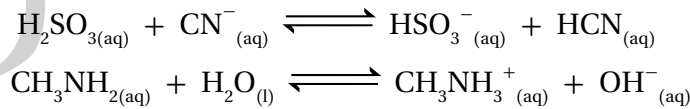


يَتَّضِحُ أَنَّ التَّفَاعُلَ يَشْتَمِلُ عَلَى زَوْجَيْنِ مَتْرَافِقَيْنِ، هُمَا: القاعدة وحمضها المرافق (NH₃\NH₄⁺)، والحمض وقاعدته المرافقة (H₂O\OH⁻)؛ وبهذا فإنَّ التفاعل وفق مفهوم برونستد-لوري يحتوي على زوجين مترافقين: الِجَمِضُ وَقَاعِدَتُهُ المَرِافِقَةُ، والقاعدة وحمضها المرافق. ويشتمل تفاعل حمض H₂CO₃ مع القاعدة CN⁻ على زوجين مترافقين، كما يتضح من المعادلة:



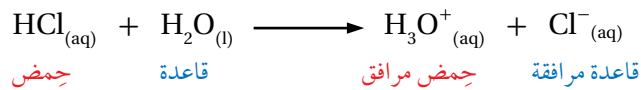
ألاحظ أن الحمض H₂CO₃ منح بروتونًا واحدًا للقاعدة CN⁻؛ فيكون زوجًا مترافقًا من الحمض وقاعدته المرافقة، و (H₂CO₃/HCO₃⁻) و (CN⁻/HCN) زوجًا مترافقًا من القاعدة وحمضها المرافق.

✓ **أتحقق:** أحدد الزوجين المترافقين في كلِّ من التفاعلين الآتيين:

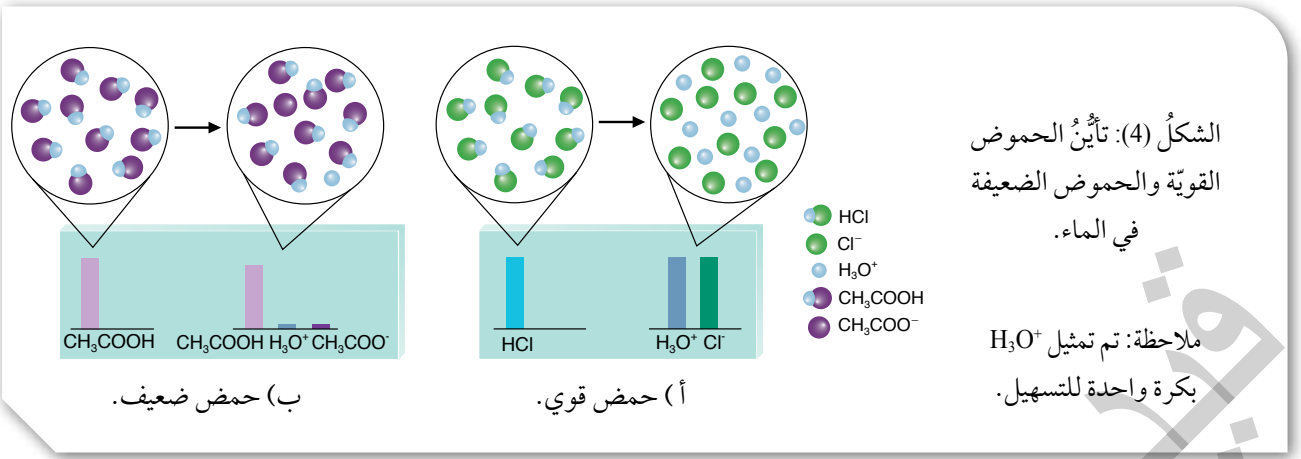


قُوَّةُ الْجَمِضِ وَالْقَاعِدَةِ Acid and Base Strength

ترتبط قُوَّةُ الْجَمِضِ بقدرته على التأيُّن ومنح البروتون؛ فالجَمِضُ القويُّ يتأَيَّنُ كَلِيًّا فِي المَحْلُولِ، ويتجه التفاعل نحو تكوين المواد الناتجة. فمثلاً؛ يتأَيَّنُ الْجَمِضُ HCl فِي المَاءِ كَلِيًّا، كما فِي المَعَادِلَةِ الآتِيَةِ:

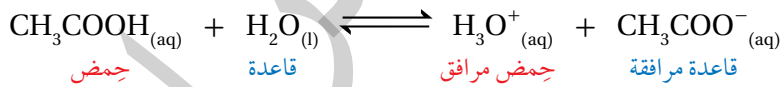


يَتَّضِحُ مِنَ المَعَادِلَةِ أَنَّ HCl فِي المَحْلُولِ يَسْلُكُ سَلْوَكَ الْجَمِضِ، بَيْنَمَا يَسْلُكُ



الماء H_2O سلوك القاعدة؛ فإذا افترضنا حدوث تفاعل عكسي فإنّ الأيون Cl^- يسلك كقاعدة، بينما يسلك H_3O^+ سلوك الحمض. وبما أنّ التفاعل يتجه كلياً نحو تكوين المواد الناتجة؛ فإنّ ذلك يشير إلى أنّ الحمض HCl أكثر قدرة على منح البروتون من الحمض H_3O^+ ، وأنه أقوى من الحمض H_3O^+ ، كما يشير إلى أنّ القاعدة Cl^- أقل قدرة على استقبال البروتون من القاعدة H_2O ، وبذلك يكون H_2O قاعدة أقوى من Cl^- في التفاعل؛ وبهذا نجد أنّ الحمض والقاعدة في جهة المواد المتفاعلة أقوى من الحمض والقاعدة في جهة المواد الناتجة، وأنّ التفاعل يتجه نحو تكوين المواد الناتجة أنظر الشكل: (4/4)؛ فيشير ذلك إلى عدم حدوث تفاعل عكسي؛ ولذلك يُعبّر عن التفاعل بسهم باتجاه واحد، كما ورد في المعادلة.

أمّا الحموض الضعيفة فتتأين جزئياً في المحلول، ويكون التفاعل منعكساً. فمثلاً، يتأين حمض الإيثانويك CH_3COOH في الماء بدرجة ضئيلة، كما في المعادلة الآتية:



تشير درجة التأين الضئيلة للحمض CH_3COOH إلى أنّ تركيزه في المحلول يكون عالياً مقارنةً بتركيز الحمض H_3O^+ ، أنظر الشكل (4/ب)؛ فيعني ذلك أنّ الحمض CH_3COOH أقل قدرة على منح البروتون من الحمض H_3O^+ ؛ وبهذا يكون الحمض CH_3COOH أضعف من الحمض H_3O^+ ، كما نجد أنّ القاعدة CH_3COO^- أكثر قدرة على استقبال البروتون من القاعدة H_2O في المحلول؛ وبهذا تكون القاعدة CH_3COO^- أقوى من القاعدة H_2O ، وهذا يُفسّر حدوث التفاعل العكسي.

يتضح ممّا سبق أنّ الحمض القوي HCl تكون قاعدته المرافقة Cl^- ضعيفة نسبياً، وأنّ الحمض الضعيف CH_3COOH تكون قاعدته المرافقة CH_3COO^- قوية نسبياً، وكلّما زادت قوة الحمض قلت قوة القاعدة المرافقة الناتجة عنه،

وأنَّ التفاعل يَتَّجِه نحو تكوين الموادِّ الأضعف؛ أي أنَّ موضع الاتزان يُزاح جهة الموادِّ الأضعف في التفاعل، ويبيِّن الجدول (3) العلاقة بين قوَّة الحموض وقوَّة قواعدها المرافقة. وينطبق ذلك على القواعد الضعيفة وحموضها المرافقة، فالقاعدة الأقوى يكون حمُّضها المرافق أضعف، وكلِّما زادت قوَّة القاعدة قلَّت قوَّة الحمِّض المرافق الناتج عنها.

الجدول (3): العلاقة بين قوَّة الحموض وقوَّة قواعدها المرافقة.

القاعدة	الحمِّض
ClO_4^-	HClO_4
HSO_4^-	H_2SO_4
I^-	HI
Br^-	HBr
Cl^-	HCl
NO_3^-	HNO_3
H_2O	H_3O^+
HSO_3^-	H_2SO_3
H_2PO_4^-	H_3PO_4
NO_2^-	HNO_2
CH_3COO^-	CH_3COOH
HCO_3^-	H_2CO_3
HS^-	H_2S
ClO^-	HClO
BrO^-	HBrO
NH_3	NH_4^+
CN^-	HCN
OH^-	H_2O

الجدول للاطلاع؛ ليس للحفظ.

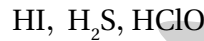
✓ **أنحَقِّق:** أكتبُ معادلتين كيميائيتين أوَّصِّحُ فيهما سلوك الأيون HCO_3^- مع كلِّ من OH^- و HNO_2 .

✓ **أنحَقِّق:** اعتماداً على الجدول (3)؛ أجب عن الأسئلة الآتية:

1- أحدِّد الحمِّض الأقوى بين الحموض الآتية:



2- أحدِّد أيَّ الحموض الآتية تكون قاعدته المرافقة هي الأقوى:

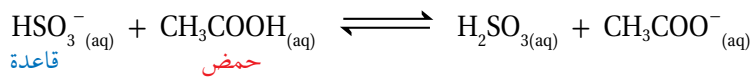


3- أحدِّد الجهة التي يُزاح نحوها الاتزان في التفاعل الآتي:

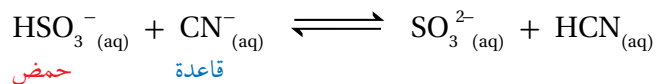


الموادُّ الأمفوتيريَّة: Amphoteric Substances

يتأثر سلوك المادَّة كحمِّض أو قاعدة وفق مفهوم برونستد - لوري؛ تبعاً لطبيعة المواد التي تتفاعل معها وقدرتها على منح البروتون أو استقبله، فبعض المواد تسلك كحمِّض في تفاعل وتسلك كقاعدة في تفاعل آخر، وتسمَّى موادَّ أمفوتيريَّة أو مُتردِّدة **Amphoteric Substance**؛ فمثلاً الماء في التفاعلات السابقة يسلك كقاعدة في تفاعله مع الحموض، مثل حمِّض الهيدروكلوريك HCl ، ويسلك كحمِّض في تفاعله مع القواعد، مثل تفاعله مع الأمونيا NH_3 ؛ وبهذا يُعدُّ الماء مادَّة أمفوتيريَّة. وهناك الكثير من الأيونات السالبة المحتوية على الهيدروجين والقادرة على منحه في التفاعل تسلك سلوكاً أمفوتيريّاً، مثل الأيونات: HS^- ، H_2PO_4^- ، HCO_3^- ، HSO_3^- ، وتُستثنى من ذلك أيونات OH^- ، وأيونات الكربوكسيل، مثل: HCOO^- و CH_3COO^- . فمثلاً؛ يسلك الأيون HSO_3^- سلوك القاعدة عند تفاعله مع حمِّض الإيثانويك CH_3COOH ، كما في المعادلة الآتية:



ويسلك أيضاً سلوك الحمِّض عند تفاعله مع قاعدة، مثل CN^- ، فهو يمنح البروتون H^+ إلى أيون CN^- في أثناء التفاعل؛ وبهذا فإنَّ أيون CN^- يمثِّل القاعدة في التفاعل، والمعادلة الآتية توضِّح ذلك:

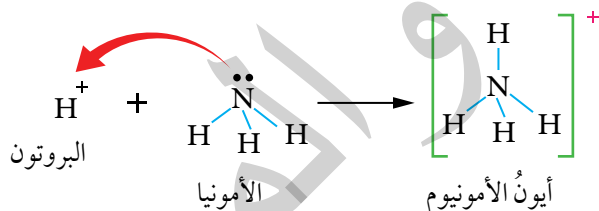


مفهوم لويس Lewis Concept

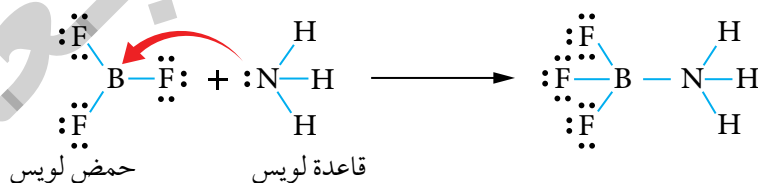
فسّر مفهوم برونستد-لوري سلوك الحمض والقاعدة بالاعتماد على انتقال البروتون (H^+) من الحمض إلى القاعدة، إلا أنه لم يوضح كيفية ارتباط البروتون بالقاعدة، كما أن هناك الكثير من تفاعلات حمض - قاعدة لا تشتمل على انتقال للبروتون، مثل تفاعل بعض الأيونات الفلزية مع الماء أو الأمونيا مثلاً. فكيف يمكن تفسير سلوك هذه المواد؟

درس لويس Lewis تفاعلات الحموض والقواعد التي لا تشتمل على انتقال للبروتون، ووضع تصوّرًا جديدًا لمفهوم الحمض والقاعدة بالاعتماد على انتقال أزواج الإلكترونات من القاعدة إلى الحمض؛ ويعرّف حمض لويس Lewis Acid بأنه مادة يمكنها استقبال زوج أو أكثر من الإلكترونات في أثناء التفاعل، أما قاعدة لويس Lewis Base فهي مادة يمكنها منح زوج من الإلكترونات في أثناء التفاعل.

ساعد هذا المفهوم على تفسير تكوين الرابطة في تفاعل الحمض HCl مع القاعدة NH_3 ؛ فأيون الهيدروجين H^+ (البروتون) الناتج من تأين الحمض يمتلك فلكًا فارغًا، بينما تمتلك ذرة النيتروجين في الأمونيا NH_3 زوجًا غير رابط من الإلكترونات، وعند انتقال البروتون H^+ إلى الأمونيا NH_3 ؛ فإنه يستقبل زوج إلكترونات غير رابط في ذرة النيتروجين، ويرتبط به، فتنشأ رابطة تناسقية، ويتكوّن أيون الأمونيوم موجب الشحنة NH_4^+ . ويمكن تمثيل التفاعل الحاصل بينهما على النحو الآتي:

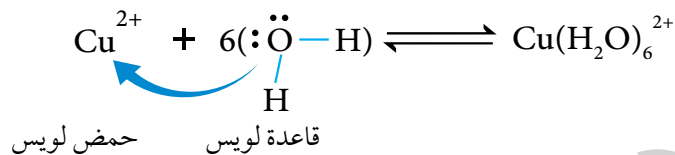


يتضح ممّا سبق أنّ مفهوم لويس استخدم في تفسير تفاعلات حمض - قاعدة التي ينطبق عليها مفهوم برونستد-لوري، وتفاعلات أخرى لا ينطبق عليها مفهوم برونستد - لوري، مثل: تفاعل الأمونيا NH_3 مع ثلاثي فلوريد البورون BF_3 ، الذي يعبر عنه بالمعادلة الآتية:



ذرة النيتروجين N تمتلك زوج إلكترونات غير رابط في NH_3 يمكنها منحه؛ وبهذا فإنّ NH_3 تمثل القاعدة، في حين أنّ لدى ذرة البورون B في BF_3 فلكًا فارغًا يمكنها من استقبال زوج من الإلكترونات؛ وبهذا فإنّ BF_3 يمثل الحمض.

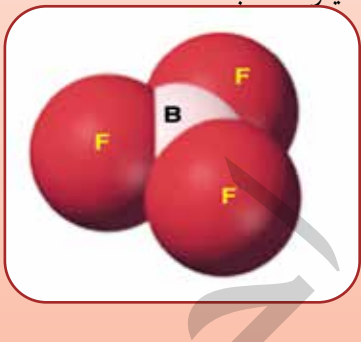
كما تمكّن لويس من تفسير تكوين الأيونات المعقدة التي تنتج من تفاعل أيونات بعض الفلزّات مع جزيئات مثل H_2O أو NH_3 أو مع أيونات أخرى مثل CN^- . فمثلاً، يتفاعل أيون Cu^{2+} مع الماء H_2O لتكوين الأيون $Cu(H_2O)_6^{2+}$ ، كما في المعادلة الآتية:



الربط مع الصناعة

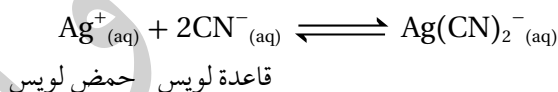


ثلاثي فلوريد البورون BF_3 يُحصّرُ صناعياً بطرقٍ عدّة، منها تسخين البورون مع معدن الفلوريت CaF_2 بوجود حمض الكبريتيك، ويصنع منه ما بين 2300 إلى 4500 طن سنوياً، وهو غازٌ سامٌ عديم اللون يُستخدَمُ في تحفيز العديد من التفاعلات العضوية وتحفيز عمليات البلمرة للمركّبات العضوية غير المشبعة.



حيث يمتلك أيون النحاس Cu^{2+} أفلاكاً فارغة؛ ولذلك يمكنه استقبال زوج أو أكثر من الإلكترونات من الماء؛ وبهذا فهو يمثل الحمض في التفاعل، أمّا جزيء الماء H_2O فتمتلك ذرّة الأكسجين فيه زوجين غير رابطيين من الإلكترونات يمكنها منح أحدهما لأيون النحاس Cu^{2+} ؛ وبهذا فالماء يمثل القاعدة في التفاعل؛ لذا يرتبط أيون النحاس Cu^{2+} عن طريق أفلاكه الفارغة بعدد من جزيئات الماء عن طريق أزواج الإلكترونات غير الرابطة بروابط تناسقية مكوناً الأيون $Cu(H_2O)_6^{2+}$.

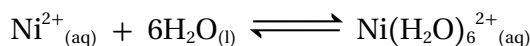
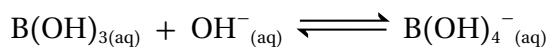
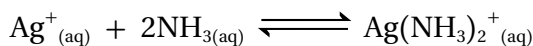
وكذلك يمكن تفسير تفاعل أيون الفضة (Ag^+) مع أيونات السيانيد CN^- لتكوين الأيون $Ag(CN)_2^-$ ، كما في المعادلة الآتية:



فأيون الفضة الموجب يمتلك أفلاكاً فارغة، بينما يمتلك أيون السيانيد السالب CN^- أزواج إلكترونات غير رابطة؛ وبهذا فإن أيون الفضة Ag^+ يستقبل أزواج الإلكترونات ويمثل حمض لويس في التفاعل، في حين أنّ كلّ أيون سيانيد CN^- يمنح أيون الفضة زوج إلكترونات غير رابط ويمثل قاعدة لويس في التفاعل.

✓ **أنتحقّق:**

أحدّد الحمض والقاعدة حسب مفهوم لويس في كلّ من التفاعلات الآتية:



التجربة 1

مقارنة قوة الحموض

المواد والأدوات:

محلول حمض الهيدروكلوريك HCl؛ تركيزه 0.1 M، محلول حمض الإيثانويك CH_3COOH ؛ تركيزه 0.1 M، كأس زجاجية سعة 50 mL عدد 2، أسلاك توصيل، جهاز أميتر، مصدر كهربائي، مخبر مُدرّج سعة 50 mL، جهاز مقياس الرقم الهيدروجيني أو أوراق الكاشف العام، شريط مغنيسيوم Mg، أقطاب جرافيت.

إرشادات السلامة:

- أتبع إرشادات السلامة العامة في المختبر.
- ارتدي معطف المختبر والنظارات الواقية والقفازات.
- أحذر استنشاق حمض الهيدروكلوريك.

خطوات العمل:

- 1- أحضر الكأسين الزجاجيين، وأكتب على كل منهما اسم أحد المحلولين.
- 2- **أقِسْ** باستخدام المخبر المُدرّج 20 mL من محلول HCl، وأضعها في الكأس المخصصة لها.
- 3- **أقِسْ** باستخدام جهاز مقياس الرقم الهيدروجيني أو ورق الكاشف العام الرقم الهيدروجيني للمحلول، وأُسجِلْ نتائجي.
- 4- **أجْرِبْ**: أوصل أقطاب الجرافيت بالمصدر الكهربائي وبجهاز الأميتر، وأضعها في محلول HCl، وأُسجِلْ قراءة الأميتر.
- 5- **ألاحظ**: أغمس شريط مغنيسيوم طوله 2 cm في المحلول، وألاحظ سرعة تصاعد غاز الهيدروجين، وأُسجِلْ ملاحظاتي.
- 6- **أجْرِبْ**: أكرّر الخطوات السابقة لمحلول حمض الإيثانويك CH_3COOH ، وأُسجِلْ ملاحظاتي.

التحليل والاستنتاج:

1. أهدد الرقم الهيدروجيني لكل من المحلولين.
2. أهدد المحلول الأكثر قدرة على التوصيل الكهربائي.
3. **أقارن** سرعة تصاعد غاز الهيدروجين في كل من المحلولين.
4. أهدد الحمض الأقوى والحمض الأضعف.
5. **أستنتج** العلاقة بين قوة الحمض وكل من الرقم الهيدروجيني والتوصيل الكهربائي وسرعة تصاعد الغاز.

مراجعةُ الدرس

1. الفكرة الرئيسة: أكمل الجدول الآتي باستخدام الأسس التي اعتمد عليها مفهوم الحمض والقاعدة:

المفهوم	الأساس الذي يقوم عليه المفهوم
أرهينوس	
برونستد - لوري	
لويس	

2. أوضِّح المقصود بكل مما يأتي:

- حمض أرهينوس.
- حمض برونستد-لوري.
- قاعدة لويس.
- مادة أمفوتيريّة.

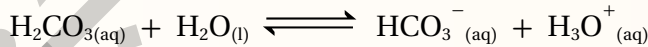
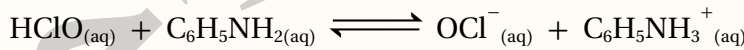
3. أفسِّر:

- السلوك الحمضي لمحلول حمض HClO حسب مفهوم أرهينوس.
- السلوك القاعدي لمحلول C₂H₅NH₂ حسب مفهوم برونستد - لوري.
- يعدُّ الحمض HBr حمضًا قويًا بينما يعدُّ HNO₂ حمضًا ضعيفًا.


4. أصنِّف المحاليل الآتية إلى حموض وقواعد قوية أو ضعيفة:



5. أحدد الأزواج المترافقة في التفاعلين الآتيين:



6. أحدد الحمض والقاعدة وفق مفهوم لويس في المعادلة الآتية:



7. أفسِّر السلوك الأمفوتيري للأيون H₂PO₄⁻ عند تفاعله مع كل من HNO₃ و CN⁻، موضحًا إجابتني بالمعادلات.

8. أختار الاجابة الصحيحة لكل فقرة مما يأتي:

1. تُعد الأمونيا NH_3 قاعدة عند تفاعلها مع الماء وفق مفهوم برونستد- لوري لأنها:

أ . تستقبل بروتون. ب. تمنح بروتون. ج. تستقبل OH^- . د . تمنح OH^- .

2. الأيون الذي يُمثل القاعدة المرافقة الأقوى فيما يأتي:

أ . Cl^- . ب. NO_3^- . ج. CN^- . د . ClO_4^- .

3. أحد الآتية زوج مترافق ينتج من تفاعل N_2H_4 مع NH_4^+ ، وهو:

أ . $\text{N}_2\text{H}_4/\text{NH}_4^+$. ب. $\text{N}_2\text{H}_5^+/\text{NH}_3$. ج. $\text{N}_2\text{H}_4/\text{N}_2\text{H}_5^+$. د . $\text{N}_2\text{H}_5^+/\text{NH}_4^+$.

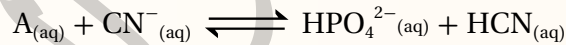
4. يسلك الأيون HS^- سلوكًا حمضيًا عند تفاعله مع:

أ . HF . ب. HCOOH . ج. OH^- . د . NH_4^+ .

5. لم يستطع أرهينوس تفسير السلوك الحمضي لـ:

أ . HCN . ب. HClO . ج. HI . د . NH_4Cl .

6. في التفاعل الآتي؛ تكون الصيغة الكيميائية لـ A هي:



أ . H_3PO_4 . ب. H_2PO_4^- . ج. $\text{H}_2\text{PO}_4^{2-}$. د . PO_4^{3-} .

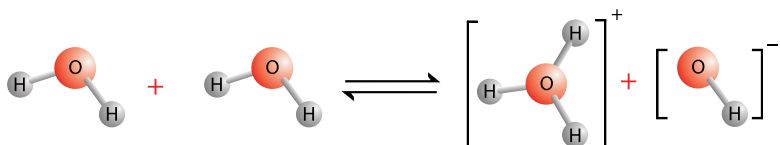
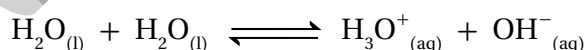
محاليل الحموض والقواعد القويّة

Strong Acids and Bases Solutions

تحتوي المحاليل المائيّة على أيونات الهيدرونيوم H_3O^+ وأيونات الهيدروكسيد OH^- الناتجة من التأيّن الذاتي للماء، وقد عرفنا في ما سبق أنّ إذابة الحمض في الماء تُنتج أيونات الهيدرونيوم H_3O^+ ، وأنّ إذابة القاعدة في الماء تُنتج أيونات الهيدروكسيد OH^- . فما المقصود بالتأيّن الذاتي للماء؟ وما العلاقة بين تراكيز أيونات الهيدرونيوم وأيونات الهيدروكسيد في المحلول المائي؟ وكيف يمكن حساب تراكيز هذه الأيونات في المحلول؟

التأيّن الذاتي للماء Autoionization of Water

يُوصف الماء النقي بأنه غير موصل للتيار الكهربائي؛ إلا أنّ القياسات الدقيقة للموصليّة الكهربائيّة تشير إلى أنه يمكن للماء أن يوصل التيار الكهربائي بدرجة ضئيلة جدًّا؛ فيشير ذلك إلى أنه يحتوي نسبة ضئيلة من الأيونات الناتجة من تفاعل جزيئات الماء في ما بينها؛ إذ يمكن لجزيء الماء أن يمنح البروتون ويتحوّل إلى أيون الهيدروكسيد OH^- ؛ وبهذا فهو يسلك سلوك الحمض، في حين يستقبله جزيء ماء آخر ويتكوّن أيون الهيدرونيوم H_3O^+ ؛ وبهذا فهو يسلك سلوك القاعدة. وعليه، فنجد أنّ الماء يحتوي على تراكيز متساوية من أيونات الهيدرونيوم وأيونات الهيدروكسيد OH^- ، ويُطلق على هذا السلوك التأيّن الذاتي للماء **Autoionization of Water**، وهو أنّ بعض جزيئات الماء تسلك كحموض وبعضها الآخر يسلك كقواعد في الماء نفسه، والمعادلة الآتية توضّح ذلك:



الفكرة الرئيسيّة:

تحتوي المحاليل المائيّة على أيونات الهيدرونيوم وأيونات الهيدروكسيد، ويمكن التعبير عن درجة حموضة المحلول pH أو درجة قاعدية pOH بالاعتماد على تراكيز هذه الأيونات فيه.

نتائج التعلّم:

- أوضح المقصود بالتأيّن الذاتي للماء.
- أستنتج العلاقة بين تركيز كلٍّ من H_3O^+ و OH^- في المحلول.
- أجري حسابات تتعلق بالرّقم الهيدروجيني والرّقم الهيدروكسيلي في المحلول.

المفاهيم والمصطلحات:

التأيّن الذاتي للماء

Autoionization of Water

ثابت تأيّن الماء

Dissociation Constant for Water

الرّقم الهيدروجيني pH

Hydrogen Power

الرّقم الهيدروكسيلي pOH

Hydroxyl Power

Indicator

الكاشف

وقد وُجد أنَّ تراكيز هذه الأيونات صغير جداً، ويمكن حسابها باستخدام ثابت الاتزان للتفاعل على النحو الآتي:

$$K_{eq} = \frac{[H_3O^+][OH^-]}{[H_2O][H_2O]}$$

$$K_c = K_{eq}[H_2O]^2 = [H_3O^+][OH^-]$$

ونظراً إلى أنَّ تأين الماء قليل جداً نفترض أنَّ تركيز الماء يبقى ثابتاً؛ ويمكن دمجه مع ثابت الاتزان، ويُعبَّر عنه بثابت جديد يسمَّى **ثابت تأين الماء** **Dissociation Constant for Water**، ويُرمَّز له K_w ، ويُعرَّف أنه ثابت الاتزان لتأين الماء، وقد وُجد أنه يساوي 1×10^{-14} عند درجة حرارة $25^\circ C$ ، ويُعبَّر عنه على النحو الآتي:

$$K_w = [H_3O^+][OH^-] = 1 \times 10^{-14}$$

ونظراً إلى أنَّ تركيز أيونات H_3O^+ يكون مساوياً لتركيز أيونات OH^- في الماء؛ فإنه:

$$[H_3O^+] = [OH^-] = 1 \times 10^{-7} M$$

يرتبط أيون H_3O^+ بمفهوم الحمض، بينما يرتبط أيون OH^- بمفهوم القاعدة، ويمكن تصنيف المحاليل تبعاً لتراكيز هذه الأيونات إلى محاليل حمضية أو قاعدية أو متعادلة، كما يبيِّن الجدول (4).
يستفاد من ثابت تأين الماء في حساب تراكيز أيونات H_3O^+ أو أيونات OH^- عندما يكون تركيز أحدهما معروفاً.

الجدول (4): تصنيف المحاليل تبعاً لتركيز أيونات H_3O^+ و OH^- .

المحلول	$[H_3O^+]$	$[OH^-]$
المتعادل	1×10^{-7}	1×10^{-7}
الحمضي	أكبر من 1×10^{-7}	أقل من 1×10^{-7}
القاعدي	أقل من 1×10^{-7}	أكبر من 1×10^{-7}

المثال 1

أحسب تركيز H_3O^+ في محلول يحتوي أيونات OH^- ، تركيزها؛ $1 \times 10^{-3} \text{ M}$ (علمًا أن $K_w = 1 \times 10^{-14}$).

تحليل السؤال:

$$[\text{OH}^-] = 1 \times 10^{-3} \text{ M}$$

$$K_w = [\text{H}_3\text{O}^+][\text{OH}^-] = 1 \times 10^{-14}$$

المطلوب: حساب تركيز H_3O^+

الحل:

$$K_w = [\text{H}_3\text{O}^+][\text{OH}^-] = 1 \times 10^{-14}$$

$$[\text{H}_3\text{O}^+] = \frac{K_w}{[\text{OH}^-]} = \frac{1 \times 10^{-14}}{1 \times 10^{-3}} = 1 \times 10^{-11} \text{ M}$$

المثال 2

أحسب تركيز OH^- في محلول يحتوي أيونات H_3O^+ ، تركيزها؛ $1 \times 10^{-9} \text{ M}$ (علمًا أن $K_w = 1 \times 10^{-14}$).

تحليل السؤال:

$$[\text{H}_3\text{O}^+] = 1 \times 10^{-9} \text{ M}$$

$$K_w = [\text{H}_3\text{O}^+][\text{OH}^-] = 1 \times 10^{-14}$$

المطلوب: حساب تركيز OH^-

الحل:

$$K_w = [\text{H}_3\text{O}^+][\text{OH}^-] = 1 \times 10^{-14}$$

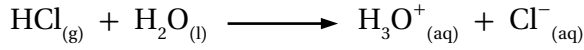
$$[\text{OH}^-] = \frac{K_w}{[\text{H}_3\text{O}^+]} = \frac{1 \times 10^{-14}}{1 \times 10^{-9}} = 1 \times 10^{-5} \text{ M}$$

✓ **أتحقق:** يبين الجدول الآتي تركيز H_3O^+ أو تركيز OH^- لثلاثة محاليل. أكمل الفراغات في الجدول بما يناسبها:

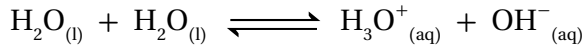
المحلول	$[\text{H}_3\text{O}^+]$	$[\text{OH}^-]$	تصنيف المحلول
المحلول الأول	$1 \times 10^{-2} \text{ M}$		
المحلول الثاني		$1 \times 10^{-7} \text{ M}$	
المحلول الثالث		$1 \times 10^{-4} \text{ M}$	

محاليل الحموض القوية Strong Acid Solutions

ترتبط قوة الحمض بقدرته على التأين ومنح البروتون في التفاعل، فعند إذابة الحمض في الماء يتأين ويُنتج أيون الهيدرونيوم H_3O^+ وأيونا آخر سالبًا. فمثلاً؛ عند إذابة 0.1 mol من الحمض HCl في 1 L من الماء يتأين كلياً؛ فيؤدي إلى زيادة تركيز أيونات H_3O^+ ، كما في المعادلة الآتية:



ولمّا كان الماء يحتوي على أيونات الهيدرونيوم H_3O^+ وأيونات الهيدروكسيد OH^- في حالة اتزان مع جزيئات الماء غير المتأينة، كما يتضح من معادلة التأين الذاتي للماء:



فإنّ موضع الاتزان في الماء يُزاح -وفقاً لمبدأ لوتشاتلييه- نحو اليسار؛ وبذلك يقلُّ تركيز أيونات OH^- ، ويبقى ثابتُ تأين الماء K_w ثابتاً. ونظراً إلى أنّ تركيز أيونات H_3O^+ الناتجة من التأين الذاتي للماء يكون صغيراً جداً مقارنة بتركيزها الناتج من تأين الحمض القوي؛ فيُهمل، ويُعدُّ الحمض المصدر الرئيس لهذه الأيونات، ويكون تركيزها في المحلول مساوياً لتركيز الحمض؛ أي أنّ:

$$[H_3O^+] = [\text{Acid}]$$

$$[H_3O^+] = [HCl] = 1 \times 10^{-1} \text{ M}$$

ويمكن حساب تركيز أيونات OH^- في المحلول باستخدام ثابت تأين الماء K_w ، كما يأتي:

$$[OH^-] = \frac{K_w}{[H_3O^+]} = \frac{1 \times 10^{-14}}{1 \times 10^{-1}} = 1 \times 10^{-13} \text{ M}$$

يتضح ممّا سبق أنّ إضافة حمض قوي إلى الماء يؤدي إلى تكوين محلول حمضي يكون فيه تركيز H_3O^+ أكبر من تركيز أيونات OH^- ، ويبين الجدول (5) أشهر الحموض القوية، والأمثلة الآتية توضّح كيفية حساب تركيز أيونات H_3O^+ وتركيز أيونات OH^- في محلول حمض قوي.

الجدول (5): أشهر الحموض القوية.

صيغته الكيميائية	اسم الحمض
$HClO_4$	البيركلوريك
HI	الهيدرويوديك
HBr	الهيدروبروميك
HCl	الهيدروكلوريك
HNO_3	النيتريك

المثال 3


أحسب تركيز H_3O^+ وتركيز OH^- في محلول حمض الهيدروبروميك HBr الذي تركيزه $1 \times 10^{-3} \text{ M}$

تحليل السؤال:

$$[\text{HBr}] = 1 \times 10^{-3} \text{ M}$$

المطلوب: أحسب تركيز H_3O^+ وتركيز OH^-

الحل:



$$[\text{H}_3\text{O}^+] = [\text{HBr}]$$

$$[\text{H}_3\text{O}^+] = 1 \times 10^{-3} \text{ M}$$

$$K_w = [\text{H}_3\text{O}^+][\text{OH}^-] = 1 \times 10^{-14}$$

$$[\text{OH}^-] = \frac{K_w}{[\text{H}_3\text{O}^+]} = \frac{1 \times 10^{-14}}{1 \times 10^{-3}} = 1 \times 10^{-11} \text{ M}$$

معادلة تأيّن الحمض

المثال 4

أحسب تركيز H_3O^+ وتركيز OH^- في محلول جرى تحضيره بإذابة 0.02 mol من حمض البيركلوريك HClO_4 في 400 mL من الماء.


تحليل السؤال:

$$0.02 \text{ mol} = \text{HClO}_4 (n)$$

$$0.4 \text{ L} = 400 \text{ mL} = (v)$$

المطلوب: حساب تركيز H_3O^+ وتركيز OH^-

الحل:



معادلة تأيّن الحمض

أحسب أولاً تركيز الحمض الذي يساوي تركيز H_3O^+ :

$$M = \frac{n}{v} = \frac{0.02 \text{ mol}}{0.4 \text{ L}} = 5 \times 10^{-2} \text{ M}$$

$$[\text{H}_3\text{O}^+] = [\text{HClO}_4]$$

$$[\text{H}_3\text{O}^+] = 5 \times 10^{-2} \text{ M}$$

$$K_w = [\text{H}_3\text{O}^+][\text{OH}^-] = 1 \times 10^{-14}$$

$$[\text{OH}^-] = \frac{K_w}{[\text{H}_3\text{O}^+]} = \frac{1 \times 10^{-14}}{5 \times 10^{-2}} = 2 \times 10^{-13} \text{ M}$$

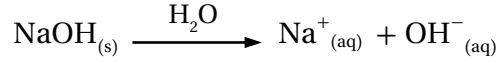
أحسب تركيز OH^- باستخدام K_w كما يأتي:

✓ أنحَقّق:

أحسب تركيز H_3O^+ وتركيز OH^- في محلول حمض النيتريك HNO_3 تركيزه 0.04 M

محاليل القواعد القوية Strong Bases Solutions

تتأين القواعد القوية كلياً في الماء، وينتج أيون OH^- وأيون آخر موجب. فمثلاً؛ عند إذابة 0.1 mol من القاعدة NaOH في 1 L في الماء تتأين كلياً، ويزداد بذلك تركيز OH^- ، كما في المعادلة الآتية:



ووفقاً لمبدأ لوتشاتيليه؛ فإن زيادة تركيز أيونات OH^- في الماء تؤدي إلى إزاحة موضع الاتزان فيه نحو اليسار؛ فيقلل ذلك من تركيز أيونات H_3O^+ ، ويبقى ثابت تأين الماء K_w ثابتاً. ونظراً إلى أن تركيز أيونات OH^- الناتجة من التأين الذاتي للماء يكون صغيراً جداً مقارنة بتركيزها الناتج من تأين القاعدة فيمكن إهمالها، وتعد القاعدة مصدراً رئيساً لهذه الأيونات، ويكون تركيزها في المحلول مساوياً لتركيز القاعدة؛ أي أن:

$$[\text{OH}^-] = [\text{Base}]$$

$$[\text{OH}^-] = [\text{NaOH}] = 1 \times 10^{-1} \text{ M}$$

ويمكن حساب تركيز أيونات H_3O^+ في المحلول باستخدام ثابت تأين الماء، كما يأتي:

$$[\text{H}_3\text{O}^+] = \frac{K_w}{[\text{OH}^-]} = \frac{1 \times 10^{-14}}{1 \times 10^{-1}} = 1 \times 10^{-13} \text{ M}$$

يتضح مما سبق أن إضافة قاعدة قوية إلى الماء تؤدي إلى زيادة تركيز OH^- ونقص تركيز H_3O^+ ، ويكون المحلول الناتج قاعدياً، ويبين الجدول (6) أشهر القواعد القوية.

الجدول (6): أشهر القواعد القوية.

الصيغة الكيميائية	اسم القاعدة
KOH	هيدروكسيد البوتاسيوم
LiOH	هيدروكسيد الليثيوم
NaOH	هيدروكسيد الصوديوم

الرابط مع الصناعة الشحمة Grease



تستخدم القواعد، مثل هيدروكسيد كل من الصوديوم والليثيوم بسبب ملمسها الزلق، في صناعة ما يُسمى بالشحوم الصابونية (الشحمة) التي تُستخدم في تشحيم الآلات والسيارات وغيرها للتقليل من الاحتكاك؛ حيث تُضاف هذه القواعد إلى الدهون النباتية أو الحيوانية لصناعة أنواع مختلفة من تلك الشحوم أو ما يُسمى بالصابون الشحمي، مثل: الصابون الليثيوم Lithium Grease، والصابون الصوديومي Sodium Grease.

أحسب تركيز OH^- وتركيز H_3O^+ في محلول هيدروكسيد الليثيوم LiOH الذي تركيزه $5 \times 10^{-4} \text{ M}$

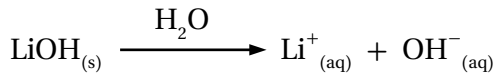
تحليل السؤال:

$$[\text{LiOH}] = 5 \times 10^{-4} \text{ M}$$

المطلوب: حساب تركيز OH^- وتركيز H_3O^+

الحل:

القاعدة LiOH قاعدة قوية تتأين كلياً وفق المعادلة الآتية:
معادلة تأين القاعدة:



أحسب تركيز OH^- وفق العلاقة الآتية:

$$[\text{OH}^-] = [\text{LiOH}]$$

$$[\text{OH}^-] = 5 \times 10^{-4} \text{ M}$$

أحسب تركيز H_3O^+ باستخدام العلاقة الآتية:

$$K_w = [\text{H}_3\text{O}^+][\text{OH}^-] = 1 \times 10^{-14}$$

$$[\text{H}_3\text{O}^+] = \frac{K_w}{[\text{OH}^-]} = \frac{1 \times 10^{-14}}{5 \times 10^{-4}} = 2 \times 10^{-11} \text{ M}$$

✓ أتحمق:

أحسب تركيز H_3O^+ وتركيز OH^- في المحاليل الآتية:

1- محلول القاعدة هيدروكسيد البوتاسيوم KOH الذي تركيزه 0.5 M

2- محلول جرى تحضيره بإذابة 8 g من بلورات هيدروكسيد الصوديوم

NaOH في 200 mL من الماء. علماً أن $M_{r(\text{NaOH})} = 40 \text{ g/mol}$

الرَّقْمُ الهيدروجيني pH والرَّقْمُ الهيدروكسيلي pOH

تحتوي المحاليل المائية على تراكيز صغيرة جداً من أيونات الهيدرونيوم، حيث تُعبر عن حموضة المحلول وأيونات الهيدروكسيد التي تُعبر عن قاعدية المحلول. ولصعوبة التعامل مع هذه الأرقام؛ يستخدم الكيميائيون طرائق أسهل للتعبير عن حموضة المحلول أو قاعديته، مثل الرَّقْمُ الهيدروجيني pH، والرَّقْمُ الهيدروكسيلي pOH. فما المقصود بكل منهما؟ وكيف يُستخدم كل منهما في التعبير عن حموضة المحلول أو قاعديته؟

الرَّقْمُ الهيدروجيني (pH): Hydrogen Power

تعتمد حموضة المحلول على تركيز أيونات الهيدرونيوم H_3O^+ فيه، وقد اقترح الكيميائيون استخدام مفهوم الرَّقْمُ الهيدروجيني **Hydrogen Power** للتعبير عن حموضة المحلول، وهو اللوغاريتم السالب لتركيز أيون الهيدرونيوم H_3O^+ في المحلول للأساس 10، ويُعبر عنه رياضياً بالعلاقة الآتية:

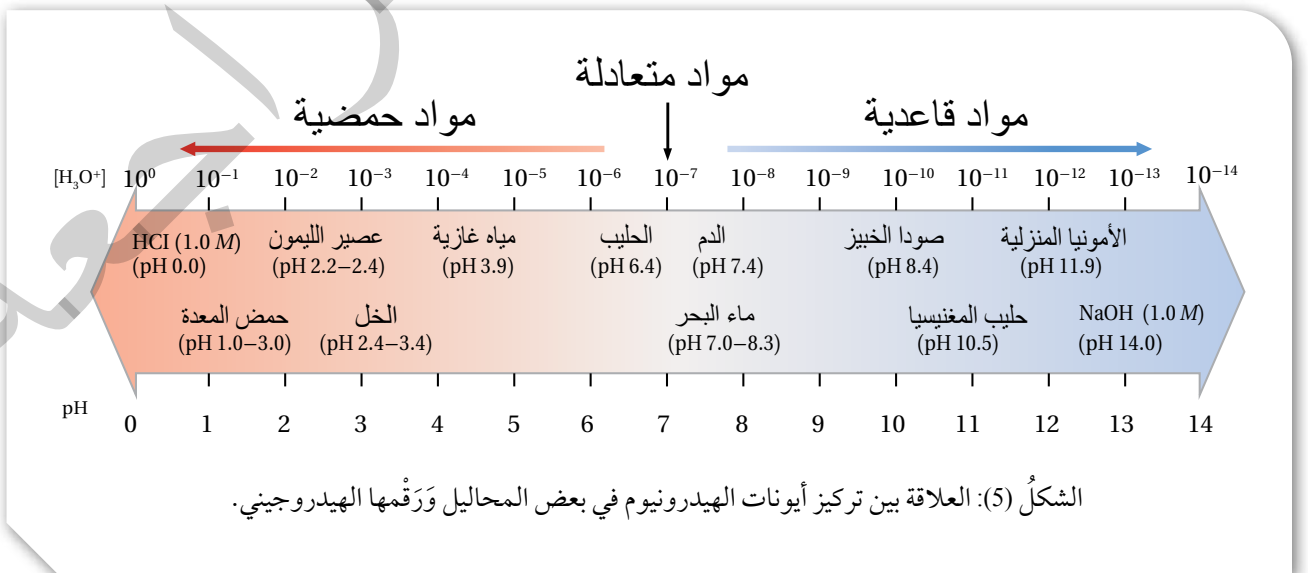
$$pH = -\log [H_3O^+]$$

ويُعدُّ مقياساً كمياً لحموضة المحلول؛ فهو مقياس مُدرَّج من صفر إلى 14، ويبيِّن الشكل (5) العلاقة بين حموضة المحاليل ورَّقمها الهيدروجيني pH وتراكيز أيونات الهيدرونيوم H_3O^+ .

يتضح من الشكل أن المحلول الحمضي يكون تركيز H_3O^+ فيه أكبر من 10^{-7} ، وتكون قيمة الرَّقْمُ الهيدروجيني pH أقل من 7، وفي المحلول المتعادل يكون تركيز H_3O^+ مساوياً 10^{-7} ، وقيمة الرَّقْمُ الهيدروجيني pH تساوي 7، أمَّا في المحلول القاعدي فيكون تركيز H_3O^+ أقل من 10^{-7} ، وقيمة الرَّقْمُ الهيدروجيني pH أكبر من 7.

✓ **أتحقَّق:**

- 1- أُحدِّد، بالاعتماد على الشكل (5)، الرَّقْمُ الهيدروجيني للمحاليل الآتية:
 - أ) محلول تركيز H_3O^+ فيه يساوي $10^{-3} M$
 - ب) محلول تركيز H_3O^+ فيه يساوي $10^{-12} M$
- 2- أستنتج أيَّ المحلولين السابقين حمضي وأيهما قاعدي.



أفكر: أستنتج تركيز المحلول إذا كان رَقْمُهُ الهيدروجيني يساوي صفرًا (pH = 0).

الحسابات المتعلقة بالرَّقْم الهيدروجيني

تتفاوت تراكيز أيونات الهيدرونيوم H_3O^+ وأيونات الهيدروكسيد OH^- في المحاليل المائية للحموض والقواعد، ويحسب الرَّقْم الهيدروجيني pH للمحلول بالاعتماد على تركيز أيونات H_3O^+ وباستخدام العلاقة الآتية:

$$pH = -\log [H_3O^+]$$

المثال 6


أحسب الرَّقْم الهيدروجيني pH لمحلول حمض النيتريك HNO_3 ؛ تركيزه؛ 0.25 M (علمًا أن $\log 2.5 = 0.4$).

تحليل السؤال: $[HNO_3] = 0.25\text{ M}$

المطلوب: حساب pH للمحلول.

الحل:

يتأين الحمض HNO_3 كليًا، كما في المعادلة الآتية:



$$[H_3O^+] = [HNO_3] = 0.25 = 2.5 \times 10^{-1}\text{ M}$$

$$pH = -\log [H_3O^+]$$

$$pH = -\log(2.5 \times 10^{-1}) = 1 - \log 2.5 = 1 - 0.4 = 0.6$$

المثال 7

أحسب الرَّقْم الهيدروجيني pH لمحلول حمض البيركلوريك $HClO_4$ ؛ تركيزه 0.04 M (علمًا أن $\log 4 = 0.6$).

تحليل السؤال: $[HClO_4] = 0.04\text{ M}$

المطلوب: حساب pH للمحلول.

الحل:

يتأين الحمض $HClO_4$ كليًا وفق المعادلة الآتية:



$$[H_3O^+] = [HClO_4] = 0.04\text{ M}$$

$$pH = -\log [H_3O^+]$$

$$pH = -\log(4 \times 10^{-2}) = 2 - \log 4 = 2 - 0.6 = 1.4$$

يُكتَبُ أحيانًا على بعض عبوات الأغذية والعصير الرَّقْم الهيدروجيني للمادة التي تحتويها، ويمكن حساب تركيز أيونات الهيدرونيوم H_3O^+ فيها باستخدام العلاقة الآتية:

$$[H_3O^+] = 10^{-pH}$$

المثال 8

أحسب $[H_3O^+]$ لعبوة من الخلّ مكتوب عليها أنّ الرّقم الهيدروجيني pH يساوي 4

تحليل السؤال: pH = 4

المطلوب: أحسب $[H_3O^+]$

الحل:

$$[H_3O^+] = 10^{-pH} = 10^{-4} = 1 \times 10^{-4} \text{ M}$$

المثال 9

أحسب $[H_3O^+]$ لعبوة من عصير الليمون مكتوب عليها أنّ الرّقم الهيدروجيني pH يساوي 2.2

(علماً أنّ $\log 6.3 = 0.8$).

تحليل السؤال: pH = 2.2

المطلوب: أحسب $[H_3O^+]$

الحل:

$$\begin{aligned} [H_3O^+] &= 10^{-pH} = 10^{-2.2} = 10^{(-2.2+3)-3} \\ &= 10^{0.8} \times 10^{-3} = 6.3 \times 10^{-3} \text{ M} \end{aligned}$$

المثال 10

أحسب الرّقم الهيدروجيني pH لمحلول القاعدة هيدروكسيد الصوديوم NaOH، تركيزه؛ 0.02 M

(علماً أنّ $\log 5 = 0.7$).

تحليل السؤال: $[NaOH] = 2 \times 10^{-2} \text{ M}$

المطلوب: أحسب pH لمحلول القاعدة.

الحل:

تتأين القاعدة NaOH كلياً وفق المعادلة الآتية:



$$[OH^-] = [NaOH] = 2 \times 10^{-2} \text{ M}$$

$$K_w = [H_3O^+][OH^-] = 1 \times 10^{-14}$$

$$[H_3O^+] = \frac{K_w}{[OH^-]} = \frac{1 \times 10^{-14}}{2 \times 10^{-2}} = 5 \times 10^{-13} \text{ M}$$

$$pH = -\log [H_3O^+]$$

$$pH = -\log (5 \times 10^{-13}) = 13 - \log 5 = 13 - 0.7 = 12.3$$

✓ أنْحَقِّقْ:

1- أحسب pH لمحلول حمض الهيدرو يوديك HI، تركيزه؛ 0.03 M (علمًا أن $\log 3 = 0.48$).

2- أحسب $[H_3O^+]$ لعينة من عصير البندورة؛ ورقمها الهيدروجيني يساوي 4.3 (علمًا أن $\log 5 = 0.7$).

3- أحسب pH لمحلول القاعدة هيدروكسيد الليثيوم LiOH تركيزه؛ 0.004 M (علمًا أن $\log 2.5 = 0.4$).

الرَّقْمُ الهيدروكسيلي pOH

يُستخدم الرَّقْمُ الهيدروكسيلي pOH Hydroxyl Power للتعبير عن قاعدية المحلول، ويُعرَّف بأنه اللوغاريتم السالب لتركيز أيونات الهيدروكسيد OH^- في المحلول للأساس 10، ويُعبَّر عنه بالعلاقة الآتية:

$$pOH = -\log [OH^-]$$

المثال 11

أحسب الرَّقْمُ الهيدروكسيلي pOH لمحلول القاعدة KOH تركيزه 0.01 M

تحليل السؤال: $[KOH] = 1 \times 10^{-2} M$

المطلوب: أحسب الرَّقْمُ الهيدروكسيلي pOH

الحل:

تتأين القاعدة القوية KOH كليًا في المحلول، كما في المعادلة:



ويمكن حساب تركيز OH^- في المحلول، كما يأتي:

$$[OH^-] = [KOH] = 1 \times 10^{-2} M$$

$$pOH = -\log [OH^-]$$

$$pOH = -\log (1 \times 10^{-2}) = 2 - \log 1 = 2$$

ويمكن حساب تركيز أيونات الهيدروكسيد OH^- في المحلول بمعرفة الرَّقْمُ الهيدروكسيلي pOH فيه باستخدام العلاقة الآتية:

$$[OH^-] = 10^{-pOH}$$

أحسب $[OH^-]$ لعينة من حليب المغنيسيا علماً بأن الرّقم الهيدروكسيلي pOH يساوي 4

تحليل السؤال:

حليب المغنيسيا مادة قاعدية؛ فهي تحتوي على تركيز عالٍ نسبياً من OH^-

$$pOH = 4$$

المطلوب: أحسب تركيز OH^-

الحل:

$$[OH^-] = 10^{-pOH} = 1 \times 10^{-4} M$$

✓ أتحقّق:

1- أحسب الرّقم الهيدروكسيلي pOH لمحلول هيدروكسيد الليثيوم $LiOH$ تركيزه $0.004 M$ (علماً أن $\log 4 = 0.6$).

2- أحسب $[OH^-]$ لعبوة مكتوب عليها أن الرّقم الهيدروكسيلي pOH يساوي 3.2 (علماً أن $\log 6.3 = 0.8$).

العلاقة بين pH و pOH

يرتبط الرّقم الهيدروجيني pH بتركيز أيونات الهيدرونيوم في المحلول، في حين يرتبط الرّقم الهيدروكسيلي pOH بتركيز أيونات الهيدروكسيد، وحاصل ضرب تركيز الأيونين في المحلول يعطي قيمة ثابتة، يُعبّر عنها ثابت تأين الماء K_w بالعلاقة الآتية:

$$K_w = [H_3O^+][OH^-] = 1 \times 10^{-14}$$

إذا أخذنا لوغاريتم الطرفين نجد أن:

$$\log[H_3O^+] + \log[OH^-] = -14$$

وبضرب المعادلة بإشارة (-) نحصل على:

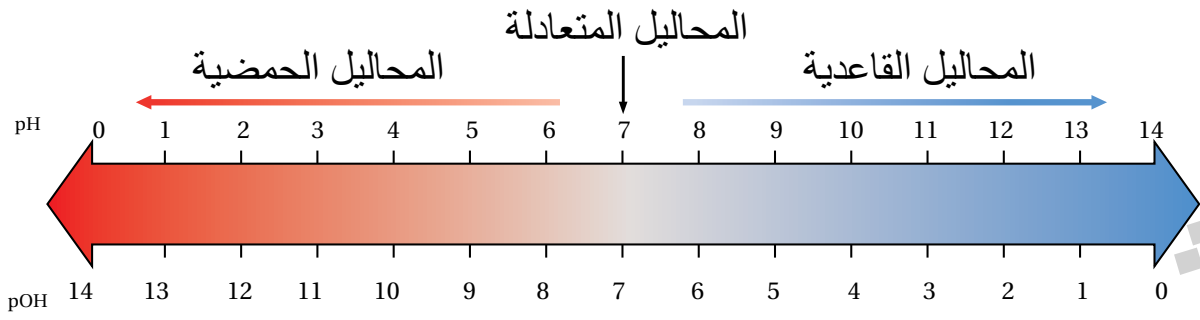
$$-\log[H_3O^+] + (-\log[OH^-]) = 14$$

وحيث إن:

$$pH = -\log[H_3O^+] \quad , \quad pOH = -\log[OH^-]$$

فإنه يمكن التعبير عن العلاقة السابقة على النحو الآتي:

$$pH + pOH = 14$$



الشكل (6): العلاقة بين الرّقم الهيدروجيني والرّقم الهيدروكسيلي.
أستنتج العلاقة بين حمضية المحلول والرّقم الهيدروكسيلي.

يتضح من الشكل (6) أنّ القيم المتقابلة عمودياً تمثل مجموع الرّقم الهيدروجيني pH، والرّقم الهيدروكسيلي pOH للمحلول. فمثلاً؛ عندما تكون pH تساوي 2 تكون قيمة pOH المقابلة لها تساوي 12، وبهذا يمكن معرفة قيمة أيّ منهما للمحلول بمعرفة الأخرى.

المثال 3

أحسب الرّقم الهيدروجيني pH والرّقم الهيدروكسيلي pOH لمحلول حمض الهيدروكلوريك HCl، الذي تركيزه $1 \times 10^{-3} \text{ M}$

تحليل السؤال: $[\text{HCl}] = [\text{H}_3\text{O}^+] = 1 \times 10^{-3} \text{ M}$

المطلوب: أحسب pH و pOH.

الحل:

أحسب pH للمحلول، كما يأتي:

$$\text{pH} = -\log[\text{H}_3\text{O}^+] = -\log(1 \times 10^{-3}) = 3$$

أحسب pOH، كما يأتي:

$$\text{pH} + \text{pOH} = 14$$

$$3 + \text{pOH} = 14$$

$$\text{pOH} = 14 - 3 = 11$$

✓ أنحقّق:

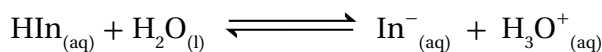
أحسب pH و pOH لكلّ من المحاليل الآتية:

1- محلول تركيز أيونات H_3O^+ فيه يساوي $1 \times 10^{-5} \text{ M}$

2- محلول تركيز أيونات OH^- فيه يساوي $1 \times 10^{-4} \text{ M}$

الكواشف: Indicators

الكواشف Indicators موادٌ كيميائيةٌ يتغيَّر لونها حسبَ الرقم الهيدروجيني للوسط الذي توجد فيه؛ فهي تتكوَّن من حموضٍ عضويَّةٍ ضعيفةٍ أو قواعدٍ عضويَّةٍ ضعيفةٍ يتغيَّر لونها في مدىٍّ معيَّن من الرقم الهيدروجيني، فإذا رمزنا للكاشف الحمضي بالرمز HIn فإنه يتأينُ في المحلول، كما في المعادلة الآتية:



لون 1

لون 2

وعند إضافة محلول الكاشف HIn إلى محلول حمضٍ يحتوي على تركيز مرتفع من أيونات H_3O^{+} مقارنةً بمحلول الكاشف؛ فإنَّ التفاعل -وفقاً لمبدأ لوتشاتلييه- سوف يندفع بالاتجاه العكسي في محلول الكاشف للتقليل من تركيز H_3O^{+} ؛ فيقلُّ ذلك من تركيز الأيون In^{-} ويختفي لونه (2)، في حين يزداد تركيز الكاشف HIn غير المتأين ويظهر لونه (1) في المحلول.

أمَّا عند إضافة محلول الكاشف إلى محلول قاعدةٍ يحتوي على تركيز عالٍ من أيونات OH^{-} ؛ فإن أيونات H_3O^{+} ستستهلكُ في محلول الكاشف، ووفقاً لمبدأ لوتشاتلييه سوف يندفع التفاعل بالاتجاه الأمامي لتعويض النقص في تركيز H_3O^{+} في معادلة الكاشف؛ ممَّا يزيد من تركيز الأيون In^{-} ويظهر لونه (2) في المحلول، بينما يقلُّ تركيز الكاشف HIn غير المتأين ويختفي لونه (1) من المحلول. يتغيَّر لون الكاشف في مدىٍّ معيَّن من الرقم الهيدروجيني يعتمدُ على النسبة بين تركيز ما يتأينُ منه إلى تركيزه الأصلي. ويبين الجدول (7) مدى الرقم الهيدروجيني الذي يتغيَّر عنده لون بعض الكواشف.

✓ **أتحقَّق:**

- 1- الميثيل البرتقالي في محلول قاعدي.
- 2- البروموثايمول الأزرق في محلول حمضي.

الجدول (7): مدى الرقم الهيدروجيني لتغيُّر ألوان بعض الكواشف.

اسم الكاشف	تغيُّر لون الكاشف	
	من	إلى
الميثيل البرتقالي	أحمر	أصفر
البروموثايمول الأزرق	أصفر	أزرق
الفينولفثالين	عديم اللون	زهري

مراجعةُ الدرس

1. الفكرةُ الرئيسة: بماذا يُعبَّرُ عن حمضيَّة المحاليل أو قاعديتها؟

2. أوضح المقصودَ بكلِّ ممَّا يأتي:

• التَّأينُ الذاتيُّ للماء. • الرَّقْمُ الهيدروجيني.

3. **أستخدم الأرقام.** أحسب تركيز H_3O^+ و OH^- في كلِّ من المحاليل الآتية:

أ. HNO_3 تركيزه 0.02 M

ب. LiOH تركيزه 0.01 M

4. **أصنّف** المحاليل المبيّنة في الجدول إلى محاليل حمضية أو قاعدية أو متعادلة:

pH = 7	$[\text{OH}^-] = 10^{-11} \text{ M}$	$[\text{H}_3\text{O}^+] = 10^{-9} \text{ M}$	pH = 3	الصفة المميّزة للمحلول
				تصنيف المحلول

5. **أفسّر:** يقلُّ تركيز OH^- في الماء عند تحضير محلول حمضي.

6. **أستخدم الأرقام.** أحسب الرَّقْم الهيدروجيني pH لمحلول حمض HI؛ تركيزه 0.0005 M (علمًا أنّ $\log 5 = 0.7$).

7. **أستخدم الأرقام.** أحسب الرَّقْم الهيدروجيني pH لمحلول حمض HBr حُضِرَ بإذابة 0.81 g منه في 400 mL من الماء. (علمًا أنّ الكتلة المولية للحمض $\text{HBr} = 81 \text{ g/mol}$ ، $\log 2.5 = 0.4$).

8. **أستخدم الأرقام.** أحسب الرَّقْم الهيدروكسيلي والرَّقْم الهيدروجيني لمحلول HClO_4 ؛ تركيزه 0.008 M

(علمًا أنّ $\log 8 = 0.9$).

9. **أستخدم الأرقام.** أحسب كلاً من pH و pOH لكلِّ من المحاليل الآتية:

أ. محلول تركيز أيونات H_3O^+ فيه يساوي $1 \times 10^{-5} \text{ M}$

ب. محلول تركيز أيونات OH^- فيه يساوي $1 \times 10^{-4} \text{ M}$

10. أختار الاجابة الصحيحة لكل فقرة مما يلي:

1. محلول الحمض HBr تم تحضيره بإذابة (0.2 mol) من الحمض في (2 L) من الماء، فإن قيمة pH للمحلول تساوي:

أ . صفر ب . 1 ج . 3 د . 5

2. محلول الحمض HCl قيمة pH له تساوي صفرًا؛ فإن تركيز الحمض (M) يساوي:

أ . 3 ب . 2 ج . 1 د . صفر

3. محلول حمض HClO_4 تركيزه (0.001 M)، فإن تركيز أيونات H_3O^+ (M) يساوي:

أ . 0.0001 ب . 0.001 ج . 0.01 د . 0.1

4. كتلة (g) هيدروكسيد الصوديوم NaOH اللازم اذابتها في 5 L من الماء للحصول على محلول له رقم

هيدروجيني يساوي (11 علما $\text{Mr NaOH} = 40 \text{ g/mol}$)

أ . 0.02 ب . 0.1 ج . 0.2 د . 0.01

5. تكون قيمة pOH أعلى ما يمكن في محلول:

أ . 1 M NaOH ب . 0.4 M KOH

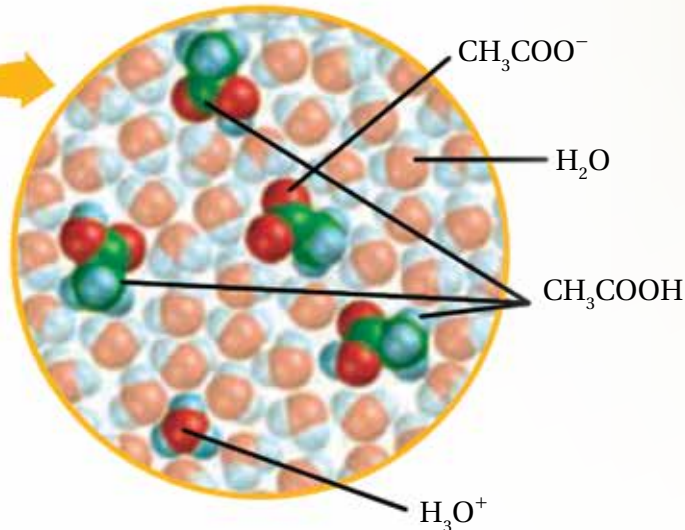
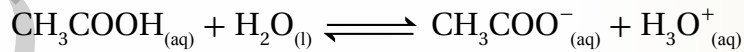
ج . 0.2 M HBr د . 0.1 M HCl

الاتزان في محاليل الحموض والقواعد الضعيفة

Equilibrium in Weak Acids and Bases Solutions

عرفت في ما سبق أن الحموض والقواعد الضعيفة تتأين جزئياً في الماء، وأن ذوبانها يُعدُّ مثلاً على الاتزان الكيميائي، ويُعبّر عن حالة الاتزان في المحاليل المائية للحموض الضعيفة التي تتأين جزئياً باستخدام ثابت تأين الحمض (Acid Dissociation Constant (K_a))، حيث يُعدُّ مقياساً كمياً لتأين الحمض الضعيف. أنظر الشكل (7) الذي يبين تأين حمض الإيثانويك (الخل) (CH_3COOH). كما يمكن التعبير عن حالة الاتزان لمحاليل القواعد الضعيفة باستخدام ثابت تأين القاعدة (K_b Base Dissociation Constant)، حيث يُعدُّ أيضاً -مقياساً كمياً لتأين القاعدة الضعيفة. فكيف يُستخدم ثابت التأين في مقارنة قوة الحموض الضعيفة أو قوة القواعد الضعيفة؟

الشكل (7): تأين حمض الإيثانويك (الخل) في الماء.



الفكرة الرئيسة:

يتأين الحمض الضعيف في المحلول المائي جزئياً، ويُعبّر عن قدرته على التأين باستخدام ثابت تأين الحمض K_a ، وكذلك الحال للقاعدة الضعيفة التي يُعبّر عن مدى تأينها بثابت تأين القاعدة K_b ، وتُستخدم ثوابت التأين لحساب تراكيز الأيونات الناتجة وحساب الرقم الهيدروجيني للمحلول.

نتائج التعلم:

- أوضح المقصود بثابت تأين كل من الحمض والقاعدة.
- أجري بعض الحسابات المتعلقة بثابت التأين لكل من الحمض والقاعدة.

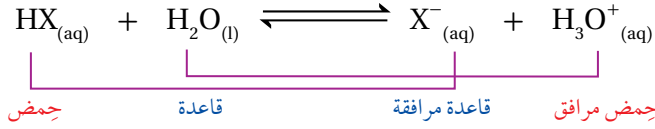
المفاهيم والمصطلحات:

- ثابت تأين الحمض
Acid Dissociation Constant
- ثابت تأين القاعدة
Base Dissociation Constant

الاتزان في محاليل الحموض الضعيفة

Equilibrium in Weak Acids Solutions

تتأينُ الحموضُ الضعيفةُ جُزئياً في الماء، فينتج أيونُ الهيدرونيوم H_3O^+ وأيونُ آخرُ سالب، فإذا رمزنا للحمض بشكل عام بالرمز HX فإنه يتأينُ، كما في المعادلة الآتية:



وتكونُ جُزيئاتُ الحمض غير المتأينة في حالة اتزان مع الأيونات الناتجة X^- و H_3O^+ ، ويكون موضع الاتزان في التفاعل مُزاحاً جهة اليسار (جهة المواد المتفاعلة)؛ فيشيرُ إلى أنَّ القاعدة المرافقة (X^-) أقوى من القاعدة H_2O ، وهذا يُمكنُها من الارتباط بالبروتون وإعادة تكوين الحمض بصورة مستمرة؛ فيجعلُ تركيز الحمض عالياً مقارنةً بتركيز الأيونات الناتجة من تأينه. ويُعبَّر عن ثابت الاتزان للتفاعل على النحو الآتي:

$$K_a = \frac{[H_3O^+][X^-]}{[HX]}$$

يُسمى ثابتُ الاتزان لتأين الحمض الضعيف ثابتَ تأين الحمض ويُرمزُ له K_a ، ويُبيِّن الجدولُ (8) قيمَ ثابت تأين بعض الحموض الضعيفة عند درجة حرارة $25^\circ C$. يُعبَّر ثابتُ تأين الحمض عن قوة الحمض وقدرته على التأين، فكلما زادت قوة الحمض زادت قدرته على التأين وإنتاج H_3O^+ ؛ وزاد ثابت تأينه K_a ، وبهذا يمكن مقارنة قوة الحموض الضعيفة بعضها ببعض، كما يُستفاد من ثابت تأين الحمض في حساب تركيز H_3O^+ ، والرَّقم الهيدروجيني لمحلول الحمض الضعيف.

الجدول (8): قيم ثابت تأين بعض الحموض الضعيفة عند درجة حرارة $25^\circ C$.

اسم الحمض	صيغته الكيميائية	ثابت تأين الحمض K_a
حمض الكبريت IV	H_2SO_3	1.3×10^{-2}
حمض الهيدروفلوريك	HF	6.8×10^{-4}
حمض النيتروجين III	HNO_2	4.5×10^{-4}
حمض الميثانويك	HCOOH	1.7×10^{-4}
حمض البنزويك	C_6H_5COOH	6.3×10^{-5}
حمض الإيثانويك	CH_3COOH	1.7×10^{-5}
حمض الكربونيك	H_2CO_3	4.3×10^{-7}
حمض كبريتيد الهيدروجين	H_2S	8.9×10^{-8}
حمض الهيپوكلوروز (أو الكلوريك 1)	HClO	3.5×10^{-8}
حمض الهيدروسيانيك	HCN	4.9×10^{-10}

✓ أنحقق:

أدرسُ الجدولُ (8)، ثمَّ أجب عن الأسئلة الآتية:

1- أحددُ الحمضَ الأقوى:

H_2CO_3 أم $HCOOH$

2- أحددُ أيُّها له رَقْم هيدروجيني

أقلُّ: محلول الحمض HNO_2 ،

أم محلول الحمض HClO.

علماً أنَّ لهما التركيز نفسه.

3- أحددُ أيَّ محاليل الحموض

متساوية التركيز الآتية يحتوي

أعلى تركيز من أيونات OH^- :

HF ، $HClO$ ، CH_3COOH ؟

حساب تركيز أيون الهيدرونيوم H_3O^+ لمحاليل الحموض الضعيفة:
تنتج أيونات الهيدرونيوم H_3O^+ من تأين الحمض الضعيف في الماء،
ويجري حساب تركيزها باستخدام ثابت تأين الحمض، كما في المثال الآتي:

المثال 14

أحسب تركيز أيونات H_3O^+ في محلول حمض الإيثانويك CH_3COOH ، حيث تركيزه $0.1 M$.
علماً أن ثابت تأين الحمض $K_a = 1.7 \times 10^{-5}$.

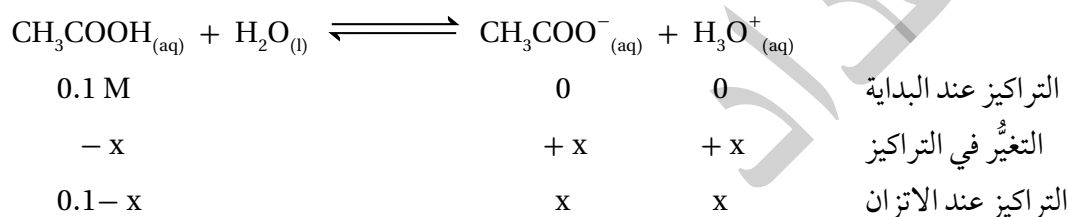
تحليل السؤال: $[CH_3COOH] = 0.1 M$

$$K_a = 1.7 \times 10^{-5}$$

المطلوب: حساب $[H_3O^+]$

الحل:

أكتب معادلة تأين الحمض:



أكتب ثابت التأيّن:

$$K_a = \frac{[CH_3COO^-][H_3O^+]}{[CH_3COOH]}$$

وبالتعويض في ثابت التأيّن نجد أن:

$$1.7 \times 10^{-5} = \frac{x^2}{(0.1 - x)}$$

ولما كان النقص في تركيز الحمض صغيراً جداً مقارنة بتركيز الحمض (0.1)؛ فيهمّل هذا النقص ويُعتبر تركيز

الحمض ثابتاً؛ أي أن $0.1 - x \approx 0.1 M$

وبهذا يمكن حساب تركيز H_3O^+ ، كما يأتي:

$$x^2 = 0.1 \times 1.7 \times 10^{-5} = 1.7 \times 10^{-6}$$

$$[H_3O^+] = x = 1.3 \times 10^{-3} M$$

وبأخذ جذر الطرفين نجد أن:

✓ أنتحقق:

أحسب تركيز أيونات H_3O^+ في محلول حمض النيتروجين (III) HNO_2 ، حيث تركيزه $0.03 M$

علماً أن ثابت تأينه $K_a = 4.5 \times 10^{-4}$

حساب الرّقم الهيدروجيني pH لمحاليل الحموض الضعيفة:
يمكن حساب الرّقم الهيدروجيني للمحلول بالاعتماد على تركيز أيون
الهيدرونيوم H_3O^+ ، كما في المثال الآتي:

المثال 15

أحسب الرّقم الهيدروجيني لمحلول حمض البنزويك C_6H_5COOH الذي تركيزه 2 M
(علمًا أنّ $\log 1.12 = 0.05$ ، $K_a = 6.3 \times 10^{-5}$).

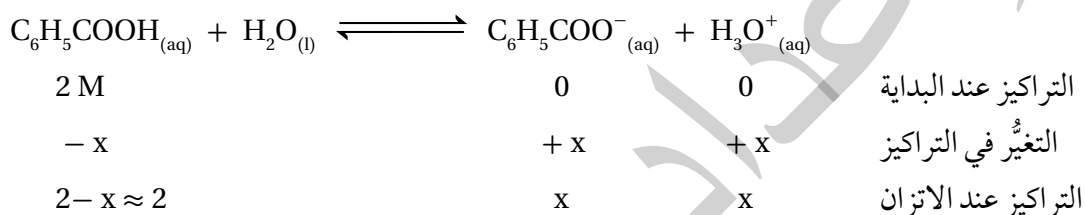
تحليل السؤال: $[C_6H_5COOH] = 2 M$

$$K_a = 6.3 \times 10^{-5}$$

المطلوب: حساب pH للمحلول.

الحل:

أكتب معادلة تأين الحمض:



أكتب ثابت التأيّن:

$$K_a = \frac{[H_3O^+][C_6H_5COO^-]}{[C_6H_5COOH]}$$

ولمّا كان $X = [H_3O^+] = [C_6H_5COO^-]$ ؛ فيمكن كتابة ثابت تأين الحمض كما يأتي:

$$6.3 \times 10^{-5} = \frac{X^2}{2}$$

$$X = [H_3O^+] = \sqrt{1.26 \times 10^{-4}} = 1.12 \times 10^{-2} M$$

أحسب الرّقم الهيدروجيني باستخدام العلاقة:

$$pH = -\log [H_3O^+]$$

$$pH = -\log (1.12 \times 10^{-2}) = 2 - \log 1.12 = 2 - 0.05 = 1.95$$

✓ أنحقّق:

أحسب الرّقم الهيدروجيني pH لمحلول حمض الهيدروسيانيك HCN، الذي تركيزه 0.02 M

علمًا أنّ $(\log 3.1 = 0.49$ ، $K_a = 4.9 \times 10^{-10})$.

استخدام الرّقم الهيدروجيني لحساب كمية الحمض أو ثابت التأيّن K_a :
 بمعرفة الرّقم الهيدروجيني للمحلول؛ يمكن حساب كمية الحمض اللازمة
 لتحضيره، كما يُستفاد من الرّقم الهيدروجيني -أيضاً- في حساب ثابت تأيّن
 الحمض، والأمثلة الآتية توضّح ذلك:

المثال 6 أ

أحسب كتلة حمض الميثانويك HCOOH اللازمة لتحضير محلول منه حجمه 1 L ورّقمه الهيدروجيني 2.7
 علماً أنّ $(Mr = 46 \text{ g/mol}, K_a = 1.7 \times 10^{-4}, \log 2 = 0.3)$.

تحليل السؤال: $K_a = 1.7 \times 10^{-4}$

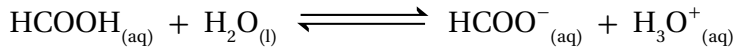
$$\text{pH} = 2.7$$

$$Mr = 46 \text{ g/mol}$$

المطلوب: حساب كتلة الحمض.

الحل:

أكتب معادلة تأيّن الحمض:



يُستفاد من pH في حساب تركيز H_3O^{+} ، كما يأتي:

$$[\text{H}_3\text{O}^{+}] = 10^{-\text{pH}} = 10^{-2.7} = 10^{(-2.7+3)-3} = 10^{0.3} \times 10^{-3} = 2 \times 10^{-3} \text{ M} = [\text{HCOO}^{-}]$$

أحسب تركيز الحمض باستخدام ثابت التأيّن، كما يأتي:

$$K_a = \frac{[\text{H}_3\text{O}^{+}] [\text{HCOO}^{-}]}{[\text{HCOOH}]}$$

$$[\text{HCOOH}] = \frac{(2 \times 10^{-3})^2}{1.7 \times 10^{-4}} = \frac{4 \times 10^{-6}}{1.7 \times 10^{-4}} = 2.35 \times 10^{-2} \text{ M}$$

لحساب كتلة الحمض أحسب عدد مولاته في المحلول، كما يأتي:

$$M = \frac{n}{v}$$

$$2.35 \times 10^{-2} = \frac{n}{1}$$

$$n = 2.35 \times 10^{-2} \text{ mol}$$

أستخدم عدد المولات لحساب كتلة الحمض، كما يأتي:

$$n = \frac{m}{Mr} \rightarrow m = n \times Mr$$

$$= 2.35 \times 10^{-2} \text{ mol} \times 46 \text{ g/mol} = 1.08 \text{ g}$$

أحسب ثابت تأين حمض ضعيف HA رَقْمُهُ الهيدروجيني يساوي 3 حُضِرَ بإذابة 0.1 mol منه في 500 mL من الماء. (أهمل التغير في الحجم).

تحليل السؤال:

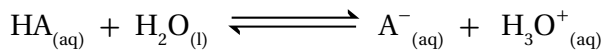
pH = 3، عدد مولات الحمض = 0.1 mol

حجم المحلول (v) = 500 mL = 0.5 L

المطلوب: حساب ثابت تأين الحمض K_a .

الحل:

أكتب معادلة تأين الحمض:



أحسب تركيز H_3O^{+} باستخدام الرَقْم الهيدروجيني، كما يأتي:

$$[\text{H}_3\text{O}^{+}] = 10^{-\text{pH}} = 10^{-3} = 1 \times 10^{-3} \text{ M} = [\text{A}^{-}]$$

أحسب تركيز الحمض باستخدام عدد مولاته وحجم المحلول، كما يأتي:

$$M = \frac{n}{v} = \frac{0.1}{0.5} = 0.2 \text{ M}$$

أحسب ثابت تأين الحمض، كما يأتي:

$$K_a = \frac{[\text{H}_3\text{O}^{+}][\text{A}^{-}]}{[\text{HA}]} = \frac{1 \times 10^{-6}}{0.2} = 5.0 \times 10^{-6}$$

✓ أتتحقق:

أحسب كتلة حمض الميثانويك HCOOH اللازمة لتحضير محلول منه حجمه 0.5 L، و رَقْمُهُ الهيدروجيني يساوي 3 (علمًا أن $M_r = 46 \text{ g/mol}$, $K_a = 1.7 \times 10^{-4}$).

الربط مع الصناعة

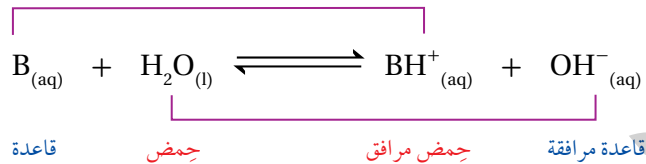
تُعدُّ شركة مناجم الفوسفات الأردنية رائدةً في إنتاج حمض الفوسفوريك H_3PO_4 وحمض الكبريتيك H_2SO_4 بتقنية عالية في منطقة الشبيبة في جنوبي الأردن، حيث تبلغ كمية الإنتاج من حمض الفوسفوريك نحو 224 ألف طن سنويًا، وقُرابة 660 ألف طن متري من حمض الكبريتيك تُخزَّن في منشأة خاصة بمدينة العقبة؛ وبهذا تُعدُّ الشركة لبنة أساسية في بناء الاقتصاد الوطني لها من إسهامات كبيرة في تطوير صناعة التعدين في الأردن.



الاتزان في محاليل القواعد الضعيفة:

Equilibrium in Weak Bases Solutions

تتأين القواعد الضعيفة جزئياً في المحلول؛ فينتج أيون الهيدروكسيد OH^- وأيون آخر موجب، فإذا رمزنا للقاعدة الضعيفة بشكل عام بالرمز B فإنها تتأين، كما في المعادلة الآتية:



وتكون جزيئات القاعدة غير المتأينة في حالة اتزان مع الأيونات الناتجة OH^- و BH^+ ، ويكون موضع الاتزان في التفاعل مراحاً جهة اليسار (جهة المواد المتفاعلة)؛ فيشير ذلك إلى أن الحمض المرافق (BH^+) أقوى من الحمض H_2O ، ويمكنه منح البروتون للقاعدة المرافقة ويعيد تكوين القاعدة (B) في التفاعل باستمرار؛ فيبقي تركيزها عالياً مقارنةً بتركيز الأيونات الناتجة من تأينها، ويمكن التعبير عن ثابت الاتزان للتفاعل على النحو الآتي:

$$K_b = \frac{[\text{BH}^+][\text{OH}^-]}{[\text{B}]}$$

يسمى ثابت الاتزان لتأين القاعدة الضعيفة ثابت تأين القاعدة ويرمز له K_b ، ويبين الجدول (9) قيم ثابت التأين لبعض القواعد الضعيفة عند درجة حرارة 25°C . ويُعدُّ ثابت التأين مقياساً كمياً لقدرة القاعدة على التأين وإنتاج OH^- ، فكلما زادت قوة القاعدة زادت قدرتها على التأين وإنتاج OH^- ؛ وزاد ثابت تأينها K_b ، ومن ثمَّ يقلُّ تركيز أيونات H_3O^+ ، ويزداد بذلك الرقم الهيدروجيني pH للمحلول، ويُستفاد من ثابت تأين القاعدة في مقارنة قوة القواعد الضعيفة بعضها ببعض، وفي حساب تركيز OH^- ، وفي حساب الرقم الهيدروجيني لمحلول القاعدة الضعيفة.

الجدول (9): قيم ثابت التأين لبعض القواعد الضعيفة عند درجة حرارة 25°C .

اسم القاعدة	صيغة القاعدة	ثابت تأين القاعدة K_b
إيثيل أمين	$\text{C}_2\text{H}_5\text{NH}_2$	4.7×10^{-4}
ميثيل أمين	CH_3NH_2	4.4×10^{-4}
أمونيا	NH_3	1.8×10^{-5}
هيدرازين	N_2H_4	1.7×10^{-6}
بيريدين	$\text{C}_5\text{H}_5\text{N}$	1.4×10^{-9}
أنيلين	$\text{C}_6\text{H}_5\text{NH}_2$	2.4×10^{-10}

✓ **أتحقق:**

بالرجوع إلى الجدول (9)؛ أجب عن الأسئلة الآتية:

1- أحدد المحلول الذي له أقلُّ رقم هيدروجيني NH_3 أم $\text{C}_5\text{H}_5\text{N}$ ، علماً أن لهما التركيز نفسه.

2- أحدد القاعدة الأقوى في الجدول.

3- أحدد القاعدة التي يكون حمضها المرافق له أقلُّ رقم هيدروجيني: CH_3NH_2 أم N_2H_4 علماً أن لها التركيز نفسه.

حساب تركيز أيونات OH^- في محلول قاعدة ضعيفة:
تتأين القاعدة الضعيفة جزئياً في الماء؛ فينتج من تأينها أيونات OH^- والحمض
المرافق للقاعدة، ويمكن حساب تركيز أيونات OH^- باستخدام ثابت تأين
القاعدة K_b ، والمثال الآتي يوضح ذلك:

المثال 18

تتأين الأمونيا في الماء وفقاً للمعادلة الآتية:



أحسب تركيز OH^- في محلول الأمونيا NH_3 ، الذي تركيزه 0.2 M علماً أن ثابت تأين الأمونيا $K_b = 1.8 \times 10^{-5}$

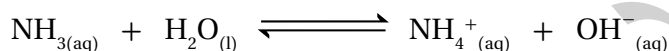
تحليل السؤال: $[\text{NH}_3] = 0.2 \text{ M}$

$$K_b = 1.8 \times 10^{-5}$$

المطلوب: حساب $[\text{OH}^-]$

الحل:

أكتب معادلة تأين القاعدة:



$$0.2 \text{ M}$$

$$-x$$

$$0.2 - x$$

$$0$$

$$+x$$

$$x$$

$$0$$

$$+x$$

$$x$$

التركيز عند البداية

التغير في التركيز

التركيز عند الاتزان

$$K_b = \frac{[\text{OH}^-][\text{NH}_4^+]}{[\text{NH}_3]}$$

أكتب ثابت التآين:

$$1.8 \times 10^{-5} = \frac{x^2}{0.2 - x}$$

ونظراً إلى أن قيمة x صغيرة جداً مقارنة بتركيز القاعدة؛ فيمكن اعتبار أن $0.2 - x \approx 0.2$

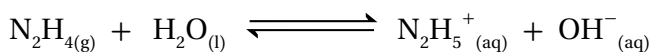
$$x^2 = 0.2 \times 1.8 \times 10^{-5} = 0.36 \times 10^{-5} = 3.6 \times 10^{-6}$$

$$x = [\text{OH}^-] = [\text{NH}_4^+] = 1.9 \times 10^{-3} \text{ M}$$

وبأخذ جذر الطرفين نجد أن:

✓ أنحقق:

تتأين الهيدرازين N_2H_4 ذات التركيز 0.04 M ، وفق المعادلة الآتية:



أحسب تركيز أيونات OH^- في المحلول. علماً أن ثابت تأين الهيدرازين $K_b = 1.7 \times 10^{-6}$

حساب الرّقم الهيدروجيني pH لمحلول قاعدة ضعيفة:

يعتمد الرّقم الهيدروجيني لمحلول القاعدة على تركيز أيونات OH^- ، حيث يمكن حسابه كما في المثال السابق، ثمّ أحسب تركيز أيونات H_3O^+ باستخدام ثابت تأين الماء K_w ، ومنه أحسب pH، والمثال الآتي يوضّح ذلك:

المثال 19

أحسب الرّقم الهيدروجيني لمحلول البيريدين $\text{C}_5\text{H}_5\text{N}$ ، الذي تركيزه 2 M (علمًا أنّ $\log 1.9 = 0.28$ ، $K_b = 1.4 \times 10^{-9}$).

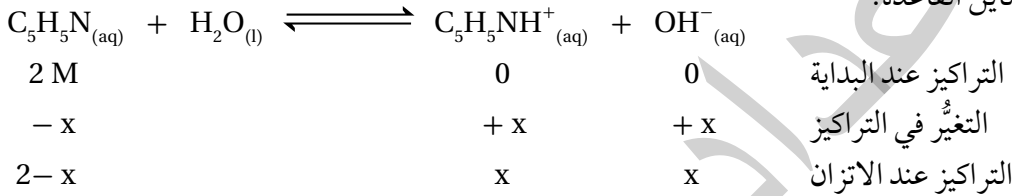
تحليل السؤال: $[\text{C}_5\text{H}_5\text{N}] = 2\text{ M}$

$$K_b = 1.4 \times 10^{-9}$$

المطلوب: حساب pH للمحلول.

الحل:

أكتب معادلة تأين القاعدة:



$$X = [\text{OH}^-] = [\text{C}_5\text{H}_5\text{NH}^+]$$

$$K_b = \frac{[\text{OH}^-][\text{C}_5\text{H}_5\text{NH}^+]}{[\text{C}_5\text{H}_5\text{N}]}$$

فأكتب ثابت التأيّن كما يأتي:

أحسب تركيز OH^- باستخدام قانون ثابت التأيّن K_b ، كما يأتي:

$$1.4 \times 10^{-9} = \frac{X^2}{2}$$

$$X = [\text{OH}^-] = \sqrt{2.8 \times 10^{-9}} = \sqrt{28 \times 10^{-10}} = 5.3 \times 10^{-5}\text{ M}$$

أحسب تركيز H_3O^+ باستخدام ثابت تأين الماء K_w ، كما يأتي:

$$[\text{H}_3\text{O}^+] = \frac{1 \times 10^{-14}}{5.3 \times 10^{-5}} = 1.9 \times 10^{-10}\text{ M}$$

أحسب الرّقم الهيدروجيني باستخدام العلاقة:

$$\text{pH} = -\log [\text{H}_3\text{O}^+] = -\log (0.19 \times 10^{-9}) = 10 - \log 1.9 = 10 - 0.28 = 9.72$$

✓ أنحقّق:

أحسب الرّقم الهيدروجيني لمحلول الأمونيا NH_3 ، الذي تركيزه 0.02 M (علمًا أنّ: $\log 1.66 = 0.22$ ، $K_b = 1.8 \times 10^{-5}$).

استخدام الرّقم الهيدروجيني لحساب كميّة القاعدة أو ثابت التأيّن K_b :
 يمكن حساب كميّة القاعدة اللازمة لتحضير محلول معيّن منها بمعرفة
 الرّقم الهيدروجيني للمحلول المراد تحضيره، كما يُستفاد -أيضاً- من الرّقم
 الهيدروجيني لمحلول قاعدة ما في تعيين ثابت تأيّناتها، والأمثلة الآتية توضّح ذلك.

المثال 20

الأنيلين قاعدة تُستخدم في صناعة الأصباغ، صيغتها $C_6H_5NH_2$ ، تتأين في الماء، كما في المعادلة:



أحسب ثابت تأيّن الأنيلين لمحلول منها تركيزه 4 M يحتوي على أيونات OH^- تركيزها $3.1 \times 10^{-5} M$

تحليل السؤال: $[C_6H_5NH_2] = 4 M$

$$[OH^-] = 3.1 \times 10^{-5} M$$

المطلوب: حساب ثابت تأيّن القاعدة (K_b)

الحل: أكتب ثابت تأيّن القاعدة:

$$K_b = \frac{[OH^-][C_6H_5NH_3^+]}{[C_6H_5NH_2]}$$

$$K_b = \frac{(3.1 \times 10^{-5})^2}{4} = \frac{9.6 \times 10^{-10}}{4} = 2.4 \times 10^{-10}$$

المثال 21

تتأين القاعدة إيثيل أمين $CH_3CH_2NH_2$ وفق المعادلة الآتية:



أحسب تركيز القاعدة في محلول منها رّفمها الهيدروجيني 11 علماً أنّ ثابت تأيّن القاعدة $K_b = 4.7 \times 10^{-4}$

$$[H_3O^+] = 10^{-pH} = 10^{-11} = 1 \times 10^{-11}$$

$$K_w = [H_3O^+][OH^-]$$

$$[OH^-] = \frac{1 \times 10^{-14}}{1 \times 10^{-11}} = 1 \times 10^{-3} M$$

$$[CH_3CH_2NH_2] = \frac{1 \times 10^{-6}}{4.7 \times 10^{-4}} = 2.1 \times 10^{-3} M$$

تحليل السؤال: $pH = 11$

$$K_b = 4.7 \times 10^{-4}$$

المطلوب: أحسب تركيز القاعدة

$$K_b = \frac{[OH^-][CH_3CH_2NH_3^+]}{[CH_3CH_2NH_2]}$$

لحساب تركيز القاعدة يجب حساب تركيز $[OH^-]$ ؛
 ولذلك أحسب $[H_3O^+]$ باستخدام pH ، كما يأتي:

✓ **أتحقّق:** أحسب ثابت تأيّن القاعدة بيوتيل أمين $C_4H_9NH_2$ ، حيث تركيزها 0.4 M، ورّفمها الهيدروجيني يساوي 12.

مراجعة الدرس

1. الفكرة الرئيسة: أوضح العلاقة بين ثابت تأين الحمض الضعيف ورقمه الهيدروجيني.

2. **أستخدم الأرقام.** أحسب تركيز H_3O^+ وتركيز OH^- وقيمة pOH في كل من المحاليل الآتية: (مستعيناً بالجدولين 9، 8).

أ. محلول HNO_2 ؛ تركيزه 0.02 M

ب. محلول NH_3 ؛ تركيزه 0.01 M

3. **أفسر:** بزيادة ثابت التأين يزداد تركيز OH^- في محلول القاعدة الضعيفة.

4. **أطبّق:** بيّن الجدول المجاور قيم ثابت تأين عدد من الحموض الضعيفة (عند

التركيز نفسه). أدرس هذه القيم، ثم أجيب عن الأسئلة الآتية:

أ. أكتب صيغة القاعدة المرافقة التي لحمضها أعلى قيمة pH.

ب. أحدد أي المحلولين له أقل رقم هيدروجيني HNO_2 أم HCN.

ج. أستنتج الحمض الذي يكون تركيز H_3O^+ فيه أقل ما يمكن.

د. أتوقع الحمض الذي يحتوي محلوله على أقل تركيز من أيونات OH^- .

هـ. أحسب الرقم الهيدروجيني pH لمحلول CH_3COOH ؛ حُضِر بإذابة 12 g منه في 400 mL من الماء. علمًا

أن (الكتلة المولية للحمض $CH_3COOH = 60 \text{ g/mol}$ ، $\log 2.9 = 0.46$).


5. **أطبّق** بيّن الجدول قيم K_b لعدد من القواعد الضعيفة (عند التركيز نفسه). أدرسها، ثم أجيب عن الأسئلة الآتية:

أ. أكتب صيغة الحمض المرافق الذي لقاعدته أقل pH.

ب. أحدد أي القواعد يحتوي محلولها على أقل تركيز من H_3O^+ .

ج. أستنتج أي القواعد أكثر تأينًا في الماء.

د. أكمل المعادلة الآتية، ثم أعين الزوجين المترافقين:



هـ. أحسب كتلة القاعدة N_2H_4 اللازم إضافتها إلى 400 mL من الماء لتحضير محلول منها؛ رقمه الهيدروجيني

يساوي 9.4 (علمًا أن الكتلة المولية للقاعدة N_2H_4 تساوي 32 g/mol ، وأن $\log 3.9 = 0.6$).

K_a	الحمض
6.3×10^{-5}	C_6H_5COOH
4.5×10^{-4}	HNO_2
1.7×10^{-5}	CH_3COOH
4.9×10^{-10}	HCN

K_b	القاعدة
4.4×10^{-4}	CH_3NH_2
1.8×10^{-5}	NH_3
1.7×10^{-6}	N_2H_4
1.4×10^{-9}	C_5H_5N

6. أختار الاجابة الصحيحة لكل فقرة مما يأتي:

1. محلول حمض افتراضي قيمة ثابت التأيّن K_a له 2×10^{-2} ، وتركيز أيونات H_3O^+ فيه $2 \times 10^{-3}M$ ، فإن

تركيز هذا الحمض (M) يساوي:

أ . 2×10^{-4} ب. 2×10^{-2} ج. 1×10^{-1} د . 1×10^{-3}

* أدرس المعلومات الواردة في الجدول لحموض افتراضية متساوية التركيز، وأجيب عن الفقرات الآتية

(2، 3، 4، 5).

HD	HC	HB	HA	محلول الحمض (1 M)
6.5	1.2	3	5.3	pH

2. محلول الحمض الأقوى، هو:

أ . HA ب. HB ج. HC د . HD

3. محلول الحمض الذي يكون فيه أقل تركيز لأيونات H_3O^+ ، هو:

أ . HA ب. HB ج. HC د . HD

4. محلول الحمض الذي يكون فيه تركيز أيونات OH^- يساوي $1 \times 10^{-11}M$ ، هو:

أ . HA ب. HB ج. HC د . HD

5. قيمة K_a لمحلول الحمض HB تساوي:

أ . 1×10^{-6} ب. 1×10^{-3} ج. 1×10^{-8} د . 1×10^{-5}

الأملاح والأيون المشترك

Salts and Common Ion

4 الدرس

محاليل الأملاح Salts Solutions

تُعَدُّ الأملاح من المواد الأساسية المكوّنة لجسم الإنسان، ويحصل عليها عن طريق الغذاء. وللأملاح دورٌ مهمٌّ في تنظيم الكثير من العمليات الحيوية التي تحدث في الجسم؛ فأملح الكالسيوم تدخل في تركيب العظام والأسنان، وأملاح الصوديوم تساعد على حفظ التوازن المائي داخل الخلية وخارجها، وتعمل على تنظيم ضغط الدم، كما تساعد أملاح البوتاسيوم على ضبط وظائف العضلات وتوسيع الأوعية الدموية لتسهيل انتقال الدم، وتُستعمل الأملاح في صناعة الكثير من الأدوية، ومستحضرات التجميل، وغيرها، ويبيّن الشكل (8) بعض الأملاح المستخدمة في الصناعات المختلفة. فما المقصود بالأملاح؟ وما أهم خصائصها؟

الخصائص الحمضية والقاعدية للأملاح:

Acidic and basic properties of salts

فسّر مفهوم برونستد-لوري سلوك كثير من الحموض والقواعد وفقاً لقدرتها على منح البروتون أو استقباله، كما فسّر الخصائص الحمضية والقاعدية للأملاح تبعاً لقدرة أيوناتها على منح البروتون أو استقباله في التفاعل؛ فالأملاح Salts مركّبات أيونية تنتج من تفاعل محلول حمض مع محلول قاعدة بوجه عام، وعند إذابتها في الماء تفككُ منتجةً أيونات موجبةً وأخرى سالبة، وقد تتفاعل هذه الأيونات مع الماء وتنتج أيونات H_3O^+ أو OH^-

الفكرة الرئيسة:

للكثير من الأملاح خصائص حمضية أو قاعدية، حيث تُغيّر من الرقم الهيدروجيني للمحلول الذي تُضاف إليه، وينتج عن ذوبان الملح في محلول حمضه الضعيف أو اذابة الملح في محلول قاعدته الضعيفة ما يسمى بالأيون المشترك..

نتائج التعلم:

- أوّضح المقصود بكلّ من: التميّه، الأيون المشترك.
- أفسّر خصائص الملح الحمضية أو القاعدية.
- أحسب الرقم الهيدروجيني لمحلول حمض ضعيف أو قاعدة ضعيفة عند إضافة كمية من الملح.

المفاهيم والمصطلحات:

Hydrolysis	التميّه
Common Ion	الأيون المشترك

الشكل (8): بعض
الأملاح المستخدمة في
الصناعات المختلفة.




في ما يُعرف بعملية التَّمْيِه **Hydrolysis**. وتتفاوت الأملاح في قدرتها على التفكك، وفي درسنا هذا سوف ندرس الأملاح على فرض أنها تتفكك كلياً.

تختلف طبيعة الملح وسلوكه تبعاً لمصدر أيوناته من الحمض والقاعدة وقدرتها على التفاعل مع الماء، فبعض الأملاح لا تَتَمْيِه في الماء، لذا لا تنتج أيونات H_3O^+ أو OH^- ؛ فهي ذات طبيعة متعادلة، مثل كلوريد الصوديوم $NaCl$ ، وبعضها الآخر يَتَمْيِه في الماء، فينتج أيونات H_3O^+ ، فيكون له خصائص حمضية، مثل كلوريد الأمونيوم NH_4Cl ، أو ينتج أيونات OH^- ، وله خصائص قاعدية، مثل فلوريد البوتاسيوم KF ، وستعرّف في ما يأتي خصائص بعض هذه الأملاح.

الأملاح المتعادلة Neutral Salts

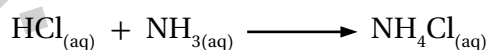
تنتج الأملاح المتعادلة عند تعادل حمض قوي مع قاعدة قوية. فمثلاً؛ ينتج ملح بروميد الصوديوم $NaBr$ من تعادل محلول الحمض القوي HBr مع محلول القاعدة القوية $NaOH$ ، كما في المعادلة الآتية:



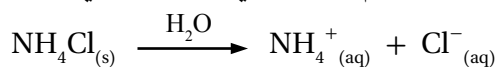
بالتحقيق في صيغة الملح $NaBr$ ؛ نجد أنه يتكوّن من أيون البروميد Br^- ، وهو قاعدة مرافقة ضعيفة للحمض القوي الهيدروبروميك HBr ، لا يمكنه استقبال البروتون في المحلول، فلا يتفاعل مع الماء، ولا يؤثر في تركيز أيونات OH^- أو H_3O^+ ، أمّا الأيون Na^+ فمصدره القاعدة القوية هيدروكسيد الصوديوم $NaOH$ ، وليس له القدرة على التفاعل مع الماء، فلا يؤثر في تركيز أيونات H_3O^+ أو OH^- في المحلول، ومن ثمّ فإنّ تراكيز أيونات H_3O^+ وأيونات OH^- تبقى ثابتة في الماء، وبذلك يكون الرّفم الهيدروجيني لمحاليل الأملاح الناتجة من تفاعل حمض قوي وقاعدة قوية، مثل الملح بروميد الصوديوم $NaBr$ ؛ يساوي 7، وتكون محاليلها متعادلة.

الأملاح الحمضية Acidic Salts

تنتج الأملاح الحمضية من تفاعل حمض قوي مع قاعدة ضعيفة. فمثلاً؛ ينتج ملح كلوريد الأمونيوم NH_4Cl من تفاعل حمض الهيدروكلوريك HCl مع الأمونيا NH_3 ، كما في المعادلة الآتية:

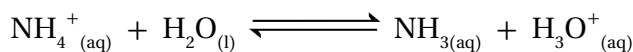


وعند تفكك الملح الحمضي يكون الأيون السالب قاعدة مرافقة ضعيفة لحمض قوي؛ فلا يتفاعل مع الماء، بينما يسلك الأيون الموجب كحمض مرافق قوي للقاعدة الضعيفة، ويتفاعل مع الماء وينتج أيون الهيدرونيوم H_3O^+ . فمثلاً؛ يذوب ملح كلوريد الأمونيوم NH_4Cl في الماء، كما في المعادلة الآتية:



يلاحظ أنّ أيون الكلوريد Cl^- قاعدة مرافقة ضعيفة لحمض الهيدروكلوريك

القوي HCl وليس له القدرة على استقبال البروتون في المحلول؛ أي أنه لا يتفاعل مع الماء، في حين أن أيون الأمونيوم NH_4^+ حمض مرافق قوي نسبياً للقاعدة الضعيفة الأمونيا NH_3 ، يمكنه منح البروتون للماء في المحلول منتجاً أيونات الهيدرونيوم H_3O^+ ، كما في المعادلة الآتية:



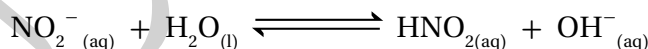
وبذلك يزداد تركيز H_3O^+ في المحلول، ويقل الرّقم الهيدروجيني، ويكون محلول الملح حمضياً.

الأملاح القاعدية Basic Salts

تنتج الأملاح القاعدية من تفاعل قاعدة قوية مع حمض ضعيف، وعند تفكك الملح القاعدي يكون الأيون الموجب الناتج ضعيفاً ومصدره قاعدة قوية فلا يتفاعل مع الماء، بينما يسلك الأيون السالب كقاعدة مرافقة قوية للحمض الضعيف، ويتفاعل مع الماء وينتج أيون الهيدروكسيد OH^- . فمثلاً؛ يذوب ملح نترات البوتاسيوم KNO_2 في الماء ويتفكك، كما في المعادلة الآتية:



يكون مصدر أيونات البوتاسيوم K^+ القاعدة القوية هيدروكسيد البوتاسيوم KOH، لذا؛ فهي لا تتفاعل مع الماء ولا تؤثر في تركيز أيونات H_3O^+ أو OH^- في المحلول، أما أيونات النترات NO_2^- فهي قاعدة مرافقة قوية نسبياً لحمض النيتروجين (III) الضعيف HNO_2 ، لذا؛ تتفاعل مع الماء، كما في المعادلة الآتية:



يتضح من المعادلة أن تركيز أيونات الهيدروكسيد OH^- يزداد في المحلول، وبذلك يزداد الرّقم الهيدروجيني pH، ويكون محلول الملح قاعدياً.

نستنتج ممّا سبق؛ أن بعض الأملاح تذوب في الماء وتتفكك إلى أيونات سالبة وأخرى موجبة، وتنتشر بين جزيئات الماء دون أن تتفاعل معها، مثل ملح كلوريد الصوديوم NaCl، وهذا ما يُعرف بالذوبان، أما في التميّة فإن الأيونات الناتجة من تفكك الملح تتفاعل مع الماء وتغيّر من تركيز أيونات OH^- أو H_3O^+ ، ومن ثمّ تؤثر في الرّقم الهيدروجيني للمحلول الناتج، وبهذا يكون لمحاليل الاملاح تأثير حمضي أو قاعدي أو متعادل، ويعتمد ذلك على مصدر أيونات الملح من الحمض والقاعدة. أنظر الجدول (10).

الجدول (10): سلوك الملح تبعاً لمصدر أيوناته.

تأثير محلول الملح	مصدر أيونات الملح من الحمض والقاعدة	
متعادل	قاعدة قوية	حمض قوي
حمضي	قاعدة ضعيفة	حمض قوي
قاعدي	قاعدة قوية	حمض ضعيف

أفكر: ما الحمض والقاعدة اللذان ينتج من تفاعلها ملح كربونات الليثيوم الهيدروجينية LiHCO_3 ؟

✓ **أنتحق:**

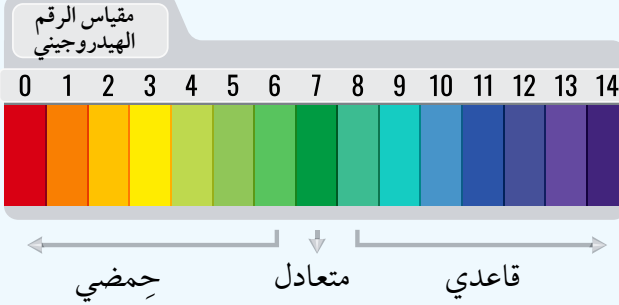
- 1- أوضّح الفرق بين الذوبان والتميّة.
- 2- أحدد الخصائص الحمضية والقاعدية والمتعادلة لمحاليل الأملاح الآتية: $\text{N}_2\text{H}_5\text{NO}_3$, KNO_3 , NaF , $\text{CH}_3\text{NH}_3\text{Cl}$
- 3- أفسّر التأثير القاعدي لمحلول الملح NaOCl.

التجربة 2

تَمْيُّهُ الأَمْلَاحِ

المواد والأدوات:

كميات مناسبة من الأملاح الآتية: كلوريد الصوديوم NaCl، كلوريد الأمونيوم NH₄Cl، كربونات الصوديوم الهيدروجينية NaHCO₃، إيثانوات الصوديوم CH₃COONa، محلول أو أوراق الكاشف العام، كأس زجاجية 100 mL عدد (5)، قطع ورق لاصق، ماء مُقَطَّر، قَطَّارة، ملعقة تحريك، ميزان حسَّاس، مِخْبَار مُدْرَج.



إرشادات السلامة:

- أتبع إرشادات السلامة العامة في المختبر.
- ارتدي معطف المختبر والنظارات الواقية والقفازات.
- تعامل مع المواد الكيميائية بحذر.

خطوات العمل:

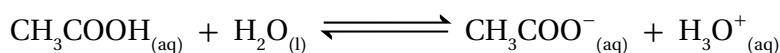
- 1- أكتب اسم كل ملح وصيغته الكيميائية على قطعة الورق اللاصق وأصقها على أحد الكؤوس، ثم أصق على الكأس الأخيرة ورقة كتبت عليها ماء مُقَطَّر.
- 2- **أقيس:** أضع باستخدام المخبر المُدْرَج 20 mL من الماء المُقَطَّر، في كل كأس زجاجية.
- 3- **ألاحظ:** أضيف، باستخدام القَطَّارة، قطرتين من محلول الكاشف العام إلى كل كأس زجاجية، وأحرّكها باستخدام ملعقة التحريك. ألاحظ لون المحلول وأُسجِّله.
- 4- **أقيس** 3 g من ملح كلوريد الأمونيوم NH₄Cl، وأضيفها إلى الكأس المخصَّص لها، ثم أحرّك المحلول، وأُسجِّل اللون الذي يظهر فيه.
- 5- **ألاحظ:** أكرِّر الخطوة (4) مع بقية الأملاح في الكؤوس الأخرى، وألاحظ تغيُّر ألوان المحاليل، وأُسجِّل ملاحظاتي.

التحليل والاستنتاج:

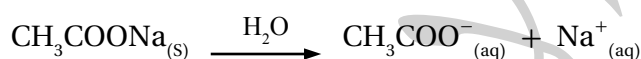
1. أصبف ألوان محاليل الأملاح في التجربة بعد إضافة الكاشف لكل منها.
2. **أفسر** تشابه لون محلول كلوريد الصوديوم NaCl بعد إضافة الكاشف إليه. ولون محلول الكاشف في الماء المُقَطَّر.
3. **أصنّف** محاليل الأملاح في التجربة إلى حمضية، أو قاعدية، أو متعادلة.
4. **أتوقع** قيمة pH لكل محلول في التجربة بالاعتماد على الألوان المعيارية للكاشف العام في المحاليل المختلفة.
5. **أفسر:** أكتب معادلة كيميائية أفسر بواسطتها السلوك الحمضي أو القاعدي لكل محلول.

تأثير الأيون المشترك: Common Ion Effect

توجد محاليل الحموض الضعيفة ومحاليل القواعد الضعيفة في حالة اتزان ديناميكي، ويمكن التأثير في موضع الاتزان -وفقاً لمبدأ لوتشاتيليه- بطرائق عدة؛ منها إضافة مادة إلى التفاعل تؤثر في موضع الاتزان. فمثلاً؛ يتأين حمض الإيثانويك CH_3COOH في الماء وفقاً للمعادلة الآتية:



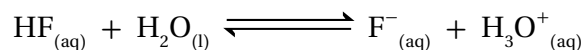
وتكون الأيونات الناتجة (CH_3COO^- , H_3O^+) في حالة اتزان مع جزيئات الحمض غير المتأينة CH_3COOH ، وعند إضافة ملح إيثانوات الصوديوم إلى المحلول يتفكك كلياً، وفق المعادلة الآتية:



يتضح من المعادلتين السابقتين أن الأيون CH_3COO^- ينتج من كل من الحمض CH_3COOH ، والملح CH_3COONa ؛ فهو يدخل في تركيب كل منهما، ويسمى **الأيون المشترك Common Ion**، وعند إضافة الأيون CH_3COO^- إلى محلول الحمض الضعيف CH_3COOH يعمل على إزاحة موضع الاتزان نحو اليسار، ويؤدي إلى تغيير تراكيز المواد في المحلول، وهو ما يسمى تأثير الأيون المشترك **Common Ion Effect**. فما أثر إضافة أيون مشترك على تراكيز كل من أيونات H_3O^+ وأيونات OH^- في المحلول؟

الأثر القاعدي للأيون المشترك The basic Effect of Common Ion

يوجد حمض الهيدروفلوريك في حالة اتزان؛ حيث تكون الأيونات الناتجة من تأين الحمض في حالة اتزان مع جزيئات الحمض غير المتأين، كما في المعادلة الآتية:



وعند إضافة ملح فلوريد الصوديوم NaF إلى محلول الحمض يتفكك، وفق المعادلة الآتية:

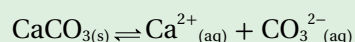
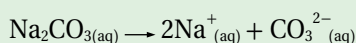


يتضح من المعادلتين السابقتين أن هناك مصدرين للأيون F^- ؛ أحدهما الحمض HF ، والآخر الملح NaF ؛ وبذلك يكون F^- الأيون المشترك في المحلول، وإن إضافة الملح NaF إلى محلول الحمض الضعيف HF تؤدي إلى زيادة تركيز الأيون المشترك F^- في المحلول، ووفقاً لمبدأ لوتشاتيليه؛ فإن موضع الاتزان يزاح إلى

الربط مع علوم الأرض والبيئة

معالجة المياه

تحتوي المياه في المناطق التي توجد فيها صخور جيرية على نسبة عالية من أيونات الكالسيوم التي تسبب عسر الماء، ولتقليل هذه النسبة؛ يضاف ملح كربونات الصوديوم الذي يتفكك كلياً ويزيد من تركيز أيونات الكربونات في الماء فيندفع التفاعل في محلول كربونات الكالسيوم بالاتجاه العكسي ويسبب ترسبها ويقل تركيز أيون الكالسيوم كما في التفاعلات:



جهة اليسار (جهة المواد المتفاعلة)؛ فيقلل من تأين الحمض الضعيف HF، كما أنه يقلل من تركيز أيونات H_3O^+ ، ويزيد من الرقم الهيدروجيني للمحلول، ويمكن حساب تركيز أيونات H_3O^+ والرقم الهيدروجيني pH للمحلول عند إضافة الملح، كما في الأمثلة الآتية:

المثال 22

أحسب التغير في الرقم الهيدروجيني لمحلول الحمض الضعيف CH_3COOH ، حيث تركيزه $0.1 M$ ، ورقمه الهيدروجيني $pH = 2.9$ ، إذا أُضيف إلى لتر منه $0.2 mol$ من ملح إيثانوات الصوديوم CH_3COONa . علمًا أن $K_a = 1.7 \times 10^{-5}$ (أهمل التغير في الحجم)، $\log 8.5 = 0.93$.

تحليل السؤال: $[CH_3COOH] = 0.1 M$

حجم المحلول $1 L$

عدد مولات الملح $0.2 mol = CH_3COONa$

$$[CH_3COONa] = \frac{n}{v} = \frac{0.2}{1} = 0.2 M$$

$$K_a = 1.7 \times 10^{-5}$$

الرقم الهيدروجيني قبل إضافة الملح: $pH = 2.9$

الرقم الهيدروجيني بعد إضافة الملح: $pH = ?$

المطلوب: حساب التغير في الرقم الهيدروجيني ΔpH

الحل:



أكتب معادلة تأين الحمض:

عند إضافة الملح CH_3COONa يتفكك، كما في المعادلة الآتية:



يتضح من المعادلتين السابقتين أن الأيون المشترك CH_3COO^- ينتج من تأين الحمض CH_3COOH ، وتفكك الملح CH_3COONa . ولأن ثابت تأين الحمض صغير جدًا؛ فإن تركيز أيونات CH_3COO^- الناتج من تأينه يكون صغيرًا جدًا يمكن إهماله، ويعدُّ الملح المصدر الرئيس لهذه الأيونات، لذلك فإن تركيز الأيون المشترك CH_3COO^- يكون مساويًا لتركيز الملح CH_3COONa في المحلول؛ أي أن:

$$[CH_3COO^-] = [CH_3COONa] = 0.2 M$$

أستخدم ثابت تأين الحمض K_a لحساب تركيز H_3O^+ ، كما يأتي:

$$K_a = \frac{[H_3O^+][CH_3COO^-]}{[CH_3COOH]}$$

$$1.7 \times 10^{-5} = \frac{[H_3O^+](0.2)}{0.1}$$

$$[H_3O^+] = 8.5 \times 10^{-6} M$$

أحسب الرّقم الهيدروجيني pH، للمحلول بعد إضافة الملح كما يأتي:

$$\text{pH} = -\log [\text{H}_3\text{O}^+]$$

$$\text{pH} = -\log (8.5 \times 10^{-6}) = 6 - \log 8.5 = 6 - 0.93 = 5.07$$

أحسب التغيّر في الرّقم الهيدروجيني ΔpH باستخدام العلاقة الآتية:

$$\Delta\text{pH} = 5.07 - 2.9 = 2.17$$

وهذا يشير إلى حدوث زيادة في الرّقم الهيدروجيني بمقدار 2.17؛ بسبب إضافة الأيون المشترك إلى محلول الحمض.

المثال 23

أحسب الرّقم الهيدروجيني لمحلول مكوّن من الحمض HNO_2 تركيزه 0.085 M والملح KNO_2 تركيزه 0.1 M (علماً أنّ $\log 3.825 = 0.58$, $K_a = 4.5 \times 10^{-4}$).

تحليل السؤال $[\text{HNO}_2] = 0.085 \text{ M}$

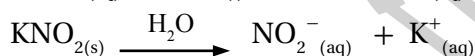
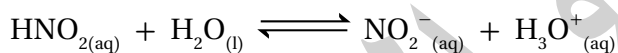
$$[\text{KNO}_2] = 0.1 \text{ M}$$

$$K_a = 4.5 \times 10^{-4}$$

المطلوب: حساب الرّقم الهيدروجيني لمحلول الحمض والملح.

الحل:

أكتب معادلة كل من الحمض والملح:



لحساب الرّقم الهيدروجيني pH للمحلول، أحسب $[\text{H}_3\text{O}^+]$ باستخدام K_a ، كما يأتي:

$$K_a = \frac{[\text{H}_3\text{O}^+][\text{NO}_2^-]}{[\text{HNO}_2]}$$

$$4.5 \times 10^{-4} = \frac{[\text{H}_3\text{O}^+](0.1)}{0.085}$$

$$[\text{H}_3\text{O}^+] = 3.825 \times 10^{-4} \text{ M}$$

أحسب الرّقم الهيدروجيني للمحلول، كما يأتي:

$$\text{pH} = -\log [\text{H}_3\text{O}^+]$$

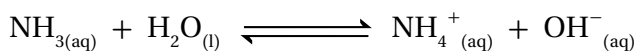
$$\text{pH} = -\log (3.825 \times 10^{-4}) = 4 - 0.58 = 3.42$$

✓ **أنحقّق.** أحسب التغيّر في الرّقم الهيدروجيني لمحلول الحمض HF، الذي تركيزه 0.2 M وحجمه 400 mL ، إذا أُضيفَ

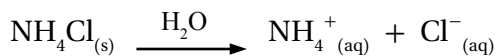
إليه 0.2 mol من الملح NaF. (علماً أنّ $\log 1.16 = 0.06$, $\log 2.72 = 0.43$, $K_a = 6.8 \times 10^{-4}$).

الأثر الحمضي للأيون المشترك: The Acidic Effect of Common Ion

تتأين القواعد الضعيفة جزئياً في الماء؛ فنتج أيونات الهيدروكسيد OH^- وأيونات أخرى موجبة، وتكون تراكيز الأيونات الناتجة في حالة اتزان مع جزيئات القاعدة غير المتأينة في المحلول. فمثلاً؛ تتأين الأمونيا، كما في المعادلة الآتية:



وعند إضافة ملح، مثل كلوريد الأمونيوم NH_4Cl إلى محلول القاعدة يتفكك، كما في المعادلة الآتية:



يتضح من المعادلتين السابقتين أن هناك مصدرين للأيون NH_4^+ ؛ أحدهما القاعدة NH_3 ، والآخر الملح NH_4Cl ، وبذلك يكون NH_4^+ الأيون المشترك في المحلول، وعند إضافة الملح NH_4Cl إلى محلول القاعدة الضعيفة NH_3 يزداد تركيز الأيون المشترك، ووفقاً لمبدأ لوتشاتلييه فإن موضع الاتزان يُزاح إلى جهة اليسار (جهة المواد المتفاعلة)؛ فيقلل من تأين القاعدة الضعيفة NH_3 ، ويقلل في الوقت نفسه من تركيز أيونات OH^- ، ومن ثم يزداد تركيز أيونات H_3O^+ ، ويقل الرقم الهيدروجيني pH للمحلول. والأمثلة الآتية توضح كيفية حساب تركيز أيونات OH^- و H_3O^+ والرقم الهيدروجيني pH لمحلول القاعدة الضعيفة عندما يُضاف إليه أيون مشترك.



أصمّم - باستخدام

برنامج صانع الأفلام

(Movie Maker) - فيلماً قصيراً

لتوضيح الخصائص الحمضية

والقاعدية للأملاح والأيون

المشترك، ثم أشاركهُ زملائي /

زميلاتي في الصف.

المثال 24

أحسب التغير في الرقم الهيدروجيني لمحلول الأمونيا NH_3 ، الذي حجمه 1 L وتركيزه 0.1 M، ورقمه الهيدروجيني pH تقريباً 11.13، إذا أُضيف إليه 0.2 mol من ملح كلوريد الأمونيوم NH_4Cl . (علماً أن $\log 1.1 = 0.04$ ، $K_b = 1.8 \times 10^{-5}$ ، أهمل التغير في الحجم).

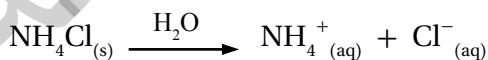
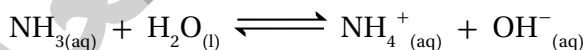
تحليل السؤال: $[\text{NH}_3] = 0.1 \text{ M}$ عدد مولات الملح = 0.2 mol، حجم المحلول = 1L

$$K_b = 1.8 \times 10^{-5}$$

المطلوب: حساب التغير في الرقم الهيدروجيني لمحلول القاعدة.

الحل:

أكتب معادلة تأين كل من القاعدة والملح، كما يأتي:



$$[\text{NH}_4\text{Cl}] = [\text{NH}_4^+] = \frac{n}{v} = \frac{0.2 \text{ mol}}{1 \text{ L}} = 0.2 \text{ M}$$

أحسب تركيز الملح كما يأتي:

$$K_b = \frac{[\text{OH}^-][\text{NH}_4^+]}{[\text{NH}_3]}$$

أستخدم ثابت تأين القاعدة لحساب $[\text{OH}^-]$ ، كما يأتي:

$$[\text{OH}^-] = \frac{K_b [\text{NH}_3]}{[\text{NH}_4^+]} = \frac{1.8 \times 10^{-5} \times 0.1}{0.2} = 0.9 \times 10^{-5} \text{ M}$$

أحسب $[\text{H}_3\text{O}^+]$ باستخدام ثابت تأين الماء K_w ، كما يأتي:

$$K_w = [\text{H}_3\text{O}^+] [\text{OH}^-]$$

$$[\text{H}_3\text{O}^+] = \frac{K_w}{[\text{OH}^-]} = \frac{1 \times 10^{-14}}{0.9 \times 10^{-5}} = 1.1 \times 10^{-9} \text{ M}$$

أحسب الرقّم الهيدروجيني pH للمحلول، كما يأتي:

$$\text{pH} = -\log[\text{H}_3\text{O}^+] = -\log(1.1 \times 10^{-9}) = 9 - 0.04 = 8.96$$

ألاحظ تغير قيمة pH من 11.13 إلى 8.96 أي أنها نقصت بمقدار 2.17

المثال 25

أحسب عددَ مولات الملح $\text{CH}_3\text{NH}_3\text{Br}$ اللازم إضافتها إلى 400 mL من محلول القاعدة CH_3NH_2 التي تركيزها 0.1 M، ليصبح رَقْمُه الهيدروجيني 10.5 (علمًا أن: $\log 3.2 = 0.5$ ، $K_b = 4.4 \times 10^{-4}$ ، أهمل التغير في الحجم).

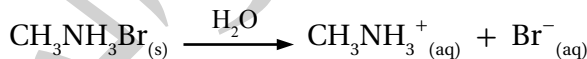
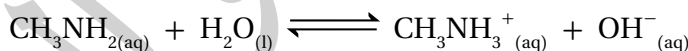
تحليل السؤال:

$$[\text{CH}_3\text{NH}_2] = 0.1 \text{ M}، \text{pH} = 10.5، \log 3.2 = 0.5، K_b = 4.4 \times 10^{-4}$$

حجم القاعدة = 400 mL

المطلوب: حساب عدد مولات الملح $\text{CH}_3\text{NH}_2\text{Br}$.

الحل: أكتب معادلة تأين كلٍّ من القاعدة والملح، كما يأتي:



أستخدم pH لحساب تركيز H_3O^+ :

$$[\text{H}_3\text{O}^+] = 10^{-\text{pH}} = 10^{-10.5} = 10^{0.5} \times 10^{-11} = 3.2 \times 10^{-11} \text{ M}$$

أحسب تركيز OH^- باستخدام ثابت تأين الماء K_w :

$$[\text{OH}^-] = \frac{K_w}{[\text{H}_3\text{O}^+]} = \frac{1 \times 10^{-14}}{3.2 \times 10^{-11}} = 3.1 \times 10^{-4} \text{ M}$$

أطبّق ثابت تأين القاعدة K_b لحساب تركيز الملح (الأيون المشترك):

$$K_b = \frac{[\text{OH}^-][\text{CH}_3\text{NH}_3^+]}{[\text{CH}_3\text{NH}_2]}$$

$$4.4 \times 10^{-4} = \frac{3.1 \times 10^{-4} [\text{CH}_3\text{NH}_3^+]}{0.1}$$

$$[\text{CH}_3\text{NH}_3^+] = 1.42 \times 10^{-1} \text{ M} = 0.142 \text{ M}$$

أحسب عددَ مولات الملح، كما يأتي:

$$n = M \cdot v = 0.142 \text{ M} \times 0.4 \text{ L} = 0.057 \text{ mol}$$

✓ **أتحقّق:**

أحسب الرقّم الهيدروجيني pH

لمحلول القاعدة N_2H_4 الذي

تركيزه 0.4 M عند إضافة

0.2 mol من الملح $\text{N}_2\text{H}_5\text{Cl}$

إلى 500 mL منه. (علمًا أن:

$\log 5.88 = 0.77$ ، $K_b = 1.7 \times 10^{-6}$

أهمل التغير في الحجم).

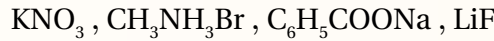
مراجعة الدرس

1. الفكرة الرئيسة: أَوْضِّحْ أثر الأيون المشترك في الرقم الهيدروجيني للمحاليل.

2. أَوْضِّحْ المقصودَ بكلِّ ممَّا يأتي:

• التَّمْيُّهُ • الأيون المشترك

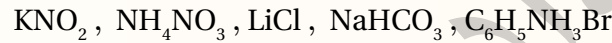
3. أَحَدِّدْ مصدرَ الأيونات لكلِّ من الأملاح الآتية:



4. أَحَدِّدْ الملحَ الذي يَتَمَيَّهُ في الماء من الأملاح الآتية:



5. أَصَنِّفْ محاليلَ الأملاح الآتية إلى حِمُضِيَّةٍ وقَاعِدِيَّةٍ ومتعادلة:




6. أَوْضِّحْ أثرَ إضافة كميَّة قليلة من بلورات الملح الصُّلب NaHS في قيمة pH لمحلول حمض H_2S .

7. **أستخدم الأرقام.** أَحسب كتلة الملح KNO_2 اللازم إضافتها إلى 400 mL من محلول HNO_2 تركيزه 0.02 M لتصبح

قيمة pH للمحلول 3.52. علمًا أنَّ $\log 3 = 0.48$ ، $K_a = 4.5 \times 10^{-4}$ ، الكتلة المولية (Mr) للملح = 85 g/mol

8. **أستخدم الأرقام.** أَحسب نسبة الملح إلى القاعدة في محلول رَقْمُهُ الهيدروجيني يساوي 10 مكوَّن من القاعدة



9. **أستخدم الأرقام.** محلول حجمه 0.5 L مكوَّن من القاعدة $\text{C}_2\text{H}_5\text{NH}_2$ تركيزها 0.2 M ، والملح $\text{C}_2\text{H}_5\text{NH}_3\text{Cl}$

تركيزه 0.4 M ، علمًا أنَّ $K_b = 4.7 \times 10^{-4}$ ، $\log 2 = 0.3$ ، $\log 4.3 = 0.63$ ، $\log 1.1 = 0.04$.

أ. أَحسب الرِّقْمَ الهيدروجيني للمحلول.

ب. اكتب صيغة الأيون المشترك.

10. أختار الاجابة الصحيحة لكل فقرة مما يلي :

1. محلول يتكوّن من حمض الهيدروسيانيك HCN تركيزه (1M) وملح سيانيد الصوديوم NaCN. إذا كانت

قيمة pH للمحلول تساوي (6) فإن تركيز الملح (M) يساوي: ($K_a = 4.9 \times 10^{-10}$ ، أهمل التغيّر في الحجم)

أ . 3×10^{-6} ب. 2.8×10^{-3} ج. 1×10^{-10} د . 4.9×10^{-4}

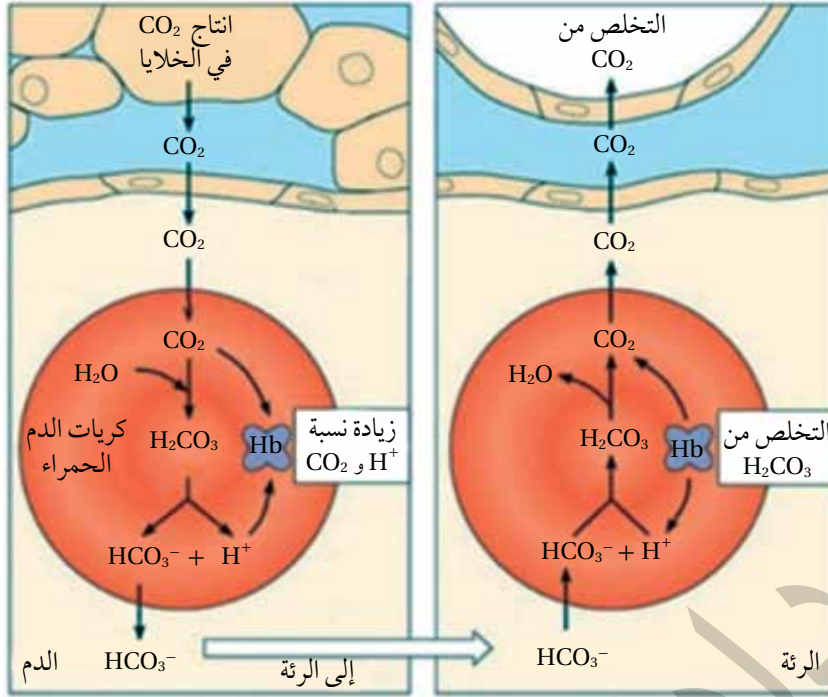
2. إذا كانت قيمة pH تساوي (6) لمحلول مكوّن من الحمض HA والملح KA لهما التركيز نفسه، فإن قيمة ثابت

التأين K_a للحمض تساوي:

أ . 1×10^{-4} ب. 1×10^{-6} ج. 1×10^{-8} د . 1×10^{-10}

3. أثر إضافة ملح كلوريد الأمونيوم NH_4Cl إلى محلول الأمونيا NH_3 هو:

أ . نقصان $[H_3O^+]$ ب. زيادة $[H_3O^+]$ ج. زيادة قيمة pH د . نقصان $[NH_4^+]$



يحتوي الدم على عدد من المحاليل المنظمة، تحافظ على قيم الرقم الهيدروجيني بين (7.35-7.45)، وهذا نطاق ضيق تحدث فيه جميع التغيرات الكيميائية الحيوية في الجسم، وفي حال زيادة الرقم الهيدروجيني أعلى من 7.8 أو انخفاضه إلى أقل من 6.8 يختل النظام الحيوي في الجسم، وقد يؤدي ذلك إلى الوفاة، لذلك يقوم الجسم بضبط قيمة pH عن طريق عمليات حيوية مختلفة.

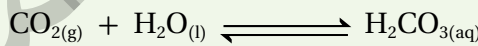
يُعدُّ محلول حمض الكربونيك وقاعدته المرافقة (H_2CO_3/HCO_3^-) أحد أهم

المحاليل المنظمة في الدم، والمعادلة الآتية تمثل تأين حمض الكربونيك:



تؤدي زيادة الأنشطة التي يمارسها الشخص إلى زيادة معدل التنفس اللاهوائي في الخلايا، وزيادة إنتاج ثاني أكسيد

الكربون CO_2 ، حيث يندفع إلى الدم ويتفاعل مع الماء ويؤدي إلى زيادة تركيز H_2CO_3 .



وعند زيادة تركيز أيونات H_3O^+ في الدم؛ يعمل المحلول المنظم على التخلص من تلك الزيادة، وذلك عن طريق

إزاحة موضع الاتزان إلى جهة اليسار نحو تكوين حمض الكربونيك H_2CO_3 ؛ فيزداد تركيزه في الدم، ويقل بذلك تركيز

HCO_3^- ، ويقل تركيز أيونات H_3O^+ ، مما يحفز الكلى إلى إنتاج أيونات HCO_3^- لتعويض النقص في تركيزها، وتعمل

الرئة على امتصاص الزيادة في تركيز حمض الكربونيك في الدم؛ حيث يتفكك حمض الكربونيك في الرئة إلى ثاني

أكسيد الكربون CO_2 وبخار الماء، ويجري التخلص منهما عن طريق التنفس. وتستمر إزاحة موضع الاتزان مرةً نحو

اليسار وأخرى نحو اليمين؛ مما يساعد على بقاء تركيز أيونات H_3O^+ ثابتاً نسبياً، ويحافظ على مدى ثابت من الرقم

الهيدروجيني في الدم.

وبهذا؛ فإن الكلى تعمل على ضبط تركيز أيونات HCO_3^- زيادة أو نقصاناً، أما الرئة فتعمل على ضبط تركيز ثاني

أكسيد الكربون في الخلايا وتركيز حمض الكربونيك في الدم.

مراجعة الوحدة

1. أَوْضِحْ المقصود بكلِّ ممَّا يأتي:

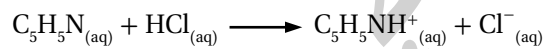
• قاعدة أرهينيوس • حمض لويس

2. **أفسر:**

أ. السلوك الحمضي لمحلول HNO_2 حسب مفهوم برونستد-لوري.

ب. السلوك الأمفوتيري للأيون HS^- عند تفاعله مع كلِّ من HCl و NO_2^- .

3. أحدد الأزواج المترافقة في التفاعلات الآتية:



4. أحدد حمض لويس وقاعدته في التفاعل الآتي:

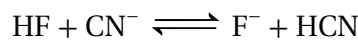
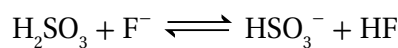
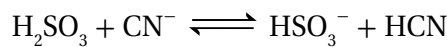


5. **أستخدم الأرقام.** أحسب الرقم الهيدروجيني pH

لمحلول هيدروكسيد الصوديوم NaOH الذي يتكوّن من إذابة 0.4 g منه في 200 mL من الماء. علمًا أن الكتلة المولية للقاعدة $\text{NaOH} = 40 \text{ g/mol}$ ، $\log 5 = 0.7$.

6. تمثّل المعادلات الآتية تفاعلات لمحاليل الحموض

(H_2SO_3 ، HCN ، HF) المتساوية التركيز، حيث كان موضع الاتزان مزاغًا فيها جهة المواد الناتجة للتفاعلات كافة. أدرس التفاعلات، ثمّ أجب عن الأسئلة التي تليها:



أ. أكتب صيغة القاعدة المرافقة الأقوى بينها.

ب. أكتب صيغة الحمض الذي له أعلى قيمة K_a .

ج. أحدد أيّ المحلولين يكون فيه $[\text{OH}^-]$ الأقل:

محلول HF أم محلول HCN.

د. أحدد أيّ محاليل الحموض المذكورة له أعلى pH.

7. **أستخدم الأرقام.** محلول حجمه 1 L يتكوّن من 0.1 M

من حمض RCOOH ، ورقمته الهيدروجيني $\text{pH} = 4$ ، أُضيفت إليه كمية من الملح RCOONa ؛ فتغيّرت قيمة pH بمقدار 3.17 درجة. أحسب عدد مولات الملح المُضاف. علمًا أن $\log 6.8 = 0.83$. (أهمل التغير في الحجم)

8. بيّن الجدول الآتي الرقم الهيدروجيني لعدد من

المحاليل المختلفة المتساوية التركيز. أدرسه، ثمّ اختار منه المحلول الذي يعد مثال على كل مما يأتي:

المحلول	A	B	C	D	E	F
قيمة pH	9	7	12	5	0	1

أ. قاعدة يكون فيها $[\text{OH}^-] = 1 \times 10^{-5} \text{ M}$

ب. المحلول الذي يمثل الملح KBr

ج. محلول حمض HNO_3 تركيزه 1 M

د. محلول قاعدي تركيز $[\text{H}_3\text{O}^+]$ فيه أقل ما يمكن.

هـ. محلول أيوناته لا تتفاعل مع الماء.

9. يحتوي الجدول الآتي على بعض الحموض والقواعد

الضعيفة متساوية التركيز 0.1 M وقيم K_a و K_b لها. أدرس هذه المعلومات، ثمّ أجب عن الأسئلة التي تليها:

المحلول	ثابت التاين
HNO_2	$K_a = 4.5 \times 10^{-4}$
HCOOH	$K_a = 1.7 \times 10^{-4}$
HClO	$K_a = 3.5 \times 10^{-8}$
N_2H_4	$K_b = 1.7 \times 10^{-6}$
$\text{C}_5\text{H}_5\text{N}$	$K_b = 1.4 \times 10^{-9}$
$\text{C}_2\text{H}_5\text{NH}_2$	$K_b = 4.7 \times 10^{-4}$

أ. أحسب تركيز $[\text{H}_3\text{O}^+]$ في محلول HClO .

ب. أحدد أيّ المحلولين يحتوي على تركيز أعلى من

$[\text{OH}^-]$: محلول HClO أم محلول HNO_2 .

المحلول	معلومات تتعلق بالمحلول
الحمض HC	$[H_3O^+] = 8 \times 10^{-3} M$
الحمض HD	$K_a = 4.9 \times 10^{-10}$
القاعدة B	$K_b = 1 \times 10^{-6}$
الملح KX	pH = 9
الملح KZ	$[OH^-] = 1 \times 10^{-3} M$

- أ. أيهما أضعف الحمض HX أم الحمض HZ؟
 ب. أكتب معادلة لتفاعل محلول الحمض HD مع الأيون C^- ثم:
 • أحدد الزوجين المترافقين في المحلول.
 • أتوقع الجهة التي يرجحها الاتزان في التفاعل.
 ج. أستنتج القاعدة المرافقة الأضعف: D^- أم C^- .
 د. أحسب تركيز H_3O^+ في محلول مكوّن من القاعدة B التي تركيزها 1M، والملح BHCl الذي تركيزه 0.5 M.

13. اختار الإجابة الصحيحة لكل فقرة في ما يأتي:

1. يكون تركيز الأيونات الناتجة عن تأين أحد المحاليل الآتية في الماء عند الظروف نفسها أعلى ما يمكن:
 أ. NH_3 ب. NaOH ج. HCOOH د. HClO
 2. اعتماداً على المعادلة $(HA + H_2O \rightleftharpoons H_3O^+ + A^-)$ ، فإن العبارة الصحيحة:
 أ. يتأين الحمض HA كلياً.
 ب. الحمض HA يختفي من المحلول.
 ج. الحمض HA ضعيف.
 د. لا يوجد أزواج مترافقة في المعادلة.
 3. القاعدة المرافقة الأضعف في ما يأتي، هي:
 أ. NO_3^- ب. OCl^- ج. F^- د. CN^-

ج. أحدد أيّ الملحّين أكثر قدرة على التميّه: KNO_2 أم HCOOK

د. أقرّر أيّهما أقوى: الحمض المرافق للقاعدة C_5H_5N أم الحمض المرافق للقاعدة $C_2H_5NH_2$.

هـ. أحدد أيّ المحلولين يحتوي على تركيز أعلى من $[H_3O^+]$: محلول C_5H_5N أم محلول $C_2H_5NH_2$.

و. أحدد أيّ المحلولين له أعلى رقم هيدروجيني (pH): محلول N_2H_5Cl أم $C_2H_5NH_3Cl$.

ز. أحسب الرقم الهيدروجيني لمحلول HCOOH عند إضافة 0.2 mol من الملح HCOONa إلى لتر من المحلول.

10. أحسب pH لمحلول يتكوّن من حمض HNO_2 والملح KNO_2 لهما التركيز نفسه، وثابت تأين الحمض $K_a = 4.5 \times 10^{-4}$

11. أتوقع ما يحدث لقيمة pH في الحالات الآتية (تقل، تزداد، تبقى ثابتة): (أهمل التغير في الحجم)

أ. إضافة كمية قليلة من بلورات كربونات الصوديوم الهيدروجينية $NaHCO_3$ إلى 500 mL من محلول حمض الكربونيك H_2CO_3 .

ب. إضافة كمية قليلة من بلورات $N_2H_5NO_3$ إلى 500 mL من محلول القاعدة N_2H_4 .

ج. إضافة كمية قليلة من بلورات كلوريد الليثيوم LiCl إلى 500 mL من محلول حمض الهيدروكلوريك HCl.

12. يبيّن الجدول الآتي عدد من المحاليل تركيز كل منها، 1M وبعض المعلومات المتعلقة بها. أدرسه، ثم أجب عن الأسئلة الآتية:

4. المادة التي لم يتمكّن مفهوم أرهينوس من تفسير سلوك محلولها:
أ. HCl . ب. NaCN . ج. HCOOH . د. NaOH
5. أحد الأيونات الآتية لا يُعدّ أمفوتيريًا:
أ. $H_2PO_4^-$. ب. HS^- . ج. HCO_3^- . د. $HCOO^-$
6. المادّة التي تتأين في الماء وتنتج أيون الهيدروكسيد (OH^-) ، هي:
أ. حمض أرهينوس . ب. قاعدة لويس
ج. قاعدة أرهينوس . د. قاعدة برونستد-لوري
7. المادّة التي تستطيع استقبال زوج من الإلكترونات غير الرابطة من مادّة أخرى، هي:
أ. F^- . ب. Cu^{2+} . ج. BF_4^- . د. CO_3^{2-}
8. إذا كان تركيز $[H_3O^+]$ في محلول ما تساوي $2 \times 10^{-2} M$ ، فإنّ $[OH^-]$ هو:
أ. $1 \times 10^{-2} M$. ب. $2 \times 10^{-12} M$
ج. $1 \times 10^{-10} M$. د. $5 \times 10^{-13} M$
9. في محلول HBr يكون:
أ. عددٌ مولات H_3O^+ مساوٍ لعدد عددٍ مولات OH^-
ب. عددٌ مولات H_3O^+ أقل من عددٍ مولات OH^-
ج. عددٌ مولات H_3O^+ مساوٍ لعدد مولات HBr المذابة
د. عددٌ مولات Br^- مساوٍ لعدد مولات OH^-
10. المحلول الذي له أعلى pH في المحاليل الآتية التي لها التركيز نفسه، هو:
أ. NH_4Cl . ب. HBr . ج. NaCl . د. NH_3
11. المحلول الذي له أقل قيمة pH من المحاليل الآتية المتساوية في التركيز، هو:
أ. KNO_3 . ب. NaOH . ج. HNO_2 . د. HNO_3
12. المحلول الذي له أقل تركيز H_3O^+ من المحاليل الآتية المتساوية التركيز، هو:
أ. HCl . ب. N_2H_5Br . ج. KNO_2 . د. NH_4Cl
13. ترتيب المحاليل المائيّة للمركبات الآتية $(LiOH, N_2H_5Cl, KNO_2, NaCl)$ المتساوية في التركيز حسب رقيمها الهيدروجيني pH، هو:
أ. $KNO_2 > N_2H_5Cl > NaCl > LiOH$
ب. $LiOH > KNO_2 > N_2H_5Cl > NaCl$
ج. $N_2H_5Cl > NaCl > KNO_2 > LiOH$
د. $LiOH > KNO_2 > NaCl > N_2H_5Cl$
14. ينتج الأيون المشترك $N_2H_5^+$ من المحلول المكوّن من:
أ. N_2H_4/HNO_3 . ب. N_2H_5Br/HBr
ج. N_2H_4/H_2O . د. $N_2H_5NO_3/N_2H_4$
15. قاعدة لويس في التفاعل الآتي:
 $Fe^{3+} + 6CN^- \rightleftharpoons [Fe(CN)_6]^{3-}$ هي:
أ. $[Fe(CN)_6]^{3-}$. ب. CN^-
ج. Fe^{3+} . د. OH^-
16. عجز أرهينوس عن تفسير السلوك الحمضي لأحد محاليل المواد الآتية:
أ. CH_3NH_3Cl . ب. HBr
ج. HF . د. CH_3COOH
17. الزوج المترافق الناتج عن تفاعل N_2H_4 مع الماء، هو:
أ. $H_2O/N_2H_5^+$. ب. N_2H_4/OH^-
ج. $N_2H_5^+/H_3O^+$. د. $N_2H_4/N_2H_5^+$

18. تترتب القواعد CH_3NH_2 و NH_3 ، N_2H_4 حسب قوتها كما يلي
متساوية التراكيز حسب قوتها كما يلي
 $\text{N}_2\text{H}_4 < \text{NH}_3 < \text{CH}_3\text{NH}_2$ فإن الترتيب الصحيح
لقوة الحموض المرافقة لها، هو:
أ. $\text{NH}_4^+ < \text{CH}_3\text{NH}_3^+ < \text{N}_2\text{H}_5^+$
ب. $\text{CH}_3\text{NH}_3^+ < \text{NH}_4^+ < \text{N}_2\text{H}_5^+$
ج. $\text{N}_2\text{H}_5^+ < \text{NH}_4^+ < \text{CH}_3\text{NH}_3^+$
د. $\text{CH}_3\text{NH}_3^+ < \text{N}_2\text{H}_5^+ < \text{NH}_4^+$
19. في التفاعل $\text{HCN} + \text{H}_2\text{O} \rightleftharpoons \text{CN}^- + \text{H}_3\text{O}^+$ ،
إذا كان الاتزان مزاحاً نحو تكوين المواد المتفاعلة،
فإن صيغة الحمض الأقوى هي:
أ. HCN ب. H_2O
ج. H_3O^+ د. CN^-
20. محلول حمض الهيدروكلوريك HCl تركيزه
(0.001 M)، فإن قيمة pOH له:
أ. 3 ب. 7
ج. 11 د. 14
21. المحلول الذي له أقل pH من محاليل المواد الآتية
المتساوية التركيز، هو:
أ. HNO_3 ب. HCN
ج. NH_3 د. KOH
22. محلول حمض تركيزه (0.04 M)، وتركيز أيونات
 OH^- (1×10^{-9} M)، فإن قيمة K_a له تساوي:
أ. 3.7×10^{-4} ب. 2.5×10^{-9}
ج. 4×10^{-3} د. 1×10^{-6}
23. الملح الذي يُعد ذوبانه في الماء تميهاً هو:
أ. KI ب. KBr
ج. KF د. KCl
24. أحد الآتية زوج مترافق ينتج من تفاعل HF مع
 HSO_3^- هو:
أ. $\text{HSO}_3^- / \text{H}_2\text{SO}_3$ ب. $\text{HSO}_3^- / \text{SO}_3^-$
ج. $\text{HSO}_3^- / \text{SO}_3^{-2}$ د. $\text{HSO}_3^- / \text{F}^-$
25. أحد محاليل المواد الآتية المتساوية التركيز يكون
فيه تركيز $[\text{OH}^-]$ الأعلى، هو:
أ. NH_4Cl ب. KCN
ج. KNO_3 د. KBr

مسرد المصطلحات

- نظرية الحركة الجزيئية **Kinetic Molecular Theory**: نظرية تصف سلوك جسيمات المادة اعتماداً على أتمها في حركة دائمة ومستمرة وقد فسرت هذه النظرية سلوك المواد الصلبة والسائلة والغازية اعتماداً على الطاقة الحركية للجسيمات وقوى التجاذب بينها.
- الغاز المثالي **Ideal Gas**: غاز افتراضي حجم جسيماته يساوي صفراً وقوى التجاذب بينها معدومة.
- التصادمات المرنة **Elastic Collision**: تصادمات بين جسيمات يبقى مجموع الطاقة الحركية خلالها محفوظاً.
- القابلية للانضغاط **Compressibility**: تقارب الجسيمات عند التأثير فيها بضغط فيقل الحجم الذي تشغله.
- قانون بويل **Boyle's Law**: حجم كمية محددة من الغاز المحصور يتناسب عكسياً مع ضغطه عند ثبات درجة حرارته.
- قانون شارل **Charles's Law**: حجم كمية محددة من الغاز المحصور يتناسب طردياً مع درجة حرارته المطلقة عند ثبات ضغطه.
- قانون جاي - لوساك **Gay-Lussac's Law**: ضغط كمية محددة من الغاز المحصور يتناسب طردياً مع درجة حرارته المطلقة عند ثبات حجمه.
- القانون الجامع **Combined Law**: قانون يصف العلاقة بين حجم كمية محددة من الغاز المحصور وضغطه ودرجة حرارته المطلقة.
- قانون أفوجادرو **Avogadro's Law**: الحجم المتساوية من غازات تحتوي على عدد الجسيمات نفسه عند الظروف نفسها من الضغط ودرجة الحرارة.
- قانون الغاز المثالي **Ideal Gas Law**: العلاقة $PV = nRT$ ، التي تصف سلوك الغاز المثالي.
- الحجم المولي **Molar Volume**: حجم مول واحد من الغاز في الظروف المعيارية.
- الضغط الجزئي للغاز **Partial Pressure**: الضغط الذي يؤثر به الغاز في خليط من الغازات غير المتفاعلة.
- قانون دالتون للضغوط الجزئية **Dalton's Law Of Partial Pressures**: الضغط الكلي لخليط من الغازات غير المتفاعلة يساوي مجموع الضغوط الجزئية للغازات المكونة للخليط.
- الضغط البخاري **Vapor Pressure**: ضغط بخار السائل في حالة الاتزان عند درجة حرارة معينة.
- درجة الغليان المعيارية **Normal Boiling Point**: درجة الحرارة التي يصبح عندها ضغط بخار السائل مساوياً لواحد ضغط جوي 760 mmHg .
- مادة صلبة بلورية **Crystalline Solids**: المادة الصلبة التي تتكون من بلورات ذات أشكال هندسية منتظمة.
- مادة صلبة غير بلورية **Amorphous Solids**: المادة الصلبة التي لا ترتب جسيماتها لتتكون أشكالاً هندسية منتظمة.
- مادة صلبة جزيئية **Molecular Solids**: المادة الصلبة التي تتكون جسيماتها من جزيئات.
- مادة صلبة فلزية **Metallic Solids**: المادة الصلبة التي تتكون جسيماتها من فلزات ترتبط برباطة فلزية.
- مادة صلبة أيونية **Ionic Solids**: المادة الصلبة التي تتكون جسيماتها من أيونات ترتبط برباطة أيونية.
- مادة صلبة شبكية تساهمية **Covalent Network Solids**: المادة الصلبة التي تتكون جسيماتها من ذرات ترتبط برباطة تساهمية في بناء شبكي صلب.
- المخلوط المعلق **Suspension Mixture**: مخلوط غير متجانس متمزج مكوناته مع بعضها بعضاً، وتوزع على نحو غير منتظم في أجزائه، يتميز بكمية حجم جسيماته التي يزيد قطرها على (1000 nm) .
- المخلوط الغروي **Colloidal Mixture**: مخلوط غير متجانس يتكون من جسيمات تنتشر أو تشتت خلال مادة أخرى تسمى وسط الانتشار، يتراوح قطرها بين $(1 \text{ nm} - 1000 \text{ nm})$.
- الإذابة **Solvation**: التجاذب بين جزيئات المذيب وجسيمات المذاب الذي يؤدي إلى التغلب على قوى التجاذب بين جسيمات المذاب فتحاط هذه الجسيمات بجزيئات المذيب مكونة المحلول.
- الذائبية **Solubility**: بأنها أكبر كتلة من المذاب التي يمكن أن تذوب في 100 g من المذيب عند درجة حرارة معينة، أو كمية المذاب اللازمة لعمل محلول مشبع في 100 g من المذيب عند درجة حرارة معينة.
- قانون هنري **Henry's Law**: ذائبية الغاز في سائل ما تتناسب طردياً مع الضغط المؤثر في سطح السائل عند ثبات درجة الحرارة.
- الانخفاض في الضغط البخاري **Vapor Pressure Lowering**: انخفاض الضغط البخاري لمذيب نقي متطاير عند إذابة مادة غير متطايرة فيه.
- الارتفاع في درجة الغليان **Boiling Point Elevation**: الفرق بين درجة غليان المذيب النقي والمحلول.
- الانخفاض في درجة التجمد **Freezing Point Depression**: الفرق بين درجة تجمد المحلول ودرجة تجمد المذيب النقي.
- التفاعلات غير المنعكسة **Irreversible Reactions**: تفاعلات تسري باتجاه واحد نحو تكوين المواد الناتجة.

- التفاعلات المنعكسة **Reversible Reaction**: تفاعلات تحدث بالاتجاهين الأمامي والعكسي في الوقت نفسه.
- التفاعل الأمامي **Forward reaction**: التفاعل الذي يحدث باتجاه تكوين المواد الناتجة في التفاعل المنعكس.
- التفاعل العكسي **Reverse Reaction**: التفاعل الذي يحدث باتجاه تكوين المواد المتفاعلة في التفاعل المنعكس.
- الاتزان الكيميائي **Chemical Equilibrium**: حالة يصل إليها التفاعل ويستمر عندها حدوث التفاعل بالاتجاهين الأمامي والعكسي بالسرعة نفسها.
- سرعة التفاعل الأمامي **Forward reaction Rate**: السرعة التي تتحول فيها المواد المتفاعلة إلى مواد ناتجة في التفاعل المنعكس.
- سرعة التفاعل العكسي **Reverse Reaction Rate**: السرعة التي تتحول فيها المواد الناتجة إلى مواد متفاعلة في التفاعل المنعكس.
- موضع الاتزان **Equilibrium Position**: حالة الاتزان التي تكون عندها نسبة المواد الناتجة أكبر من المواد المتفاعلة، ويكون الاتزان مُرَاحًا جهة المواد الناتجة، أو تكون نسبة المواد المتفاعلة أكبر من المواد الناتجة، ويكون الاتزان مُرَاحًا نحو المواد المتفاعلة.
- مبدأ لوتشاتيليه **Le Chatelier's Principle**: مبدأ ينص على أن "أي تغيير في أحد العوامل المؤثرة في الاتزان لتفاعل كيميائي مُتَرَنٍ يدفع التفاعل إلى تعديل موضع الاتزان للتقليل من أثر ذلك التغيير".
- العامل المساعد (الحفاز) **Catalyst**: مادة تزيد من سرعة التفاعل الكيميائي دون أن تُستهلك أثناء التفاعل.
- قانون فعل الكتلة **Mass Action Law**: قانون ينص أنه "عند درجة حرارة معينة يصل التفاعل إلى حالة تكون عندها نسبة تراكيز المواد الناتجة إلى تراكيز المواد المتفاعلة قيمة ثابتة".
- ثابت الاتزان **Equilibrium Constant**: تعبيرٌ يُمثل نسبة تراكيز المواد الناتجة إلى تراكيز المواد المتفاعلة، مرفوعًا كل منها إلى قوة تساوي معاملاتها في المعادلة الموزونة.
- الاتزان المتجانس **Homogeneous Equilibrium**: حالة الاتزان التي تكون فيها المواد المتفاعلة والناتجة جميعها في حالات فيزيائية نفسها سواء أكانت غازات أم محاليل.
- اتزان غير المتجانس **Heterogeneous Equilibrium**: حالة الاتزان التي تكون فيها المواد المتفاعلة والناتجة في حالة فيزيائية متنوعة (صلبة، أو سائلة، أو غازية).
- الأيون المشترك **Common Ion**: أيونٌ يدخل في تركيب مادتين مختلفتين (حمض ضعيف وملحه، أو قاعدة ضعيفة وملحها).
- أيون الهيدرونيوم **Hydronium Ion**: أيونٌ يتج من ارتباط أيون الهيدروجين بجزيء الماء برابطة تناسقية.
- التأين الذاتي للماء **Autoionization of Water**: بعض جزيئات الماء تسلك كحمض، وبعضها الآخر يسلك كقاعدة في الماء النقي نفسه.
- التَّمْيُه **Hydrolysis**: تفاعل أيونات الملح مع الماء، وإنتاج أيونات H_3O^+ أو OH^- .
- ثابت تأين الحمض **(Ka) Acid Dissociation Constant**: ثابت الاتزان لتأين الحمض الضعيف.
- ثابت تأين القاعدة **(Kb) Base Dissociation Constant**: ثابت الاتزان لتأين القاعدة الضعيف.
- ثابت تأين الماء **(Kw) Dissociation Constant for Water**: ثابت الاتزان لتأين الماء.
- حمض أرهينيوس **Arrhenius Acid**: مادةٌ تتأين في الماء، وتنتج أيون الهيدروجين (H^+).
- الحمض المرافق **Conjugate Acid**: المادة الناتجة من استقبال القاعدة للبروتون.
- حمض برونستد - لوري **Bronsted-Lowry**: مادةٌ يمكنها منح بروتون واحد في أثناء التفاعل (مانح للبروتون).
- حمض لويس **Lewis Acid**: مادةٌ يمكنها استقبال زوج إلكترونات أو أكثر في التفاعل.
- الرقم الهيدروجيني **(pH) Hydrogen Power**: اللوغاريتم السالب لتركيز أيون الهيدرونيوم H_3O^+ في المحلول للأساس 10.
- قاعدة أرهينيوس **Arrhenius Base**: مادةٌ تتأين في الماء، وتنتج أيون الهيدروكسيد OH^- .
- القاعدة المرافقة **Conjugate Base**: المادة الناتجة من منح الحمض للبروتون.
- قاعدة برونستد - لوري **Bronsted-Lowry**: مادةٌ يمكنها استقبال بروتون واحد في أثناء التفاعل (مستقبل للبروتون).
- قاعدة لويس **Lewis Base**: مادةٌ يمكنها منح زوج إلكترونات في التفاعل.
- الكواشف **Indicators**: مَحْوُضٌ عضويّ ضعيف أو قواعد عضويّة ضعيفة يتغير لونها في الحالة المتأينة عن الحالة غير المتأينة في مدى معين من الرقم الهيدروجيني.
- مادة أمفوتيرية أو مترددة **Amphoteric Substance**: مادةٌ تسلك كحمض في تفاعل وتسلك كقاعدة في تفاعلات أخرى.